



جامعة البصرة
كلية الإدارة والاقتصاد
قسم إدارة الأعمال

اسئلة

كافة المراحل

الدور الثاني

للكورسين الاول و الثاني
الدراسات الصباحية والمسائية

للعام الدراسي 2023-2024



جامعة البصرة
كلية الادارة والاقتصاد
قسم إدارة الأعمال



جدول امتحان الدور الثاني الكورسين الاول والثاني للعام الدراسي 2023-2024 الدراسات الصباحية والمسائية

ت	اليوم	التاريخ	المرحلة الاولى	المرحلة الثانية	المرحلة الثالثة	المرحلة الرابعة
1	الاحد	2024-06-23	مبادئ إدارة الأعمال 1	نظرية منظمة	الادارة المالية 1	اللغة الانكليزية
2	الاثنين	2024-06-24	مبادئ لإقتصاد 1	المحاسبة المتوسطة	إدارة المصارف	تكنولوجيا المعلومات الادارية
	الثلاثاء	2024-06-25				
3	الاربعاء	2024-06-26	مبادئ المحاسبة 1	حاسوب 1 EXCEL	اللغة الانكليزية	إدارة العقود الحكومية
4	الخميس	2024-06-27	قراءات ادارية E	إدارة المواد والمخازن	اقتصاديات الأعمال	إدارة الإنتاج والعمليات
	الجمعة	2024-06-28				
5	السبت	2024-06-29	الرياضيات للإدارة الاعمال	إدارة التسويق	إدارة الاستراتيجية	إدارة المخاطر
6	الاحد	2024-06-30	حاسوب 1 word	إدارة الموارد البشرية	بحوث العمليات	إدارة الأعمال الدولية
7	الاثنين	2024-07-01	لغة عربية	القانون التجاري	محاسبة تكاليف 1	مناهج واخلاقيات البحث العلمي
8	الثلاثاء	2024-07-02	مبادئ إدارة الاعمال 2	إدارة الامدادات	إدارة المشاريع	إدارة التفاوض
9	الاربعاء	2024-07-03	مبادئ اقتصاد 2	جرائم نظام البحث في العراق	التفكير الاستراتيجي	إدارة المعرفة
10	الخميس	2024-07-04	حقوق وحرديات	السلوك التنظيمي	إدارة المالية 2	حوكمة الشركات
	الجمعة	2024-07-05				
11	السبت	2024-07-06	الاحصاء للإدارة	حاسوب 2 Excel	تطبيقات المشاريع	إدارة المحفظة
	الاحد	2024-07-07				
12	الاثنين	2024-07-08	حاسوب 2 ppt	بحوث التسويق	QSB	إدارة الجودة
13	الثلاثاء	2024-07-09	مراسلات ادارية	محاسبة متوسطة	إدارة التامين	
14	الاربعاء	2024-07-10	مبادئ محاسبة 2	اللغة الانكليزية	محاسبة تكاليف 2	
	الخميس	2024-07-11				
	الجمعة	2024-07-12				
15	السبت	2024-07-13		إدارة راس المال الفكري	إدارة الامدادات	
	الاحد	2024-07-14				
16	الاثنين	2024-07-15	اللغة الانكليزية	تجارة الكترونية	دراسات جدوى	

يبدأ امتحان الدراسات الصباحية والمسائية الساعة (9:00) صباحاً
على الطالب ابراز الهوية الجامعية أو جنسية الاحوال المدنية (إذا لم تكون لديه هوية)
الالتزام بالزي الموحد

عدم ادخال اجهزة الهواتف المحمولة إلى القاعة الامتحانية
تهيئة كافة مستلزمات الامتحانية (قرطاسية) ، وحاسبة للمواد التي تتطلب ذلك



جامعة البصرة
كلية الإدارة والاقتصاد
قسم إدارة الأعمال

اسئلة

المرحلة الاولى

الدور الثاني

للكورسين الاول و الثاني
الدراسات الصباحية والمسائية

للعام الدراسي 2023-2024

المادة: الإدارة ١
المرحلة: الأولى
الوقت: ساعتان
التاريخ: ٢٤/٠٦/٢٠٢٤



أسئلة الامتحان
النهائي
الدور - الثاني
الكورس الاول
للعام الدراسي
٢٠٢٤/٢٠٢٣



جامعة البصرة
كلية الإدارة والاقتصاد
قسم ادارة الاعمال
الدراسات الصباحية
والمسابية

(لكل سؤال ١٢,٥)

- ملاحظة / الاجابة عن أربعة أسئلة فقط وتوزع الدرجات بالتساوي**
السؤال الاول أختار الاجابة الصحيحة بما يناسبها من الفقرات التالية
١- الوظيفة التي تتعلق بأساليب الحصول على الاموال وتخصيصها لمختلف الانشطة بطريقة مثلى مع مراقبة حركة راس المال في المنظمة هي :
(أ - النشاط المالي ب- النشاط المحاسبي ج- النشاط التجاري د- النشاط الاداري)
- ٢- حالة أوضع مستقبلي المرغوب تسعى المنظمة للوصول اليه هو :
أ- الخطة ب- التخطيط ج- الهدف د- التنظيم)
- ٣- جميع الاتي يمثل مكونات البيئة الخارجية العامة للمنظمة ماعدا واحدة فقط
(أ- القوى الاقتصادية ب- القوى التكنولوجية ج- المالكون د- البعد الدولي)
- ٤- جميع الادوار التالية هي ادوار قراريه ماعدا واحدة فقط هي :
(اسمعاج الاضطرابات أو الاشكالات ب- الناطق الرسمي بأسم المنظمة ج- موزع الموارد د - الريادي)
- ٥- واحدة من بين الاتي تعتبر من انواع الرقابة حسب المستوى هي
(أ- الرقابة الهيكلية ب- الرقابة قبل التنفيذ ج- الرقابة على الموارد البشرية د- الرقابة على المعلوماتية)

السؤال الثاني / صحح ما تحته خط فقط

- ١- **الفاعلية** هي العلاقة بين كمية ونوع الاداء واستغلال الموارد بعبارة أخرى هي حاصل قسمة قيمة المخرجات على قيمة المدخلات
- ٢- يعتبر ماكس فيبر الرائد الاول لاتجاه **الإدارة العلمية**
- ٣- **التغيير البني** هو وجود قدرات محورية اساسية تسمح للمنظمة بالتفوق والتميز على المنافسين الاخرين
- ٤- **الاهداف التكتيكية** هي نتائج محددة تروم الاقسام الصغيرة والمجموعات والافراد الوصول اليها وتكون مقاسة ومحددة
- ٥- **الرقابة على الموارد المادية** تركز على رقابة عمليات تحويل الموارد والمدخلات الى منتجات في شكل سلع وخدمات

السؤال الثالث / عدد وأشرح متغيرات وابعاد البيئة الخاصة (بيئة المهمة)

السؤال الرابع / أجب عن الاتي :

- ١- عدد فقط المبادئ الادارية الاربعة عشر لفايول
- ٢- وضح بالرسم فقط مراحل العملية التخطيطية

السؤال الخامس / عدد واشرح أنواع المدراء و فق النظرة الأفقية

رئيس القسم
د. هادي عبد الوهاب

مع تمنياتي لكم بالنجاح
مدرس المادة
م. علي نصيف صبر
العميد
د. عبدالحسين توفيق شبلي

مدرس المادة
م. ناجي صالح ضهد

المادة: اقتصاد ١
المرحلة: الاولى
الوقت: ساعتان
التاريخ: ١٦/٢٠٢٤



اسئله الامتحان
النهائي
الدور - الثاني
الكورس الاول
للعام الدراسي
٢٠٢٤/٢٠٢٣



جامعة البصرة
كلية الإدارة والاقتصاد
قسم ادارة الاعمال
الدراسات الصباحية
والمسائية

ملاحظة / الاجابة على خمسة اسئلة فقط . توزع الدرجات بالتساوي ولكل سؤال ١٠ درجات .
س ١/ املأ الفراغات الاتية بما يناسبها:

- ١- يعرف ----- علم الاقتصاد بأنه الكيفية التي يختار بها الافراد والمجتمع الطريقة التي بواسطتها يستخدمون الموارد الانتاجية النادرة لإنتاج السلع المختلفة .
- ٢- هناك علاقة عكسية بين المنفعة الحدية للسلعة وكمية تلك السلعة المستهلكة ، هو مضمون قانون -----
- ٣- اعتقدت المدرسة ----- ان القوانين الاقتصادية هي قوانين عامة وليست نسبية .
- ٤- ان اساس قيام المجتمع الاقتصادي هو -----
- ٥- اذا كانت هناك توليفات مكونة من كميات مختلفة من كلا السلعتين (x,y) تحقق الاشباع نفسة ، فمن غير المنطقي ان يتجه منحني السواء -----

س ٢/ ضع كلمة صح امام العبارة الصحيحه وكلمة خطأ امام العبارة الخاطئة لكل مما يأتي :

- ١- المشكلة الاقتصادية هي تقابل موارد نادرة وحاجات غير محدودة .
- ٢- اذا كانت المنفعة الحدية متناقصة وموجبة فإن المنفعة الكلية متزايدة وسالبة .
- ٣- ان $(-\frac{\Delta y}{\Delta x})$ يعني تحرك المستهلك من اعلى اليسار الى اسفل اليمين .
- ٤- عند انخفاض السعر فإن فائض المستهلك يتزايد .
- ٥- الاسهم لا تحتسب ضمن الثروة لانها حقوق على السلع الاقتصادية .

س ٣/ اذا توفرت لديك البيانات في الجدول :

ارسم منحني سواء المستهلك ؟
ثم احسب MRS عند تحرك المستهلك من اسفل اليمين الى اعلى اليسار وضعه في جدول ؟

Group	X	Y
A	1	30
B	2	20
C	3	12
D	4	6
E	5	2

س ٤/ ا/ وضح مراحل العلاقة بين (TU) و (MU) معززاً اجابتك بالرسم لهذه العلاقة ؟
ب/ ما هو الفرق بين التوليفات الغير رشيدة والتوليفات الغير ممكنة للمستهلك ؟

س ٥ / مستهلك دخله ($M=500$) يريد انفاقه على السلعتين (X, Y) اذا علمت ان ($P_x=50$) و ($P_y=20$) ، اكتب معادلة قيد الميزانية ؟ احتساب اقصى كمية يمكن شراؤها من السلعة X واقصى كمية يمكن شراؤها من السلعة Y ؟ مع رسم خط الميزانية .


س ٦ / أ / اشتق العلاقة بين (MRS) للسلعتين (X, Y) و (MU) للسلعتين (X, Y) عند تحرك المستهلك


من اعلى اليسار الى اسفل اليمين ؟

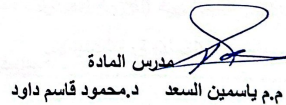
ب / اكمل الجدول واستخرج فائض المستهلك ؟

فائض المستهلك (\$)	الاتفاق الكلي الفعلي (\$)	الاتفاق الكلي الاقصى (\$)	الكمية (وحدة)	السعر (\$)
			1	13
			2	11
			3	10
			4	8.5
			5	7

مع تمنياتي لكم بالنجاح


العميد
د. عبدالحسين توفيق شبلي


رئيس القسم
د. هادي عبد الوهاب


مدرس المادة
د. محمد ياسين السعيد



ملاحظة:- الإجابة على اربعة اسئلة فقط وتوزع الدرجات بالتساوي

س1/الاتي العمليات التي حدثت في سجلات شركة الاحمد التجارية للعام 2017:

- 1-بدأت الشركة نشاطها التجاري براس مال قدره 5000000 دينار تم ايداعها في الصندوق
 - 2-في 1/15 قامت الشركة بشراء اثاث بمبلغ 1000000 دينار نقدا
 - 3-في 3/1 قامت الشركة بشراء بضاعة من شركة الامل بمبلغ 1500000 دينار على الحساب
 - 4-في 3/5 باعت الشركة بضاعة بقيمة 500000 دينار الى شركة الفيصل التجارية واستلمت قيمتها نقدا
 - 5-في 3/15 باعت الشركة بضاعة بمبلغ 850000 دينار الى شركة السعادة التجارية بالاجل
 - 6-في 4/2 قامت الشركة بسداد المستحق لشركة الامل نقدا
 - 7-في 4/25 سددت الشركة مصاريف ماء وكهرباء البالغة 100000 دينار نقد
 - 8-في 5/3 قامت الشركة بشراء سيارة بمبلغ 3000000 دينار من معرض الخورة تم سداد نصفها نقدا والباقي يسجل بذمة الشركة
 - 9-في 6/1 تم زيادة راس المال بمبلغ 2500000 دينار على ان يتم ايداع 70% منه في حساب الشركة لدى المصرف والباقي قدم بشكل سيارات .
 - 10-في 6/15 تم دفع اجور تصليح سيارة مالك الشركة البالغة 750000 دينار نقدا
المطلوب /
- أ-تسجيل القيود المحاسبية اللازمة للعمليات اعلاه في سجل يومية الشركة للعام 2017 .
ب- الترحيل لحساب الصندوق وترصيده.

س2/بين اثر العمليات الاتية على معادلة الميزانية .

- 1-بدأ سعيد نشاطه التجاري بايداع مبلغ 200000 دينار نقدا في صندوق منشأته التجارية .
- 2-سحب سعيد مبلغ 20000 دينار نقدا لغرض دفع مصاريف شخصية.
- 3-شراء بضاعة بمبلغ 40000 دينار من التاجر ضياء على الحساب .
- 4-تسديد مانسبته 20% من مستحقات التاجر ضياء نقدا.
- 5-تسديد المتبقي من دين التاجر ضياء نقدا.

س3// في 2013/1/1 كانت اصول وخصوم شركة الخير كالاتي (30000 اثاث ، 32000 بضاعة ، 12000 مدينون ، 5000 نقدية ، 4000 دانتون ،)

وفي 2013/12/31 كانت الاصول والخصوم كالاتي (3000 اثاث، 12000 بضاعة، 32000 مدينون، 12000 نقدية، 6000 دانتون) وخلال الفترة المالية تم اضافة 20000 الى راس المال وبلغت المسحوبات الشخصية (2000

المطلوب//تحديد نتيجة الاعمال عن السنة المنتهية في 2013/12/31 وفق طريقة القيد المفرد.

س4// اذناه حساب النقدية في الصندوق في سجل استاذ احدى الشركات التجارية والمطلوب اثبات قيود اليومية الظاهرة في ح/الصندوق في سجل اليومية العامة وحسب تسلسلها التاريخي؟؟

ح/الصندوق

التاريخ	البيان	الدائن	التاريخ	البيان	المدين
2005/2/4	ح/المشتريات	2600	2005/2/1	ح/راس المال	3400
2005/2/9	ح/الدانتون	180	2005/2/7	ح/المبيعات	600
2005/2/28	ح/الاجور	80	2005/2/15	ح/البنك	350
2000/2/28	ح/المسحوبات الشخصية	70	2005/2/20	ح/المدينون	250

س5// الاتي الارصدة الظاهرة في سجلات شركة الانوار في 2013/12/31 (12750000 الصندوق ، 6000000 البضاعة، 4500000 المدينون(احمد) ، 8000000 الدانتون (سالم) ، 9000000 الاراضي، 6000000 المباني ، العمليات الاتي حدثت في سنة 2014

1/2 اشترى بضاعة من سالم بمبلغ 2500000 بخصم تجاري 15% وشروط دفع 10/2 ، 15/1 ، ن/30

1/4 باع بضاعة الى احمد بمبلغ 4000000 بخصم تجاري 10% وشروط دفع 10/3 ، 15/2 ، 20/1 ، ن/30

في 1/8 سدد الى سالم 2000000 دينار نقدا من قيمة البضاعة المشتراة في 1/2

في 1/10 سدد احمد كل المبالغ المستحقة عليه نقدا

في 1/17 سدد الى سالم المبالغ التي بذمته بشيك

المطلوب//تسجيل القيود اليومية اللازمة في سجلات الشركة؟

مع تمنيننا لكم بالنجاح

رئيس القسم

أ.م. د. هادي عبدالوهاب

مدرسا المادتي

أ.م. د. عبدالكريم عبدالرحيم

م.م. محمد فرج حنون

Subject: Managerial Readings
stage: First year
Time: Two hours
Date: 27/6/2024



Final Exam
Second attempt
2023/2024



University of Basrah
College of Administration
and Economics
Department of Business
Administration

Note: Answer five questions only (each question will be given 10 marks)

Q1/ Read the following sentences then full their blanks by using the correct answer for each sentence from its below options.

1. Directing is the management function that involve to engaged in the work behavior necessary to reach organizational goals.
A. influencing others b. arranging human c. tabulating data d. human activity
2. Managers must understand how the four management must be practiced not only how they are defined and related.
a. levels b. stages c. perspectives d. functions
3. Financial managers are responsible for
4. level managers are those managers having the least authority
A. Middle b. Top c. Operational d. Strategic
5. Technical skills are skills that involve the ability to apply specialized.....
A. goals b knowledge c. policies d. levels
6. Tylor believed that organization should study tasks and develop precise
a. procedures b. plans c. policies d. strategies
7. Planning is function that involve separate processes
A. two b three c. four d. five
8. When managers move from lower level management to upper level management skills become more important.
a. human b. conceptual c. technical d. tactical
9. Human Resource Managers are responsible for hiring and employees.
a. controlling b. coordinating c. developing d. organizing
10. managers are those managers responsible for implementing policies and plans
a. Strategic level b. Top level c. Operational level d. Middle level

Q2/ Give the definitions for the following:

1. Conceptual Skills
2. Management
3. Marketing Management
4. Organizing
5. Manager

Q3/ Read the following statements and write T if the statement is true and write F if the statement is false.

1. Fredrick Taylor is often called the father of scientific management.
2. The four management functions are interrelated because the performance of one depends on the performance of the others.
3. The progress of specialized tasks and the development within organizations came with rapid marketing philosophy.
4. Max weber believed that organizations should study tasks and develop precise procedures.
5. Management is an organized set of operations that associated with a particular office or position.
6. Planning is the management function that is aimed at regulating organizational activities so that the expected performance conforms to expected organizational standards and goals.
7. Unity of command means employees should receive orders from many superiors.
8. Mary Parker Follett brought to management the perspective of statistical and mathematic science.
9. Elton Mayo conducted his studies at the Hawthrone work plant of the Western Electric Company in Chicago from 1924 to 1932.
10. Controlling is the management function that is aimed at regulating organizational activities so that the actual performance conforms to expected organizational standards and goals.

Q4/ What are the main principles of the scientific management school (Frederick Taylor school)?

Q5/ Illustrate by a figure:

The interrelations of the four functions of management.

Q6/ Managerial roles can be divided into three major groups, explain them in detail?

Good luck & all the best

Dr. Abbas Abdulhameed
Lecturer

Dr. Shatha Ahmed
Lecturer

Dr. Hadi Abdulwatab
Head of department

Dr. Abdulhussein Tawfiq
The Dean



ملاحظة : الإجابة عن أربعة أسئلة ودرجة كل سؤال 12.5

السؤال الأول اختر الإجابة الصحيحة لما يلي

1- محددة المصفوفة $\begin{pmatrix} 1 & 0 & 0 \\ 0 & 6 & 0 \\ 0 & 0 & -1 \end{pmatrix}$ يساوي

A - صفر B - 1 C - 3 D - 6
2- معكوس المصفوفة ينتج

A - مصفوفة B - عدد ثابت C - مصفوفة الوحدة D - غير ذلك
3- من شروط تساوي المصفوفات

A - تساوي الدرجة B - تساوي عدد اعمدة مصفوفة اليسار عدد صفوف مصفوفة اليمين

C - تساوي العناصر المتناظرة ودرجة المصفوفتين D - غير ذلك

4- قيم x, y, z, w التي تحقق المعادلة ادناه

$$\begin{pmatrix} x & y \\ z & w \end{pmatrix} + \begin{pmatrix} -5 & 4 \\ 3 & 0 \end{pmatrix} = \begin{pmatrix} 6 & 2 \\ -2 & 0 \end{pmatrix}$$

A - $x=2, y=-2, z=11, w=0$ B - $x=-5, y=0, z=11, w=2$

D- غير ذلك C- $x=11, y=-2, z=-5, w=0$

5- ان اثر المصفوفة $\begin{bmatrix} 3 & 0 & 0 \\ 0 & 5 & 0 \\ 0 & 0 & 1 \end{bmatrix}$ هو

A- 9 B- 15 C- 1/15 D- ليس مما سبق

السؤال الثاني

ضع صح امام العبارات الصحيحة وخطأ امام العبارات الخاطئة لما يلي

1- إذا ابدل صف محل صف او عمود محل عمود آخر فان قيمة المحدد العددية تتغير فقط و إشارة لا تتغير .

2- اثر المصفوفة القطرية يساوي حاصل ضرب عناصر القطر الرئيسي

3- محدد حاصل ضرب مصفوفتين يساوي حاصل ضرب محددتي المصفوفتين

$$\begin{vmatrix} -3 & -5 & -2 \\ 0 & 6 & -3 \\ 6 & 10 & 4 \end{vmatrix} = 0 \quad - 4$$

5- اذا لتكن $B = \begin{bmatrix} 2 & 4 \\ 6 & 7 \end{bmatrix}$, فان $t_r(B \times A) = 87$

السؤال الثالث

اثبت ان $(A \times B)^T = B^T \times A^T$

$$A = \begin{bmatrix} 2 & 5 \\ 6 & -3 \end{bmatrix}, \quad B = \begin{bmatrix} 3 & 0 \\ -5 & 8 \end{bmatrix}$$

السؤال الرابع جد المصفوفة المرافقة للمصفوفة A حيث ان

$$A = \begin{bmatrix} 1 & 4 & 0 \\ 3 & 1 & 1 \\ 2 & 1 & 2 \end{bmatrix}$$

السؤال الخامس اذا علمت ان

$$A = \begin{pmatrix} 0 & 2 & 1 \\ -1 & 4 & 1 \\ 6 & 8 & 0 \end{pmatrix}; \quad B = \begin{pmatrix} 2 & 0 \\ -1 & 1 \\ 3 & 4 \end{pmatrix}$$

جد

$$AB + \begin{pmatrix} 1 & 0 \\ -1 & 2 \\ 2 & 3 \end{pmatrix}$$

مع تمنياتنا لكم بالنجاح

المعيد
أ.د. عبدالحسين توفيق شيلي

رئيس القسم
أ.د. هادي عبدالوهاب

مدرسين المادة
م.م. ياسل جبار

مدرسين المادة
أ.م. وفاء عبدالصمد عاشور



ملاحظة: الاجابة عن خمسة اسئلة. توزع الدرجات بالتساوي (لكل سؤال 10 درجات)

س1/ اختر الاجابة الصحيحة من النقاط التالية.

1-فتح مربع حوار الانتقال بين الصفحات من خلال الاختصار

ctrl + c- ctrl + d- -ctrl + f- ctrl + s - غير ذلك

2-تقع مجموعة رسومات توضيحية ضمن تبويب

- مراجع - مراسلات - ملف - عرض - غير ذلك

3- يعتبر شريط المهام من ضمن واجهه برنامج الورد

صح -خطأ

4-مجموعة والتي فيها ادوات القص والنسخ والصق ..الخ

-خط -انماط -نسق -فقرة -غير ذلك

5-فتح مربع حوار بحث واستبدال من خلال الاختصار

ctrl + f1- -ctrl + f4- ctrl + t - ctrl + b - غير ذلك

6- يستخدم لحفظ التغييرات التي تجري على المستند

-حفظ باسم -جديد -معلومات -فتح -غير ذلك

7-ايغاز صفحة غلاف يقع ضمن مجموعة

-الصفحة الرئيسية -ملف - اذارج -مراجعة -غير ذلك

8- الاسم الافتراضي لمستند فارغ جديد هو document 1

صح - خطأ

9- F7 لفتح نافذة التدقيق الاملائي للمستند

صح - خطأ

10- تقع مجموعة اعداد الصفحة ضمن تبويب

- مراجع - مراسلات - ملف - عرض - غير ذلك

س2/ عدد مكونات تبويب ملف ، مع شرح بالتفصيل ايعاز اخيرا وايغاز طباعة

س3/ وضح عمل الاختصارات التالية

CTRL+B-5 CTRL+F1-4 CTRL+X-3 CTRL+END-2 CTRL+M-1
CTRL+S -10 CTRL+* -9 CTRL+Z -8 CTRL+P-7 SHIFT+F4 -6

س4/ عرف ما يأتي

1-شريط التبويبات 2-مجموعة خط 3-اشرطة التمرير
4- مخطط Chart 5-شريط العنوان

س5/ اشرح اثنين مما يأتي

1-طرق ادراج الجدول 2-طريقة عمل حماية الملف 3-طرق انشاء مصنف جديد

س6/ اقرأ العبارة (توجد طريقة واحدة لتشغيل برنامج Microsoft word) ، اجب عن احد الفرعين

A- اذا كنت متفق مع العبارة اعلاه اكتب كلمة (صح) فقط
B- اذا كنت غير متفق مع العبارة اعلاه اكتب كلمة (خطأ) معزز اجابتك بذكر طرق تشغيل برنامج .word

رئيس القسم
أ. هادي عبدالوهاب عبدالامام

مع تمنياتي لكم بالنجاح والموفية..

مدرس المادة
م. عمار نزار مصطفى

مدرس المادة
م. ثائر خلف خشان

المادة: اللغة العربية
المرحلة: الأولى
الوقت: ساعتان



أسئلة الامتحان
النهائي
الدور - الثاني
الكورس الثاني
للعام الدراسي
٢٠٢٤/٢٠٢٣



جامعة البصرة
كلية الإدارة والاقتصاد
قسم ادارة الاعمال
الدراسات الصباحية
والمسائية

ملاحظة: الإجابة عن جميع الأسئلة .

السؤال الأول / مثل لما يأتي في جملة تامة لخمس نقاط فقط : (١٠) درجات

- ١) مبتدأ يأتي مصدرأ مؤولاً .
- ٢) خبر يأتي جملة فعية .
- ٣) اسم (كان) يأتي ضميراً بارزاً .
- ٤) خبر (إن) يأتي شبه جملة .
- ٥) حرف مشبه بالفعل يفيد الترجي .
- ٦) فعل ناقص يفيد النفي .
- ٧) ألفاظ العقود في حالة جمع المونث السالم .

السؤال الثاني / أجب عن فرعين فيما يأتي : (٢٠) درجة

- أ- عدد أغراض الشعر العربي مع شرح موجز لكل غرض منها .
- ب- تكلم عن أثر القرآن الكريم في اللغة والأدب .
- ت- شاعر له قصيدة معروفة في مدح الإمام زين العابدين (ع) ، عرفه وبين مميزات شعره، وأذكر له خمسة أبيات .

السؤال الثالث / أجب عن فرعين فيما يأتي : (٢٠) درجة

أ) ما الفرق بين الأعداد الآتية من حيث توافق أو اختلاف العدد مع المعدود مع ذكر الأمثلة :

١. الأعداد المركبة (١٣ - ١٩) .
٢. ألفاظ العقود من (٢٠ - ٩٠) .

ب) أذكر الفرق بين مما يأتي مع ذكر الأمثلة :

١. الجنس التام .
٢. الجنس غير التام .

ج) ما الصواب في الإخطاء اللغوية الواردة في أدناه ؟

- يعتبر السكان العامل الأساس في عملية التنمية الاقتصادية لما يلعبه من دور هام وحيويأ في القيام بهذه العملية .

مع تمنياتي لكم بالنجاح

مدرس المادة

أ.م.د. عباس عبدالعزيز صبيهد

أ.د. هادي عبدالوهاب

أ.د. عبدالحسين توفيق شبيبي



ملاحظة / الاجابة عن أربعة أسئلة فقط وتوزع الدرجات بالتساوي (لكل سؤال ١٢,٥)

السؤال الاول اختر الاجابة الصحيحة بما يناسبها من الفقرات التالية

١- أن المفهوم الذي يطلق على توقعات العلاقة بين أصحاب العامل والعمالين هو :

(أ- ربط الاجور بالأداء ب- الامان الوظيفي ج- تقاسم المعلومات د- العقد الاجتماعي هـ - غير ما ذكر)

٢- خطة هدفها خلق التكامل في قرارات المنتج والسعر والمكان والترويج وكذلك التنسيق بينهما بحيث تتطابق مع الاستراتيجية الشاملة للمنظمة هي :

(أ- المزيج التسويقي ب- الحصة السوقية ج- السوق المستهدف د- تجزئة السوق د- استراتيجية التسويق)

٣- ان مصطلح الذي يطلق عليه بالاختيار بين اهداف متعارضة او متباينة بحيث ان اختيار احد الاهداف يؤدي الى التضحية بالهدف الاخر او جزء منه هو :

(أ- المرونة ب- التحسين ج- التناطبق د- اتخاذ القرار هـ - المبادلة)

٤- ان ملاحظات وتقييم المستوى الاداري الاعلى على الاداء الذي تم رفعة بشكل اتصال صاعد الى المستوى الاداري الاعلى هي نوع من الاتصالات :

(أ- النازلة ب- الصاعدة ج- الافقية د- الخياران أ وب هـ - الخياران ب و ج)

٥- واحدة من بين الاتي تعتبر من الادوار المهمة للمدير في فريق العمل :

(أ- مدعم ب- مساند ج- الاشراف د- مدرب هـ - جميع ما ذكر)

السؤال الثاني / صحح ما تحته خط فقط

- ١- قوى المهام هي مجموعة صغيرة من العاملين تجتمع خارج اطار العمل اليومي المحدد وتعمل كفريق لإنجاز اهداف محددة
- ٢- ان الرسائل التي تحدد سياسات المنظمة وقواعد عملها والتشريعات الخاصة بذلك والترتيبات الخاصة تسمى تعليمات العمل
- ٣- العمليات هي عملية خلق السلع والخدمات من خلال تحويل المدخلات الى مخرجات
- ٤- تجزئة السوق المركزة تعني استخدام عدة انواع من مزيج التسويق الى عدة اقسام من السوق
- ٥- مواصفات شاغل الوظيفة هي ملخص دقيق للمهام والمسؤوليات المحددة لوظيفة معينة

السؤال الثالث / عرف الاتصالات الصاعدة ، ثم بين بالتفصيل انواع المعلومات التي تنقل في سياق نمط الاتصالات

الصاعدة

السؤال الرابع / عرف المنفعة ، ثم اذكر بالتفصيل انواع المنافع المرتبطة بالسلع أو الخدمات أو الافكار

السؤال الخامس / وضح بالرسم فقط (اجب عن الفرعين)

الفرع الاول / مضمون نظرية العدالة

الفرع الثاني / مضمون نظرية التوقع

المعيث
أ.د. عبدالحسين توفيق شبلبي

تعليماتي لكم بالنجاح
رئيس القسم
أ.د. هادي عبدالوهاب

مدرس المادة
م.علي نصيف صبر

مدرس المادة
م.ناجي صالح ضهد

المادة: إقتصاد ٢
المرحلة: الأولى
الوقت: ساعتين
التاريخ: ٢٠٢٤ / ٧ / ٢٤



أسئلة الامتحان
النهائي
الدور - الثاني
الكورس الثاني
للعام الدراسي
٢٠٢٤/٢٠٢٣



جامعة البصرة
كلية الإدارة والاقتصاد
قسم ادارة الاعمال
الدراسات الصباحية
والمسائية

ملاحظة / الاجابة على اربعة اسئلة فقط وتوزع الدرجات بالتساوي

س ١/ اختر الاجابة الصحيحة لكل من العبارات الاتية :

١- دالة الانتاج في الابد القصير هي أ- علاقة اكبر كمية من الناتج مع العوامل المتغيرة العمل ورأس المال
ب- علاقة اقصى قدر ممكن من الناتج مع عدد وحدات العمل احدى العوامل الثابتة ج- علاقة اكبر كمية من الناتج مع
تغير احد العوامل المتغيرة مع بقاء رأس المال ثابت د- علاقة اقل كمية من الناتج مع تغير احد العوامل المتغيرة مع بقاء
رأس المال ثابت

٢- في حالة انصراف المستهلكين عن شراء الملابس الشتوية في فصل الصيف فإن ذلك يؤدي الى أ- انتقال منحني الطلب
نحو اليمين ب- تغير في الكمية المطلوبة ج- تغير في السعر د- التغير غير سعري
٣- عند افتراض ارتفاع دخل المستهلك مع ثبات سعر السلعتين (X, Y) فإن خط الدخل ينتقل الى أ- جهة اليمين من سلعة
 (X) فقط ب- اعلى اليسار من سلعة (Y) فقط ج- خط دخل موازياً للدخل السابق بعيداً عن نقطة الاصل د- خط دخل
موازياً للدخل السابق قريباً من نقطة الاصل

٤- في مرحلة الغلة المتناقصة لدالة الانتاج أ- تزايد MP_L اكبر من تزايد AP_L ب- تناقص MP_L اكبر من تناقص

AP_L ج- تناقص AP_L اكبر من تناقص MP_L د- تناقص MP_L اقل من تناقص AP_L

٥- عند زيادة الطلب بنسبة اكبر من نسبة الزيادة في العرض يسمى أ- فانض عرض ب- فانض طلب ج- ثبات السعر
د- كل الخيارات السابقة خاطئة

٦- تكون العلاقة طردية بين الطلب او الكمية المطلوبة و احد العوامل المستقلة وهي أ- اسعار السلع البديلة ب- سعر
السلعة الدنيا ج- ثروة المستهلك د- كل الخيارات السابقة صحيحة

س ٢ / أ / ضع كلمة صح او خطأ لكل من العبارات الاتية :

١- المرحلة الانتقالية المتساوية في دالة الانتاج تكون المرونة فيها تساوي الناتج الحدي .

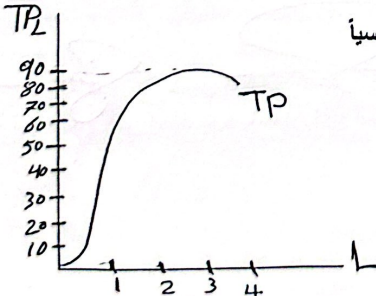
٢- منحني طلب لسلعة بديلة فإن العلاقة طردية بين هذه السلع والكمية المطلوبة .

٣- نقص العرض بنسبة اقل من نسبة النقص في الطلب ينتج عنه انخفاض في كل من السعر والكمية المباعة .

٤- ان MP_L هندسياً هو عبارة عن ميل مماس منحني الناتج الكلي عند اية نقطة يراد قياس الناتج الكلي عنها .

س ٢ / ب / اذا اعطيت العلاقة بين الناتج الكلي مع عدد وحدات العمل هندسياً

وكما موضح في الشكل ، احسب AP_L عند وحدة العمل 2 ؟



س٣ / لديك المعادلتين التاليتين : $Q_s = -10 + 4p_x$ ، $Q_d = 30 - 1p_x$

التوليفة	P_x	Q_d	Q_s
A		20	
B		22	
C		24	

والبيانات الموضحة في الجدول ، المطلوب ١/ اكمل الجدول ٢- حدد نقطة توازن السوق ٣- حدد نقاط العجز والفائض للعرض والطلب ٤- موضحاً ذلك على الرسم .
٥-- وضح من هو المتغير التابع ومن هو المتغير المستقل وما هي طبيعة العلاقة بين المتغيرين لكلا الدالتين .

س٤ / لديك البيانات الموضحة في الجدول لدالة الانتاج ، احسب (AP_L, MP_L, EL) مع الرسم والتأشير لكل منها مراحل قانون النسب المتغيرة وتوضيح المراحل على الجدول ؟ مع ذكر التوليفات الاقتصادية لهذه الدالة ؟

K	200	200	200	200	200	200	200	200	200	200	200
L	0	1	2	3	4	5	6	7	8	9	10
TP_L	0	6	16	29	44	55	60	62	62	61	59

س٥ / أ/ مستهلك دخله النقدي (140) الف دينار يريد استهلاكه على السلعتين (X و Y) وبكميات واسعار معينه وحصل على المنافع الحدية كما موضح في الجدول ادناه علماً ان $P_x = 10$ و $P_y = 20$. المطلوب / تطبيق شرطا التوازن ومعرفة في اي وحدة من الكميات للسلعتين يحصل المستهلك على توازنه ؟

Q_x	MU_x	MU_y
2	80	120
4	60	80
6	40	60

س٥ ب/ في توازن السوق يوجد منحني طلب لسلعة اعتيادية مثل السكر ، حصل ارتفاع في سعر سلعة معينه مثل الشاي، ومنحنى عرض لمحصول اعتيادي معين مثل الرز انخفضت الاعانات عليه وبنسبة اكبر، ما تأثير ذلك التغير على السعر التوازني والكمية التوازنية (المباعه) ؟ وضح ذلك مع الرسم والتأشير عليه .


مع تمنياتي لكم بالنجاح

العميد
أ.د. عبدالحسين توفيق شيلي

رئيس القسم
أ.د. هادي عبد الوهاب

مدرس المادة

أ.م. حسين علي احمد م.م. ياسمين نجم السعد



ملاحظة : الإجابة على خمس أسئلة فقط لكل سؤال (١٠ درجات)

س١/ عرف خمس مما يأتي :

- ١- التنوع الثقافي ٢- المساواة ٣- الحقوق المدنية ٤- القانون الدولي ٥- التأمين الاجتماعي ٦- العرف.

س٢/ ضع كلمة صح أمام العبارة الصحيحة وكلمة خطأ أمام العبارة الخاطئة لخمس مما يأتي:

- ١- يعد الأعلام أحد المعالجات المنهجية لمكافحة الفساد الإداري .
٢- يقصد بالحق في حرية العقيدة قدرة الفرد في التعبير عن آراءه وأفكاره.
٣- تشمل الحقوق البيئية والثقافية (الجيل الأول) حق العيش في بيئة نظيفة.
٤- ان حقوق الإنسان في الإسلام متغيرة وقابلة للإلغاء والتبديل والتعطيل.
٥- من أدوات ووسائل تحقيق التعايش السلمي احترام حرية الآخرين.
٦- عرف الفقهاء حقوق الانسان بأنها فرع من فروع العلوم الاجتماعية .

س٣/ اختر الاجابة الصحيحة من بين الأقواس لخمس مما يأتي :


- ١- وهو الذي يأخذ صفة الديمومة على الأقل من وجهة نظر القائمين عليه فيجتهدون كثيرا من اجل وضع خطط (الفساد الشامل - الفساد المنظم - الفساد المؤقت)
٢- تعد في طليعة الحقوق السياسية وهي الرابطة القانونية والسياسية التي تربط الفرد بالدولة (المواطنة - العدالة - الانتخاب).
٣- ان من ابرز حقوق المستضعفين في القرآن الكريم..... (الحق العام- حق ضعاف العقول في الرعاية - الحقوق البدنية).
٤- وفق تعاليم مدرسة القانون الطبيعي فإن حقوق الإنسان(حقوق مطلقة -حقوق مقيدة -حقوق الزامية) .
٥- تعد أقدم انواع الحقوق التي أهتم بها الفقه الدستوري القديم ولا تزال تحتل النصيب الأعظم بين الحقوق التي تنص عليها الدساتير(الحقوق المدنية- الحقوق السياسية -الحقوق الاقتصادية).
٦- ان من اشكال التعايش السلمي والتسامح الاجتماعي(التسامح القانوني -التسامح القضائي - التسامح الديني).

س٤/ تعد الحقوق الخاصة من الحقوق التي يترتب عليها مصلحة فئة معينة من المجتمع ، وضح أقسام الحقوق الخاصة مع بيان أحد اقسامها بالتفصيل ؟

س٥/ كثيراً ما يؤدي الفساد الإداري الى ضياع الأموال العامة والخاصة ، تكلم عن عوامل الفساد الإداري؟

س ٦/ بالرغم من الإيجابيات التي يتمتع بها التنوع الثقافي إلا أن هناك العديد من السلبيات المأخوذة عليه، عددها؟

مع تمنياتي لكم بالنجاح والتوفيق


العميد

أ.د. عبدالحسين توفيق شنبلي


مدرس المادة

أ.د. هادي عبد الوهاب عبد الإمام

مدرس المادة

د. م. حواد نصار


مدرس المادة

مدرس المادة

د. دنيا سلمان محسن



جمهورية العراق
وزارة التعليم العالي والبحث العلمي
جامعة البصرة
كلية الإدارة والاقتصاد/ قسم الإدارة



أسئلة الامتحان النهائي للدراسات الصباحية و المسائية-الكورس الثاني للعام الدراسي 2023-2024 - الدور (ب) (ب) المادة : إحصاء المرحلة : الأولى التاريخ : 2024 / 7 / 6 الزمن : 2 ساعة

ملاحظة : 1- الإجابة عن أربعة أسئلة فقط 2- توزع الدرجة بالتساوي على جميع الاسئلة .

س1/ اجب بكلمة صح او خطأ للعبارات التالية :

- 1- وزن الطلبة يعتبر من المتغيرات المتقطعة .
- 2- كلما كانت قيمة الانحراف المعياري اقل كانت النتيجة افضل.
- 3- الوسيط للبيانات التالية(2,3,4,5,6) يساوي 4.
- 4- ان المنوال للبيانات التالية (2,3,2,4,2,5,6,5,3,2) هو 2.
- 5- اذا كانت قيمة معامل الارتباط بين 0.5 و الواحد الصحيح دل ذلك على وجود علاقة ارتباط عكسية ضعيفة بين المتغيرين.

س2/ اختر الإجابة الصحيحة لكل مما يأتي:

1-اذا علمت ان الانحراف المعياري لبيانات عينة هو 4 وان الوسط الحسابي هو 5 فان قيمة معامل الاختلاف هي:

- a- 70% b- 80% c- 90% d- غير ذلك

2-اذا كانت لديك البيانات (80 ، 40 ، 60 ، 90) فان قيمة المدى هي :

- a- 20 b- 50 c-40 d- غير ذلك

3- اذا توفرت لديك البيانات (4 ، 2 ، 6 ، 1) فان الانحراف المتوسط هو :

- a- 1.5 b- 1.6 c- 1.7 d- غير ذلك

4- ان التباين للبيانات (3 ، 5 ، 3 ، 4) هو :

- a- 2 b- 1 c- 3 d- غير ذلك

5 - الوسيط للبيانات التالية(9,8,5,2,5,8,9,4) يساوي:

- a- 8 b- 9 c- 8.5 d- غير ذلك

س3/ من جدول التوزيع التكراري الآتي:

الفئات	3-1	5-3	7-5	9-7	المجموع
fi التكرار	5	6	y	4	20

جد: 1- قيمة y 2- الانحراف المتوسط 3- التباين 4- التكرار النسبي 5- التكرار المتجمع الصاعد

س4/ البيانات التالية تمثل عدد الأطفال لخمسة موظفين: $Y_i : 5, 2, 4, 6, 3$ جد :

1- الوسط الحسابي 2- الانحراف المتوسط 3- التباين 4- الانحراف المعياري 5- معامل الاختلاف

س5/ إذا توفرت لديك البيانات التالية :

$Y_i : 8, 7, 4, 6, 5$


$X_i : 5, 6, 3, 7, 4$

احسب معامل الارتباط البسيط بيرسون بين المتغيرين X و Y ثم حدد نوع وقوة العلاقة بينهما.


مع تمنياتنا لكم بالنجاح


مدرس المادة

أ.د. راضي عبدالله


مدرس المادة

أ.م.د. بهاء عبدالرزاق قاسم


مدرس المادة

أ.م.د. ريسان عبد الامام زعلان


العميد
أ.د. عبدالحسين توفيق شبلي


رئيس القسم
أ.د. هادي عبدالوهاب



ملاحظة : ١- الاجابة على ٥ اسئلة فقط ٢- الاسئلة تتكون من صفتين ٣- توزع الدرجات بالتساوي

السؤال الاول / عدد فقط المجاميع التي يتضمنها : ١- تبويب عرض الشرائح . ٢- تبويب الصفحة الرئيسية. (١٠ درجة)
السؤال الثاني / الفرع (أ) : ضع علامة صح او خطأ امام العبارات التالية:
(٥ درجة)

- ١- تتكون واجهة برنامج بور بوينت ٢٠١٠ بصورة عامة من عدة اجزاء مثل تعليمات.
 - ٢- تسجيل عرض الشرائح وتعني : تحديد الوقت المستغرق لعرض المستند مع خيارات اخرى.
 - ٣- يضم تبويب عرض الشرائح عدة مجاميع من بينها مجموعة العرض الرئيسية.
 - ٤- طريقة عرض القراءة تعني عرض الشرائح بعرض مختلف وذلك باظهار الاشرطة والتبويبات.
 - ٥- تحتوي مجموعة العرض الرئيسية على (الشريحة الرئيسية و النشرات الرئيسية والملاحظات الرئيسية.
- السؤال الثاني الفرع (ب)- عند تنفيذ (الاختصارات) التالية على لوحة المفاتيح ما هو الاجراء او الامر الذي يتم تطبيقه (ضع الاجابة في جدول من خلال ذكر التسلسل والاجابة) (٥ درجة)

ت	١	٢	٣	٤	٥
الاختصار	CTRL + I	CTRL + K	CTRL + N	CTRL + R	CTRL + S

- السؤال الثالث/ ١- ما هي الخطوات اللازمة لغلاق العرض التقديمي .
٢- ما هي الخطوات اللازمة لطباعة الشرائح على الورق .

السؤال الرابع / اشرح بالتفصيل الاوامر التي تتضمنها مجموعة خط . (١٠ درجة)

السؤال الخامس / اكمل الفراغات التالية، ضع الاجابة في جدول (١٠ درجة)	
١ : يضم كل منها مجموعة من الاوامر الخاصة ويسمى Ribbons.
٢	يمكن..... من خلال الضغط على زر اليمين للماوس واختيار حذف شريحة Delet slide.
٣	من اوامر مجموعة (.....) هو ظل النص : اعطاء ظل للنص المحدد.
٤	تسمح اوامر تبويب عرض الشرائح بعرض تفصيلي ومختلف للشرائح عد الانتهاء من اعدادها ، مع التحكم..... عرض الشرائح.
٥	اوقات التمرين : بدء تشغيل عرض الشرائح في وضع..... لغرض معرفة الوقت اللازم للعرض.
٦	تسجيل عرض الشرائح : تحديد..... المستغرق لعرض الشريحة، مع مجموعة خيارات.
٧	عند المقارنة بين وورد ٢٠١٠ وبور بوينت ٢٠١٠ نجد ان الملف في وورد يسمى (.....) بينما في برنامج باور بوينت يسمى عرض تقديمي .
٨ : تستخدم كشريحة لادراج عنوان فصل مثلاً او موضوع رئيسي مع شرح عن الموضوع.
٩	اعداد عرض الشرائح يقوم بأعدادات للشريحة فيما يخص اللون و عدد مرات..... وطريقة العرض.
١٠	شريحة العنوان : تستخدم كشريحة رئيسة للعرض التقديمي اي تكون..... او عنوان فصل مثلاً .

Subject: Business
Correspondence
Stage: First Stage
Time: Two hours
Date :9/ 7 /2024



Final Exam
Second Attempt
2023/2024



University of Basrah
College of Administration
and Economics
Department of Business
Administration

Note: Out of five questions answer four only

Q1:- Give definitions for the following..... (12.5 Marks)

1-Concise 2-Concrete 3- Correct 4- Complete 5-Conversational

Q2:- Read the following sentences then full their blanks by using the correct answer for each sentence from its below options..... (12.5 Marks)

1- Business Letters serve one.....

a. Purpose b. Object c. Enject d. Propose

2- Letters are

a. Lang- Lasting b. Long-Lasting c. Ling-Lasting d. Lnog-Lasting

3-is one way to highlight key points for your reader.

a. Underlining essential information b. break it into short paragraphs c. make a list or refer to an attachment d. Conclude

4- Many Letters are sent with a specificand audience in mind but are not clear in their purpose.

a. leader b. plane c. Purposes d. Subject

5-.....this part is simply a thank you for the recipient's attention, response or concern

a. Thank the reader b. Thank the sender c. Thank the writer d. Thank the leader

Q3:- Read the following statements and write T if the statement is true and write F if the statement is false (12.5 Marks)

1-Know Why you're writing Subject.

2-When you write a business letter , you expect to be told immediately what will happen.

3-Business letters are inexpensive.

4-Letters are intangible evidence of information you communicate to others.

5-Your letter should be organized to help the sender understand what to know or what to do.

Q4:-Complete the sentences with words in the box..... (12.5 Marks)

Request action / Audience/ Part 2 of the Body/ inexpensive/ record / Style/ Subject

1-Know Who you're writing about.....

2-.....explains what you want the recipient to do.

3-..... in this part, you tell the reader what to do and when to do.

4-.....this area is tricky

5-Business letters serve as a

Q5:-Choose the correct sentence following..... (12.5 Marks)

1-

- a-The language of your letter should be adapted to the recipient
- b- The language of your letter should be adapted to the message

2-

- a-Clarity means organizing your letter so each paragraph deals with only one main jargon and presenting your ideas in a logical order.
- b- Clarity means organizing your letter so each paragraph deals with only one main idea and presenting your ideas in a logical order.

3-

- a-Short letters are read and remembered ;long letters are skimmed and filed
- b-Short letters are rade and remembered ;long letters are skimmed and flied

4-


- a-Words such as failure, you neglected and error tend to distance the recipient from the writer.
- b- Words such as agreeable, proud and success tend to distance the recipient from the writer.


5-

- a-Remember that the reader can read your mind .The reader can only guess at what you left out.
- b- Remember that the reader can't read your mind .The reader can only guess at what you left out.

Good luck & all the best


Dr. Shata Ahmed
Lecturer


Dr. Hadi Abdulwahab
Head of Dept.


Dr. Abdulhussein Tawfiq
The Dean



ملاحظة:-الإجابة على أربعة اسئلة فقط وتوزع الدرجات بالتساوي

س1 // فيما يلي الارصدة الخاصة بشركة الرحمة عن الفترة المنتهية في 31-12-2018 بضاعة اول المدة 50000 ، مشتريات 120000 ، مردودات مشتريات 10000 ، المبيعات 300000 ، خصومات مسموح بها 10000 ، مصاريف تشغيلية 60000 ، مصاريف اخرى 10000 ، ايرادات اخرى 15000 موجودات ثابتة 500000 ، موجودات متداولة 300000 ، حسابات دائنة 85000 ، راس المال ؟؟؟؟ وعند الجرد قدرت بضاعة اخر المدة بمبلغ 100000

المطلوب //1-اعداد حساب المتاجرة في 2018/12/31

2-اعداد حساب الارياح والخسائر عن الفترة المنتهية في 2018/12/31

3-تصوير الميزانية العمومية كما هي عليه في 2018/ 12/31

س2// في نهاية السنة المنتهية في 2013/12/31 ظهرت الارصدة الآتية في سجل الاستاذ لشركة النصير التجارية 2400 دينار ايجار المعرض ، 750 دينار القرطاسية ، 700 مصاريف عامة ، 12400 دينار الرواتب وعند التدقيق تبين الآتي :

-ايجار المعرض الشهري هو 600 دينار علما ان المعرض تم تاجيره في 2013/10/1

-القرطاسية في نهاية السنة المتبقية بلغت 80 دينار فقط

بلغت المصاريف العمومية خلال السنة 630 دينار

-احد الموظفين لم يستلم راتبه لشهر كانون الاول 2013 البالغ 350 دينار

المطلوب // اجراء قيود التسوية والاقفال في سجل اليومية العامة.

س3// في 2013/1/1 بلغ مخصص الاندثار المتراكم للماكنة 2500000 دينار فاذا علمت ان الماكنة اشترت واستخدمت في 2010/7/1 بمبلغ 11000000 دينار وقد قدرت قيمة الانقراض بعد نهاية عمرها الانتاجي بمبلغ 1000000 دينار

المطلوب // 1-كم قدر العمر الانتاجي للماكنة 2- ماهو قسط الاندثار السنوي لعام 2010

س4/ فيما يلي عمليات تمت لدى شركة التضامن التجارية في البصرة خلال شهر آب 2018.

.في 3/ 8 اشترت بضاعة بمبلغ 600000 دينار من محلات نضال على الحساب شرط التسليم محلات نضال وبلغت مصاريف نقل البضاعة 20000 دينار نقداً دفعت من قبل شركة التضامن.

-في 10/ 8 اشترت بضاعة بمبلغ 100000 دينار من شركة الأنوار على الحساب التسليم محلات المشتري وبلغت مصاريف نقل البضاعة 30000 دينار دفعتها نقداً شركة الانوار.

.في 15/ 8 باعت بضاعة بمبلغ 800000 دينار إلى محلات خالد على الحساب تسليم محلات خالد وبلغت مصاريف شحن البضاعة ونقلها 50000 دينار دفعت بشيك من قبل شركة التضامن.

-في 22/ 8 باعت بضاعة إلى محلات الصافي في بغداد بمبلغ 500000 دينار على الحساب تسليم في محافظة الديوانية وبلغت مصاريف النقل 4% من اجمالي المبيعات من محلات البائع الى مكان التسليم و3% من مكان الاستلام الى محلات الصافي دفعت بشيك من قبل شركة التضامن.

-في 23/ 8 سددت شركة التضامن المستحق لمحلات نضال نقداً.

-في 25/ 8 سددت شركة التضامن المستحق لشركة الأنوار نقداً.

-في 27/ 8 سددت محلات خالد المستحق عليها بشيك.

- في 2/ 9 سددت محلات الصافي المستحق عليها بشيك.

المطلوب /تسجيل القيود اليومية اللازمة في سجلات شركة التضامن وسجلات محلات الصافي

س5//العمليات الاتية تخص شركة النرجس للمقاولات العامة:

في 1/ 1 اشترت قطعة ارض بمبلغ 20 مليون دينارودفعت رسوم تسجيل عقاري 300000 دينار و رسوم قضائية 150000 دينار نقدا .

1/7 اشترت سيارة لاغراض العمل بمبلغ 2 مليون دينار بشيك وتم استخدامها

1/20 صرفت الشركة مبلغ 100000 دينار نقدا لتصليح السيارة.

في 2/2 قامت الشركة بشراء اثاث بمبلغ 3 مليون دينار وشراء شاحنة حمل بمبلغ 5 مليون ومعدات بمبلغ 4 مليون دينار نقدا

المطلوب/ تسجيل قيود العمليات اعلاه في سجلات شركة النرجس

تمنياتنا لكم بالنجاح الباهر

العميد

أ.د. عبدالحسين توفيق

رئيس القسم

أ.م. هادي عبدالوهاب

مدرس المادة

م.م محمد فرج أ.م.د.عبدالكريم عبد الرحيم



Note: - Answer four questions, including the first question.

Q1: - Read this text carefully.

Hello my name's Colin Brodie. I come from Dundee in Scotland, but now I live and work in London. I have a very small flat near the center. I live there with two friends. I'm a waiter and I'm also a student. I work part -time in an Italian restaurant. I eat Italian food and I drink Italian coffee after diner. I speak two languages - Spanish and French, but I don't speak Italian. And I don't play sports. I want to be an engineer.

A- Describe the following sentences whether they are (True) or (False) (10 marks)

- 1- Colin Brodie from French.
- 2- Colin Brodie speaks three languages.
- 3- Mr. Colin is Police officer.
- 4- He plays sports every day.
- 5- He wants to be a manager.

B- Translate what is underlined only. (10 marks)

Q2: - Match the questions and answers. Type the letter in the box. (10 marks)

	The answer			
1		Who is Maria?	A	She's 29
2		How old is she?	B	She's a teacher
3		What's her job?	C	In a college in the center of town
4		Where does she live?	D	In Canada
5		Where does she work?	E	She's my sister

Q3: - Complete the text with correct subject pronouns from the box.

he	she	it	they	we	you	I
----	-----	----	------	----	-----	---

(10 marks)

- 1- My **uncle** lives in Mexico City. ----- lives in Mexico City.
- 2- My **friends** aren't coming. ----- aren't coming.
- 3- Mrs. **Marie** is studying English. ----- is studying English.
- 4- **You and I** have to talk about the test. ----- have to talk about the test.
- 5- Can **you** help me? Yes, ----- can help you.

Q4: - complete the text with prepositions from the box. (10 marks)

in	at	on
----	----	----

- 1- My birthday is ----- 23rd May
- 2- The film starts ----- 10 o'clock.
- 3- We have lessons -----Monday morning
- 4- I play tennis ----- the weekend
- 5- The plane arrives ----- Tuesday


❖ Q5: - Complete the sentences. Use the Past Simple form of the verb

- 1- I pizza last night.
a) wasn't eating b) haven't eaten c) didn't eat
- 2- Sara me yesterday.
a) met b) meet c) was meeting
- 3-They what happened to the police last Monday.
a) reported b) were reporting c) had reported
- 4-He was eating when I home.
a) had come b) coming c) came
- 5-What time did she yesterday?
a) woke up b) wake up c) waking up


(10 mark)



Prof. Dr. Wameedh A. Khdair
The lecturer



Prof. Dr. Hadi Abdul Wahab
Head of Department



Prof. Dr. Abdul Hussein Tawfiq
The Dean



جامعة البصرة
كلية الادارة والاقتصاد
قسم ادارة الاعمال

اسئلة
المرحلة الثانية
الدور الثاني
للكورسين الاول و الثاني
الدراسات الصباحية والمسائية
للعام الدراسي 2023-2024

المادة: نظرية المنظمة
المرحلة: الثانية
التاريخ: 6 / 2024



أسئلة الامتحان الدور -
الثاني
للعام الدراسي
2024/2023



جامعة البصرة
كلية الإدارة والاقتصاد
قسم ادارة الاعمال
الدراسات الصباحية والمسائية

- اجب عن اربعة أسئلة (2,5 درجات لكل سؤال)
- س1: (ا) قارن على شكل جدول أهم الفروقات بين المنظمة اليابانية والمنظمة الأمريكية وفقا لنظرية Z.
(ب) ما المقصود بثنى البيئية؟ وما هي الأسباب التي تؤدي الى الفقر البيئي؟ وضحاها
- س2: (ا) ما هي الافتراضات الأساسية لنموذج Joan Woodward؟ وما هي التصنيفات الأساسية التي اعتمدها بخصوص أنواع التكنولوجيا؟ وضحاها
(ب) ما هي المشاكل التي تعاني منها المنظمات في مرحلة الولادة؟ أذكرها
- س3: (ا) أذكر أهم الأسباب التي أدت إلى الاهتمام بدراسة نظرية المنظمة.
(ب) ما هي أهم الخصائص الأساسية لمرحلة النمو من دورة حياة المنظمة؟ عددها
- س4: (ا) قارن على شكل جدول أهم الخصائص الهيكلية لنموذجي الهيكل الالي والهيكل العضوي
(ب) ما هي أهم المدارس الفكرية التي تناولت مفهوم نظرية المنظمة؟ وضحاها
- س5: (ا) اختر الإجابة الصحيحة
1. في دورة حياة المنظمة تصل البيروقراطية الى مستويات عالية وبالتالي مزيدا من الأعمال الروتينية ضمن مرحلة :
ا. مرحلة النمو ب. مرحلة الاحترار ج. مرحلة النضج د. مرحلة الولادة
 2. ان مفهوم الاقتصاد في كلف الصفة يرتبط ب
ا. الكلف المرتبطة بالتفاوض وبناء الهياكل التنظيمية ب. الكلف المرتبطة بالتفاوض والاستراتيجيات والثقافة التنظيمية
ج. الكلف المرتبطة بالتفاوض والانتاج والتوزيع د. الكلف المرتبطة بالتفاوض والرقابة والمساومات
 3. يمتاز الهيكل العضوي بالاتي :
ا. الكثير من المرونة ، والمركزية ، والرسمية ب. الكثير من المرونة ، واللامركزية ، والرسمية
ج. الكثير من المرونة ، واللامركزية ، واللامرسمية د. الكثير من المرونة ، والمركزية ، واللامرسمية
 4. ان عدد الاستثناءات للإجراءات القياسية التي تواجه تطبيق تكنولوجيا معينة تسمى :
ا. تحليل المهمة ب. تغير المهمة ج. تكنولوجيا الارتباط الطويل د. التكنولوجيا المكثفة
 5. يعتبر من مصادر اللتاكد البيئي
ا. التعقيد ب. المرونة ج. اللامركزية د. ليس مما ذكر
 6. عندما يركز المدراء في المنظمات على مراعاة تطبيق المعايير الأخلاقية والمجتمعية عند تقديم السلعة او الخدمة للزبون فإن ذلك يسمى
ا. سرعة الاستجابة ب. المسؤولية الاجتماعية ج. العولمة د. نظام العمل الرقمي
- (ب) ما المقصود بالبيروقراطية؟ وما هي أهم خصائص التنظيم البيروقراطي؟ عددها فقط

العميد
د. عبد الحسين توفيق

مع تمنياتي لكم بالنجاح
رئيس القسم
د. هادي عبد الوهاب

مدرس المادة
د. هادي عبد الوهاب

مدرس المادة
م.م. نرجس عقيل

المادة: محاسبة متوسطة
المرحلة: الثانية
الوقت: ساعتين
التاريخ: ٢٠٢٤/١١/٢١



أسئلة الامتحان
النهائي
الدور - الثاني
الكورس الاول
للعام الدراسي
٢٠٢٤/٢٠٢٣



جامعة البصرة
كلية الإدارة والاقتصاد
قسم ادارة الاعمال
الدراسات الصباحية
والمسائية

الاجابة عن اربعة اسئلة ولكل سؤال ١٢,٥ درجة

س١: ما هي الخصائص التعزيزية للخصائص النوعية للمعلومات المحاسبية؟ عددها وأشرحها بالتفصيل

س٢: ظهرت الارصدة التالية ضمن ميزان المراجعة للسنة المنتهية في ١٢/٣١ / ٢٠٢١

٥٢٠٠ بضاعة اول المدة، ١٢٥٠٠ مشتريات، ١٨٥٠٠ مبيعات، ٥٠٠ مردودات ومسموحات المشتريات، ٩٠٠ مردودات ومسموحات المبيعات، ٢٠٠ خصم مسموح به، ١٠٠ خصم مكتسب، ٤٠٠ مصاريف الشراء، ٦٠٠٠ بضاعة اخر المدة، ٤٠ مصاريف ادارية، ٣٠ مصاريف تسويقية، ٧٥٠ الايرادات الاخرى، ٢١٠ مصروفات اخرى.

المطلوب: اعداد كشف الدخل للسنة المنتهية في ١٢/٣١.

س٣: في نهاية السنة وعند الجرد توفرت لديك المعلومات الاتية:

١- ظهر رصيد الرواتب ١١٠٠٠٠٠ دينار علما ان الرواتب الشهرية للموظفين كانت ١٠٠٠٠٠٠ دينار شهريا.

٢- ايراد العقار المستلم من احد المحلات بمبلغ ٢٣٠٠٠٠٠ دينار علما ان الايراد الشهري كان بمبلغ ٢٠٠٠٠٠ دينار اعتبارا من ٩/١.

٣- ايراد الاوراق المالية لهذه السنة كان بمبلغ ٥٠٠٠٠٠ دينار لم يستلم لحد الان.

٤- ظهر رصيد ايجار البناء المدفوع مقدما ٤٠٠٠٠٠٠ دينار اعتبارا من بداية السنة المالية علما ان ايجار الشهري كان بمبلغ ٣٠٠٠٠٠ دينار.

٥- ايراد الخدمات المستلم من احد الزبائن كان بمبلغ ١٠٠٠٠٠٠ دينار علما ان ايراد الخدمات الشهري كان بمبلغ

١٥٠٠٠٠ دينار اعتبارا من ٧/١.

المطلوب: تسجيل قيود التسوية اللازمة.

س٤: كان رصيد المصرف بموجب سجلات الشركة التجارية مديناً بمبلغ ٧٢٥٠ دينار وذلك في ٣/٣١، في حين اظهر

كشف المصرف الوارد الى الشركة دائناً بمبلغ ٨٥٠٠ دينار، وعند التحري عن سبب الاختلاف بين الرصيدين تبين ما يلي:

١- حصل المصرف ورقة قبض لصالح الشركة بمبلغ ٣٢٥٠ دينار واستقطع عمولة تحصيل بمبلغ ١٥٠ دينار.

٢- بلغت ايداعات الشركة خلال شهر اذار بموجب السجلات ١١١٥٠ دينار وبموجب كشف المصرف ١٠٢٠٠ دينار.

٣- بلغت الصكوك المحررة من قبل الشركة والتي لم يتقدم اصحابها لسحبها من المصرف ٣٥٠ دينار.

٤- اعاد المصرف صك بمبلغ ٢٨٠٠ دينار لعدم امكانية تحصيل قيمته من حساب المدين لعدم كفاية الرصيد.

٥- استقطع المصرف مصروفات خدمات بمبلغ ١٠٠ دينار ولم يصل اشعار للشركة بذلك.

٦- تم تحرير صك بمبلغ ٣٤٠٠ دينار لشراء اثاث لكن سجل بالخطأ من قبل المحاسب بمبلغ ٤٣٠٠ دينار.

٧- اضاف المصرف مبلغ ٧٥٠ دينار الى حساب الشركة واتضح ان المبلغ يخص شركة اخرى.

المطلوب: اعداد كشف مطابقة حساب البنك لشهر اذار وتسجيل قيود التسوية اللازمة.


يتبع.....


س ٥: كان رصيد المدينون في ١/١ / ٢٠١٦ هو ١٦٠٠٠ دينار ورصيد مخصص ديون مشكوك في تحصيلها ٤٠٠٠


تينار وخلال السنة تمت العمليات الاتية:

- ١- المبيعات الأجلة ٨٠٠٠ دينار.
 - ٢- تحصيلات من المدينون ٢٠٠٠ دينار.
 - ٣- ديون معدومة ٤٠٠٠ دينار نصفها يخص السنة السابقة والنصف الاخر يخص السنة الحالية.
 - ٤- في نهاية السنة يراد تكوين مخصص للديون المشكوك في تحصيلها وفق النسب الاتية:
 - أ- نسبة ١٠ % من رصيد المدينون.
 - ب- نسبة ٢٠ % من رصيد المدينون.
- المطلوب: تسجيل القيود اللازمة.

مع تمنياتي لكم بالنجاح


التعميد
أ.د. عبدالحسين توفيق شبلي


رئيس القسم
أ.د. هادي عبد الوهاب


مدرس المادة
م. علي ماجد

المادة: تطبيقات الحاسوب I
المرحلة: الثانية
الوقت: ساعتان
التاريخ: 26 / 6 / 2024



أسئلة الامتحان
النهائي
الدور - الثاني
الكورس الاول
للعام الدراسي
2024/2023



جامعة البصرة
كلية الإدارة والاقتصاد
قسم ادارة الاعمال
الدراسات الصباحية
والمسائية

ملاحظة: الإجابة عن خمسة اسئلة فقط وتوزع الدرجات بالتساوي.

(10 درجات)

س1 / املأ الفراغات التالية بما يناسبها.

1. لعرض الصفحة بكامل الشاشة يتم من خلال مجموعة _____.
2. لتحديد كافة الخلايا على ورقة العمل التي بها صيغ يتم من خلال تبويب _____ ثم مجموعة _____.
3. عرض مربع الحوار لصق خاص يتم الضغط على المفتاح _____.
4. لاختيار خلفية لورقة العمل يتم من خلال مجموعة _____.
5. لعرض ورقة عمل مخفية في المصنف يتم من خلال الامر _____.
6. لتحديد ارتفاع الصف بناء على البيانات الموجودة داخل الصف يتم من خلال الامر _____.
7. لإنشاء مربع او دائرة رائعة متساوية الابعاد نضغط باستمرار على _____ اثناء عملية السحب.
8. لعرض وإخفاء القواعد المستخدمة لقياس الكائنات في المستخدم من خلال الامر _____.
9. يؤدي الضغط على مفتاح _____ الى التبديل بين توسيع شريط الصيغة او طيه.
10. لو اردنا التحكم في المساحة الفارغة الموجودة حول الصفحة بشكل عام يتم من خلال الامر _____.

س2 / تكلم بالتفصيل عن الاوامر (حماية الورقة ، حماية المصنف ، مشاركة في المصنف ، حماية ومشاركة في المصنف)

(10 درجات)

ضمن مجموعة تغييرات في تبويب مراجعة.

س3 / ضع علامة الصح امام العبارة الصحيحة وعلامة الخطأ امام العبارة الخاطئة مع تصحيح الخطأ ان وجد. (10 درجات)

1. للحصول على معلومات برنامج الاكسل من قبل من قبل شركة مايكروسوفت يتم من خلال الامر خيارات.
2. يستخدم الاختصار Ctrl+H لعرض مربع حوار ادراج الارتباطات التشعبية.
3. لعملية التحكم في اتجاه الخط يتم من خلال مجموعة خط.
4. يستخدم الامر Ctrl+Q للتبديل بين إخفاء الكائنات وعرضها.
5. لإضافة نافذة بالكامل من خلال لقطة الشاشة نضغط باستمرار على الزر الايسر لتحديد النافذة.
6. لإحضار البيانات من مصادر اخرى مثل الاكسس او نص او ويب يتم عن طريق تبويب ادراج.
7. لأدراج توقيع الكتروني من خلال الامر سطر التوقيع يتم عن طريق مجموعة رموز.
8. لأجراء عملية تنسيق شرطي يتم من خلال مجموعة خلايا.
9. لأجراء عملية تتبع السابقات وتتبع التوابع يتم عن طريق تبويب الصفحة الرئيسية.
10. لعمل التناف النص داخل الخلية عن طريق مجموعة الصفحة الرئيسية.

يتبع..

س4/ ما هي وظيفة الاوامر والمفاتيح التالية

(10درجات)

1. فواصل
2. النفاذ النص
3. رمز
4. اظهار الجبر
5. طباعة العناوين
6. SmartArt
7. تعبئة
8. أبحاث
9. وحدات الماكرو
10. ترميم الكتل

س5/ أ. صحح الاخطاء التالية بما يناسبها

(10درجات)

1. لو اردنا توحيد خط كل الفقرات المكتوبة حسب تنسيق فقرة ما منسقة مسبقا يتم من خلال امر تنسيق الخلايا.
 2. خانة الـ Name Box تظهر عنوان الخلية النشطة.
 3. لتغيير لون علامة التبويب للورقة في المصنف يتم من خلال مجموعة انماط في تبويب الصفحة الرئيسية.
 4. لأجراء عملية فرز وتصفية للبيانات الموجودة في ورقة العمل يتم عن طريق الصفحة الرئيسية ومجموعة تنسيق.
 5. للتحكم في شكل ومعطيات شاشة البرنامج عن طريق الاختيارات الموجودة بها عن طريق الامر تعليمات.
- ب. مجموعة الرسومات التوضيحية تعتبر من المجموعات مهمة بالنسبة لتبويب ادراج اشرحها، مع ذكر و شرح الاوامر التي تحتويها هذه المجموعة ، موضحا خطوات ادراج كل امر من هذه الاوامر.

س6/ تكلم عن الامر نافذة الحساب(نافذة المراقبة) ضمن تبويب صيغ ، مع ذكر على شكل نقاط خطوات اضافة خلايا الى نافذة المراقبة.

(10درجات)

مع تمنياتي لكم بالنجاح..

أ.د. عبد الحسين زوفيق شبلبي

العميد

أ.د. هادي عبد الوهاب عبد الامام

رئيس القسم

م. عمار نزار مصطفى

مدرس المادة



ملاحظة / الاجابة عن اربعة أسئلة فقط (توزع الدرجات بالتساوي لكل سؤال 12,5 درجة)

السؤال الاول / أختَر الإجابة الصحيحة بما يناسبها

- 1- عندما يكون الصنف قد سبق شراؤه لكن رصيده لا يكفي الحاجة المطلوبة لقرب رصيده المخزني على النفاذ فتكون مسؤولية ادراك الحاجة على عاتق :
 - أ- قسم الشراء
 - ب- الجهات صاحبة الحاجة
 - ج- قسم التخزين
 - د - ادارة المواد
- 2- عرف نشاط التخزين بأنه عملية يتم بموجبها :
 - أ- الاحتفاظ بالمواد
 - ب- والسلع الجاهزة
 - ج- وتحت التصنيع لفترة زمنية
 - د- جميع ما ذكر
- 3- واحدة من بين الاتي لا تعتبر من وظيفة الارشيف :
 - أ- نشاط المكاتبات
 - ب- نشاط المراسلات
 - ج- الاحتفاظ بالسجلات
 - د- اجراء المفاوضات
- 4- واحد من بين المخازن ادناه يخزن فيها جميع الاصناف والمستلزمات التي لا يستوعبها المخزن المركزي :
 - أ- المخازن الفرعية
 - ب- المخازن المساعدة
 - ج- مخازن المناولة
 - د- المخازن الخاصة
- 5- واحدة من بين الاتي لا تعتبر من ضمن التكاليف الخاصة بقرار شراء الصنف بدلاً من صنعه :
 - أ- تكاليف الاستلام والفحص
 - ب- تكاليف التأمين
 - ج- تكاليف النقل
 - د - التكلفة الاضافية للتمويل

السؤال الثاني / عدد و اشرح ست فقط من صفات رجل الشراء

السؤال الثالث/ مجمع النور للصناعات الكهربائية والالكترونية يحتاج من الصنف (س) الى (1000) وحدة في الشهر ، وأن تكلفة اصدار طلبية الشراء الواحدة هي (10) وحدات نقدية ، وتكلفة الاحتفاظ بالوحدة الواحدة كمخزون من هذا الصنف لمدة شهر واحد هي (0.5) وحدة نقدية ، ومتوسط المخزون في الشهر الواحد يساوي نصف حجم الطلبية ، فما هو الحجم الاقتصادي لطلبية الشراء في ضوء البيانات المعطاة ادناه :

حجم الطلبية (افتراضى)	عدد طلبيات الشراء في الشهر	تكلفة اصدار الطلبيات في الشهر	تكلفة التخزين في الشهر	التكلفة الكلية
100				
200				
250				
400				
500				

المطلوب / 1- اكمال الجدول اعلاه بالطريقة المحاسبية 2- كتابة القوانين المتعلقة بالحل 3- التعليق على النتائج

السؤال الرابع / اذكر بالتفصيل مزايا ومآخذ لامركزية التخزين

السؤال الخامس / اجب عن فرعين فقط

أ- عدد فقط استراتيجيات الشراء

ب- عدد فقط الوظائف الاساسية والرئيسة التي تحتاجها وظيفة الشراء

ج- عدد خمسة فقط من أنواع المخازن بحسب نوعية المخزون

العميد

د.د. عبدالحسين توفيق شبيبي

رئيس القسم

د.د. هادي عبد الوهاب عبد الامام

مدرس المادة

م. علي نصيف صبر



ملاحظة الإجابة عن خمس أسئلة لكل سؤال 10 درجات

السؤال الأول : أ / اختر الإجابة الصحيحة:

- 1- من احدى منافع النظام التسويقي لمنظمة الاعمال:
A- مراقبة السوق B- التكامل الوظيفي C- تطوير الاستراتيجية D- كل ما ذكر
- 2- تعتبر احد العوامل الغير سريعة:
A- الإعلان B- الطلب C- التوزيع D- كل ما ذكر
- 3- تعتبر احد اشكال المنتج الجديد:
A- المنتج المطور B- المنتج المحسن C- المنتج المبكر D- كل ما ذكر
- 4- من خطوات تطوير المنتج:
A- غريبة الافكار B- التعبئة C- التغليف D- كل ما ذكر
- 5- تعود فائدة التعبئة والتغليف الى طرفين هما :
A. المنتج والموزع B- المستهلك والموزع C- المنتج والمستهلك D- ليس ما ذكر

السؤال الأول: ب / ضع كلمة صح او خطأ مع تصحيح الخطأ:

- 1- الهدف الجوهرى لنظام المعلومات التسويقي هو تقديم البيانات بالشكل والوقت المناسب لاتخاذ القرار.
2- من احدى اسباب تطوير المنتج هي اكتشاف مواد اولية جديدة بتكلفة اقل.
3- احدى مراحل دورة حياة المنتج هي الانحدار.
4- من خصائص مرحلة تقديم المنتج تكون المنافسة قليلة.
5- حماية المجتمع من الممارسات الخاطئة لبعض الشركات هي من أحد اسباب سن القوانين والتشريعات في الجانب التسويقي.

السؤال الثاني: أجب عن الاتي:

- أ- اذكر اهم الانتقادات التي وجهت الى المفهوم التسويقي ومفهوم المستهلك.
ب- اذكر اهم المبررات التي تدعونا الى دراسة البيئة التسويقية.

السؤال الثالث: اجب بطريقة علمية تفصيلية عن الاتي:

- أ- ماهي المتغيرات التي يتضمنها النشاط التسويقي وفق تعريف الجمعية الامريكية للتسويق.
ب- اذكر باختصار أهمية التسويق على مستوى الاقتصاد الكلي.

السؤال الرابع : وضح بالرسم:

- أ- اركان المفهوم الاجتماعي للتسويق. ب- مكونات نظام المعلومات التسويقي.


السؤال السادس: أ/ لديك البيانات التالية لأحدى الشركات في شهر شباط: سعر البيع (5) دينار، التكلفة الثابتة (2000) دينار، التكلفة المتغيرة للوحدة الواحدة (1.5) حجم المبيعات المتحققة (6000) وحدة. المطلوب: احتساب نقطة التعادل: بالوحدات، المبالغ، الربح .

السؤال السادس: ب/ إذا كان سعر بيع احد المصانع للمنتج $y = 92$ الى تاجر الجملة ويستهدف تاجر الجملة عائد بنسبة 20% وتاجر المفرد يستهدف 50% ، ما هو سعر الشراء للمستهلك؟

امنياتنا لكم النجاح


رئيس القسم
أ.د. هادي عبد الوهاب


العميد
أ.د. عبدالحسين توفيق شبلي


مدرس المادة
أ.م.د. عمار يوسف م. م. نرجس عقيل

المادة: إدارة الموارد البشرية
المرحلة: الثانية
الوقت: ساعتين
التاريخ: 2024 / 6 / 1



أسئلة الامتحان
النهائي
الدور - الثاني
الكورس الأول
للعام الدراسي
2024/2023



جامعة البصرة
كلية الإدارة والاقتصاد
قسم ادارة الاعمال
الدراسات الصباحية
والمسائية

ملاحظة: 1- الإجابة عن خمس أسئلة فقط

2- توزع الدرجات بالتساوي لكل سؤال 10 درجات

- س1: وضح ما هو الفرق بين التحليل الوظيفي والتصميم الوظيفي؟
- س2: ما أهمية إجراء الكشف الطبي وما هي تداعيات إهماله على المنظمة؟
- س3: وضح أهم مصادر وأساليب عملية الاستقطاب الداخلية والخارجية؟
- س4: ما هو مفهوم الاختيار والتعيين وأهميته لمنظمات الأعمال؟
- س5: وضح بإيجاز المشكلات التي ترافق عملية الاستقطاب؟
- س6: ما هي سياسات تصميم الوظائف موضحاً مفهوم هذه السياسات وإيجاز؟

مع تمنياتي لكم بالنجاح

العميد
أ.د. عبدالحسين توفيق شبلبي

رئيس القسم
أ.د. ماجي عبد الوهاب

مدرسا المادة
أ.د. رشا مهدي صالح
أ.د. وميض عبدالزهره خضير



ملاحظة / الإجابة عن أربعة أسئلة فقط . وتوزع الدرجة بالتساوي على الأسئلة .

س١ / ضع كلمة (صح) امام العبارة الصحيحة وكلمة (خطا) امام العبارة الخاطئة مع تصحيح الخطا ان وجد: (١٢.٥ درجة)

- ١- يقوم مجلس الإدارة بإقرار نسبة الأرباح الواجب توزيعها على الأعضاء وتحديد نسبة الاحتياطي الزامي وإية احتياطات أخرى تراها مناسبة .
 - ٢- لا يعد استخراج المواد الأولية من الأعمال التجارية .
 - ٣- يعد الدلال ضامناً إذا كلفه أحد العملاء بإبرام العقد .
 - ٤- يقوم التأمين التبادلي على فكرة الربح .
 - ٥- يمكن إشتراط الفائدة في الأوراق التجارية بنسبة المبلغ الذي يتضمنه .
 - ٦- يعد السند للأمر أداء وفاء ونقل ولكن لا يعد أداة ائتمان .
- س٢ / اختر الإجابة الصحيحة لكل مما يأتي :

(١٢.٥ درجة)

- ١- موعد استحقاق _____ عند الاطلاع فقط .
أ- الصك ب- الحوالة ج- السند للأمر د-المستفجة
 - ٢- في المستفجة إذا قبل المسحوب عليه دفع المبلغ عندها يسمى _____
أ- الساحب ب- المستفيد ج- القابل د- المقبول
 - ٣- لا يحق للفردي أن يكون عضواً في مجالس إدارة أكثر من _____ شركات مساهمة خاصة او مختلطة .
أ- ٣ ب- ٤ ج- ١ د- ٢
 - ٤- _____ يعني وجود أموال تحت تصرف الشركة كي تتمكن من إجراء التصرفات القانونية المتعلقة بنشاطها بصورة مستقلة .
أ- الاستقلال المالي ب- الشخصية المعنوية المستقلة ج- الأموال د- النظام المالي المحاسبي
 - ٥- في الشركات المختلطة ، تكون الشركة _____ إذا كانت نسبة مساهمة الدولة اقل من ٢٥%
أ- خاصة ب- مختلطة ج- اشخاص د- مساهمة مختلطة
 - ٦- _____ وهو العمل الذي يتم من خلاله تبادل الثروات والذي يتم بهدف الحصول على ربح مادي .
أ- التداول ب- الاحتراف ج- المضاربة د- ليس من الاختيارات السابقة
- س٣ / صحح ما تحته خط لكل مما يأتي :

- ١- التجارة : كل حرفة صغيرة يمارسها الشخص مقتصراً في ذلك على نشاطه البدني .
- ٢- الورقة التجارية : هي عبارة عن عقد يتعهد بمقتضاه الوكيل بأجراء التصرف القانوني باسمه الخاص ولحساب الموكل .
- ٣- مكاتب السياحة : هي عقد يلتزم به شخص بتجهيز شخص آخر ببعض الأموال المنقولة على شكل دفعات متتالية خلال فترة معينة بمقابل مادي .
- ٤- البناقل : هو كل شخص طبيعي أو معنوي يزاول باسمه ولحسابه على وجه الاحتراف عملاً تجارياً وفقاً لأحكام هذا القانون .
- ٥- إركان العقد هي تلك العقود التي يعلم فيها الطرفان اثناء التعاقد ما يمكن الحصول عليه من العقد .
- ٦- الأوراق التجارية ، هي نشاط اقتصادي يقوم على الثقة والأمانة والنزاهة في التعامل وعلى التاجر الألتزام الدقيق بذلك وإلا تعرض للمسؤولية .

س٤ / قارن الأوراق التجارية بكل من الأوراق النقدية والأوراق المالية .

س٥ / عرف السجل التجاري ، ثم بين أهميته القانونية في القوانين التجارية ، وأبحث في جزاء الإخلال بالالتزام بالتسجيل فيه .

مع تمنياتي لكم بالنجاح

رئيس القسم
د. هادي عبد الوهاب

د. زينب ياسمين

م.م ياسمين نجم السعد
مدرس المادة

المعيد
د. عبد الحسين توفيق شبلبي

المادة: إدارة الأعمال
المرحلة: بتماس
الوقت: ساعتان
التاريخ: ٢٠٢٤/٧/٢٠



أسئلة الامتحان
النهائي
الدور - الثاني
الكورس الاول
للعام الدراسي
٢٠٢٤/٢٠٢٣



جامعة البصرة
كلية الإدارة والاقتصاد
قسم إدارة الأعمال
الدراسات الصباحية
والمسائية

ملاحظة: الإجابة عن أربعة أسئلة فقط. توزع الدرجات على جميع الأسئلة بالتساوي.

س١/ وضح بشكل مبسط وظائف وشبكة الامداد؟

س٢/ ماهي مزايا وعيوب المخازن الخاصة والعمامة عددها فقط؟

س٣/ وضح مع الرسم اهم خطوات نموذج (SCOR) ؟

س٤/ ماهي وظائف المخازن الاساسية عددها مع الشرح؟

س٥/ صحح ماتحتة خط في العبارات التالية:

١- الاستقبال هو النظام الذي يتضمن الحركة المادية للمنتج لخزنه والحركة الخاصة داخل المخزن لاضافة عمليات خاصة له.

٢- نشاط حركة النقل الذي يعني بمتابعة الاداء الخاص بالأنشطة السابقة كلها لغرض التأكد من سلامة القرار وإجراءات التصحيحات لهذه الأنشطة هو نشاط إدارة مستندات الشحن.

٣- التوزيع المختلط يعني نقل المنتجات من المؤسسة باتجاه العملاء.

٤- أنظمة المعلومات والاتصالات تعد من الوظائف المتعلقة بالإنتاج.

٥- الاستراتيجية المعتمدة في حال توزيع المنتجات تامة الصنع بكميات صغيرة من اجل التوصل الى اقل مستوى من التكاليف الاجمالية هي استراتيجية التوزيع الشاملة.

٦- وظيفة التخزين هي المسؤولة عن التخطيط المسبق لتوفير المواد الخام

رئيس القسم

أ.د. هادي عبد الوهاب عبدالامام

مع تمنياتي لكم بالنجاح

مدرس المادة

م. ناجي صالح ضهد

أ.د. عبدالحسين توفيق شبلي



ملاحظة // الإجابة عن اربعة اسئلة فقط ، وتوزع الدرجة على الاسئلة بالتساوي .

- س١/ ضع كلمة (صح) امام العبارة الصحيحة وكلمة (خطأ) امام العبارة الخاطئة مع تصحيح الخطأ ان وجد: (١٢.٥ درجة)
- ١- في دستور ١٩٦٨ (بعد الانقلاب) ، ورد فيه قانون لتأسيس الأحزاب والاعتراف بها ، لذلك تألفت عدة أحزاب في هذه المدة.
 - ٢- الحقوق السياسية حسب مفهوم حزب البعث البائد للديمقراطية كانت تقتصر على الفئات والطبقات التي يمثلها الحزب الحاكم فقط.
 - ٣- في ١٩٦٨-١٩٧٨ سمح النظام في التعددية برغبة حقيقية في المصالحة مع الأحزاب والمجموعات المعارضة .
 - ٤- فيما يخص اعتقال الأجانب ، لم يقوم النظام السابق بأخبار قسم رعاية شؤون المواطنين الاجانب باعتقال سبيرانغ .
 - ٥- اشترط النظام السابق بشكل صريح أن يكون عضو المجلس الوطني بعتياً .
 - ٦- إن جوهر مبادئ العدالة الانتقالية هي سير المجتمع نحو الاستقرار ، حينما ترسو العدالة والإنصاف .

س٢/ اختر الإجابة الصحيحة لكل مما يأتي :

- ١- انشئ مجلس الاعمار في زمن _____
أ- النظام الملكي ب- العهد الجمهوري (١٩٥٨-١٩٦٨) ج- العهد الجمهوري (١٩٦٨-٢٠٠٣) د- ليس من الاختيارات السابقة
- ٢- بعد انقلاب ١٩٦٨ ، بقيت حرية الصحافة محكومة بمبدأ _____ ،
أ- الترخيص ب- الدكتاتورية ج- الديمقراطية د- حرية الرأي
- ٣- أُلغيت العديد من المنظمات الجماهيرية مثل الاتحاد العام لساء العراق ، واتحاد طلبة العراق وغيرها في _____
أ- ١٩٦٣-١٩٦٨ ب- ١٩٦٨-١٩٧٨ ج- ١٩٧٩-١٩٨٨ د- ١٩٧٨-١٩٧٩
- ٤- كان للحكم البعثي الأثر السلبي في افساد الأخلاق لدى فئات في المجتمع المتنوعة ، وكان ذلك ضمن خطة ممنهجة اعتمدت على _____
أ- تعدد الأحزاب ب- عسكري المجتمع ج- حصر السلطات بيد الحزب د- الاختيارات السابقة كافة
- ٥- ان هدف العدالة الانتقالية المتمثل بالبحث عن الحقيقة وحفظ الذاكرة يقوم على عاملين مترابطين هما _____ و _____
أ- المحاسبة وترسيخ ثقافة عدم الإفلات من العقاب ب- ترسيخ ثقافة احترام الرأي والتعبير ج- نبذ العنف والاستبداد د- جبر الضرر ورد الاعتبار
- ٦- أن العدالة التصحيحية لا يمكن أن تتحقق في إطار أي نظام سياسي مالم يكن هناك _____
أ- عدالة انتقالية ب- فصل سلطات ج- ديمقراطية د- ركائز أساسية

س٣ / اشرح المقابر الجماعية وقصف دور العبادة . (١٢.٥ درجة)

- س٤ / ما هي الاثار التي خلفتها الحروب على ارض العراق ؟ ابحتها بالتفصيل . (١٢.٥ درجة)
- س٥ / عرف العدالة الانتقالية ، ثم ابحت في مزاياها بالتفصيل . (١٢.٥ درجة)

مع تمنياتي لكم بالنجاح

رئيس القسم

١. د. هادي عبد الوهاب

مدرس المادة

٢. د. زينب ياسين

العميد

١. د. عبد الحسين توفيق شبلي



اجب عن أربعة أسئلة (12.5 لكل سؤال)

س1: (ا) ما هي المدارس الفكرية التي طرحها علم النفس في مجال السلوك التنظيمي ؟ عددها مع التوضيح .
(ب) اشرح بشكل مفصل نظرية التحليل النفسي للعالم Sigmund Freud

س2: (ا) ما هي المكونات الأساسية للاتجاهات ؟ عددها مع التوضيح
(ب) ما هي المكونات الأساسية لنظرية الانجاز ل David McClelland ؟ مع التوضيح

س3: (ا) عدد المراحل الأساسية لنمو وتطور الجماعة .
(ب) وضح أهم الخطوات والمراحل الأساسية لعملية الإدراك

س4: (ا) وضح بشكل مفصل أهم النماذج الافتراضية حول سلوك الإنسان
(ب) اشرح نظرية التضج حول الشخصية للعالم Argyris

س5: (ا) اختر الإجابة الصحيحة

1. ان وحدة التحليل في فهم السلوك التنظيمي التي تم اعتمادها من قبل علم النفس هي.....
ا. المنظمة ب. الفرد ج. المجموعة د. الفرد والمجموعة في ان واحد

2. عندما يرى الفرد صفات الآخرين من خلال صفاته الذاتية فان ذلك يسمى
ا. التوقع المحقق لنفسه ب. التعميم والتنميط ج. الأجزاء د. الإسقاط

3. تتمثل علاقة القيم بالاتجاهات في أن...
أ. القيم تحدد الاتجاهات ب. الاتجاهات تحدد القيم ج. القيم لا تحدد الاتجاهات د. لا توجد علاقة بينهما

4. إن النشاط الذي يقوم به الفرد عقب حدوث المثبر يسمى
أ. التدعيم ب. المدعم ج. الاستجابة د. كل ما ذكر

5. من خصائص الجماعة الناجحة :
أ. النقد المتكرر وصريح وغالبا هادئ ب. التكوين ج. الانجاز د. كل ما ذكر

6. ان العلم الذي يهتم بدراسة الفرد وعمله وثقافته هو
أ. علم الإنسان ب. علم النفس ج. علم النفس الاجتماعي د. علم الاجتماع

(ب) وضح أهم المتغيرات الأساسية لنظرية التوقع للعالم Victor Vroom

مع تمنياتي لكم بالنجاح

إ.د. عبدالحسين توفيق

إ.د. هادي عبدالوهاب

إ.د. هادي عبدالوهاب

م.م. نرجس عقيل

المادة: الحاسوب 2
المرحلة: الثانية
الوقت: ساعتين
التاريخ: 2024 /7/6



أسئلة الامتحان
النهائي
الدور - الثاني
الكورس الثاني
للعام الدراسي
2024/2023



جامعة البصرة
كلية الإدارة والاقتصاد
قسم إدارة الأعمال
الدراسات الصباحية
والمسائية

ملاحظة: الاجابة عن خمسة اسئلة (توزع الدرجات بالتساوي)

س1/ تكلم بالتفصيل عن دالة البحث الانفي مع ذكر بشكل مفصل بناء الدالة والوسيطات المستخدمة في الدالة. (10 درجات)
س2 / اجب عن احد الفرعين التاليين.

أ. في اثناء بيانات لاحدى الشركات والمطلوب حساب (الراتب، الاضافي، الحوافز، الخصومات ، التامينات): (10 درجات)

BN	BM	BL	BK	BJ	BI	BH	BG	BF	BE	62
صافي الراتب	التامين	الخصومات	ايام الغياب	الراتب بعد الاضافي	الحوافز	الاضافي	الائتاب	الوظيفة	الاسم	
			1					مدير حسابات	A	63
			3					مشتريات	B	64
			5					مبيعات	C	65
			3					مدير حسابات	D	66

الراتب : اذا كانت الوظيفة مدير حسابات يكون راتبه 10000 دينار واذا كان، واذا كان مشتريات يكون 3500دينار، واذا كان مبيعات يكون 7000 دينار، غير ذلك 5000 دينار.. الاضافي: اذا كان الراتب اكبر من او يساوي 6000 دينار يتم اضافة 9% من الراتب، اذا كان الراتب اكبر من او يساوي 5000 دينار يتم اضافة 7% من الراتب، اذا كان اقل من 5000 دينار يكون اضافة 2% من الراتب غير ذلك 0 . الحوافز: اذا كان راتب الموظف اكبر من 6000 دينار تكون 1500 دينار بخلافه 1000 دينار. الخصومات والتامينات: (الخصومات) اذا كان الراتب اكبر من 7000 دينار واعد ايام الغياب اكبر من او يساوي 3 يوم يكون 5% من المرتب غير ذلك 0% من الراتب، (التامينات) اذا كان الراتب اكبر من او يساوي 4000 او الحوافز اكبر من او يساوي 50 يكون 12% من الراتب غير ذلك 10%.

ب. ما هي الدوال العنودية؟ عددها وشرحها بشكل مفصل مع اعطاء مثال عن كل واحدة منها.

س3 / فيما يلي بيانات لعدد من موظفي احدى المؤسسات (10 درجات)

BA	AZ	AY	AX	AW	AV	
الراتب	الدرجة الوظيفية	سنوات الخدمة	العمر	طبيعة العمل	الاسم	
25000	5	11	35	صباحي	ازهر	29
18000	6	8	28	مساتي	نور	30
32000	2	16	40	مساتي	مصطفى	31
15000	7	5	22	صباحي	شيد	32
						33

المطلوب : 1 احسب صافي الراتب بشرط يتم اضافة 15% للراتب وخصم ضريبة من 10% اذا كان دوامه صباحي او عمره اكبر من 30 سنة او درجته الوظيفية 6 او سنوات الخدمة اكثر من 10 سنوات ، ويتم اضافة 5% الى الراتب وخصم ضريبة 2% اذا كان دوامه مساتي وسنوات خدمة اقل من 9 سنوات. 2. احسب معدل رواتب الموظفين الذين يتوسط اسمائهم حرف (ط). 3. احسب عدد الموظفين الذين لديهم دوام مساتي. 4. يتم اضافة 9% للراتب اذا كان لديه دوام صباحي او خدمة اكبر من او يساوي 5 سنوات عمل او درجته الوظيفية اكبر من 8 ، غير ذلك يبقى الراتب على ما هو عليه. 5. اذا كانت سنوات خدمة بين 3 و 10 سنوات يستحق المكافأة ، غير ذلك لا يستحق. يتبع..

س14 / 1. المفتاح Ctrl+F1 دالة LOWER 2. دالة RIGHT 3. المفتاح Alt+F8 4. دالة RIGHT 5. المفتاح Shift+F10
6. المفتاح Ctrl+F9 7. المفتاح F11 8. دالة MODE 9. المفتاح Shift+F2 10. الدالة PV. (10 درجات)

س 15 / التالي بيانات لاحدى محلات بيع الملابس والمطلوب التالي:

W	V	U	T	S	R	Q	P	
الخصم	اجمالي الكلفة	الضريبة	مصاريف النقل	كلفة الشراء	عدد القطع/كارتون	النوع	السلعة	18
				30000	100	رجالي	قميص	19
				25000	60	نسائي	بنطلون	20
				70000	80	اطفال	تيشيرت	21
				50000	50	نسائي	جاكيت	22
				65000	30	اطفال	بدلة	23

1 إذا كان عدد القطع أكبر أو يساوي (100) قطعة أو كان النوع رجالي يتم احتساب مصاريف نقل 10% من كلفة الشراء ، وإذا كان اصغر من (65) قطعة يتم احتساب 12% من كلفة الشراء ، مالم يتم احتساب 15% 2. اذا كانت نوع السلعة بنطلون يتم احتساب ضريبة 3% من كلفة الشراء، وإذا كان جاكيت يتم خصم 2% من كلفة الشراء ، وإذا كان بدلة يتم خصم 5% من مصاريف النقل ، غير ذلك 6% من كلفة الشراء. 3. احسب اجمالي الكلفة. 4. اخذ نسبة خصم 20% للزبون اذا كان رجالي و 15% اذا كان نسائي من اجمالي الكلفة عدا ذلك يساوي 0. 5. ما هو معدل بيع قطع البنطلون وباجمالي كلفة اكبر من او يساوي 40000 الف.

س6 / فيما يلي بيانات الموظفين ودرجات اختباراتهم للتقديم على الترفيع. علما ان درجات الاختبار هي من 100 . (10 درجات)

Q	P	O	N	M	L	K	
الاختبار الثالث	الاختبار الثاني	الاختبار الاول	الراتب	العمر	المعدل	اسم الموظف	20
85	50	60				A	21
100	56	30				B	22
25	40	30				C	23

المطلوب: 1. يعتبر الموظف مؤهل للترفيع حالة نجاحه باختبار واحد على الاقل غير ذلك يعتبر غير مؤهل. 2. يعتبر الموظف مقبول في حالة اجتيازه الحد الأدنى من الاختبار B10 وكان عمرة اكبر من 30 ومعدله اكبر من او يساوي 70 غير ذلك يعتبر غير مقبول. 3. في حالة الموظف ناجح بجميع الاختبارات يتم جمع درجات الاختبار غير ذلك (0). 4. استخرج مجموع اصغر معدلين للموظفين اعلاه. 5. استخرج حاصل ضرب الاختبار الاول مع الاختبار الثاني باستخدام الدالة.

مع تهنيتاتي لكم بالنجاح

أ.د. هادي عبد الوهاب عبد الامام
رئيس القسم

أ.د. عبد الحسين توفيق شبلي
العميد

م. عمار نزار مصطفى
مدرس المادة

المادة: بحوث التسويق
المرحلة: الثانية
الوقت: ساعتان
التاريخ: 2024 / 7 / 28



أسئلة الامتحان
النهائي
الدور - الثاني
الكورس الثاني للعام
الدراسي
2024/2023



جامعة البصرة
كلية الإدارة والاقتصاد
قسم ادارة الاعمال
الدراسات الصباحية
والمسائية

ملاحظة: الاجابة عن اربعة اسئلة فقط (لكل سؤال 12.5 درجات)

- س1: ناقش النقاط في ادناه بأسلوب علمي موجز:
1. ان بحوث التسويق ليست بنشاط علمي بحت ويتعامل مع حقائق وعوامل ثابتة؟
 2. يهدف بحث تحديد المشكلة (البحث التسويقي الاساسي) الى توسيع نطاق المعرفة التسويقية على العكس من بحث معالجة المشكلة؟
 3. قيام الباحث بتحديد الابعاد الزمانية والمكانية لحدود المشكلة في الخطوة الاولى من البحث التسويقي؟
 4. يوصف البحث التسويقي بكونه طريقة تنظيمية وموضوعية لحل المشكلات واستغلال الفرص التسويقية.
 5. التوجه نحو منظمات الاعمال في اجراء بحوث التسويق في حقيقته يكون اصعب بكثير مما هو عليه في التوجه نحو المستهلك؟

س2: ما المقصود بالعينات؟ وما المبررات المنطقية لاستخدام العينات في البحث التسويقي؟

- س3: س2: وضح من خلال الرسم فقط الاتي: "الاجابة عن الفرعين"
- أ. المصادر الثانوية الخارجية المنشورة في البحث التسويقي؟
 - ب. انواع العينات الاحتمالية؟

س4: اجب عن الفرعين الآتيين:

- أ. قارن بين البحث التسويقي الكمي والبحث التسويقي النوعي؟
- ب. ما الاخطاء التي يمكن ان يقع بها الباحث في اطار تحديد مشكلة البحث؟

س5: تكلم عن الاستبيان بوصفه الاداة الاكثر استخداماً في جمع البيانات الاولى من خلال المحاور الاتية:

- تعريف الاستبيان؟
- المكونات التي يشتمل عليها الاستبيان؟
- الاعتبارات الواجب مراعاتها عند تصميم الاستبيان؟

مع تمنياتي لكم بالنجاح

العميد
د. عبدالحسين توفيق شبلي

رئيس القسم

أ.د. هادي عبد الوهاب عبد الامام

مدرس المادة

أ.م. رأفت عواد موسى

المادة: محاسبة مالية
المرحلة: الثانية
الوقت: ساعتين
التاريخ: ٢٠٢٤/٩/٩



أسئلة الامتحان
النهائي
الدور - الثاني
الكورس الثاني
للعام الدراسي
٢٠٢٤/٢٠٢٣



جامعة البصرة
كلية الإدارة والاقتصاد
قسم ادارة الاعمال
الدراسات الصباحية
والمسائية

الاجابة عن اربعة اسئلة ولكل سؤال ١٢,٥ درجة

س١: ما هو الفرق بين الجرد الدوري والمستمر للمحاسبة عن المخزون السلعي؟

س٢: في ١/٧/٢٠١٢ تم شراء ماكينة بمبلغ ٥٠٠٠٠٠ دينار نقداً، وقد تم دفع مصاريف نقل وتركيب بمبلغ ١٠٠٠٠٠ دينار، وقد قدر العمر الانتاجي المفيد لها ٥ سنوات بعدها تصبح خردة يمكن بيعها بمبلغ ٨٠٠٠٠ دينار، وتستخدم ادارة الشركة طريقة القسط الثابت في احتساب الاندثار.

المطلوب: ١- تسجيل قيد الشراء في ١/٧/٢٠١٢ .

٢- تسجيل القيود المحاسبية بالطريقة المباشرة فقط وفق الحالات الاتية:

أ- بيع الماكينة في ١/٤/٢٠١٥ بمبلغ ٣١٤٠٠٠ دينار.

ب- بيع الماكينة في ١/٤/٢٠١٥ بمبلغ ٣٠٠٠٠٠ دينار.

ت- بيع الماكينة في ١/٤/٢٠١٥ بمبلغ ٣٨٠٠٠٠ دينار.

س٣: في ١/٢/٢٠١٩ استثمرت شركة العراق التجارية ١٠٠٠ سهم من اسهم شركة الرافدين والبالغ عدد اسهمها ٣٠٠٠ سهم بكلفة ٥ دينار للسهم الواحد والاتي العمليات الاستثمارية التي حصلت خلال السنة المالية:

١- في ٢٥/١٢/٢٠١٩ أعلنت شركة الرافدين عن ارباح بلغت ٥,٥ دينار للسهم الواحد.

٢- في ٣٠/١٢/٢٠١٩ استلمت شركة العراق التجارية حصتها من الارياح نقداً.

٣- في ٣١/١٢/٢٠١٩ تم تقييم استثمار شركة العراق التجارية في شركة الرافدين بالقيمة العادلة بمبلغ ٥,٢ دينار للسهم الواحد.

المطلوب: تسجيل القيود المحاسبية في ظل وجود سيطرة (طريقة الملكية) وفي حالة عدم وجود سيطرة (طريقة القيمة العادلة).

س٤: فيما يلي المعلومات الخاصة بالبضاعة التي تتاجر بها محلات احمد التجارية لشهر نيسان ٢٠١٩ :

في ١/٤ بلغ عدد الوحدات ٣٠٠٠ وحدة بكلفة ١٠ دينار للوحدة الواحدة.

في ٥/٤ تم شراء ٤٠٠٠ وحدة بسعر ١١ دينار للوحدة الواحدة.

في ٨/٤ تم بيع ٦٠٠٠ وحدة بسعر ٢٠ دينار للوحدة الواحدة.

في ١٠/٤ تم شراء ٣٠٠٠ وحدة بسعر ١٣ دينار للوحدة الواحدة.

في ١٥/٤ تم بيع ٤٠٠٠ وحدة بسعر ٢٠ دينار للوحدة الواحدة.

في ٢٠/٤ تم شراء ٦٠٠٠ وحدة بسعر ١٥ دينار للوحدة الواحدة.

في ٢٢/٤ تم بيع ٣٠٠٠ وحدة بسعر ٢٠ دينار للوحدة الواحدة.


المطلوب: احتساب كلفة البضاعة المباعة وكلفة بضاعة اخر المدة ومجمل الربح في ظل الجرد المستمر وبموجب طريقة


يتبع.....


الوارد اخيراً صادر اولاً (LIFO).

س: ٥: في ٢٠١٥/٤/١ اشترت احدى الشركات التجارية اثاث بمبلغ ٢٥٥.٠٠٠ دينار ودفعت اجور نقل بمبلغ ٥.٠٠٠ دينار نقدا وقد قدرت الانقراض بمبلغ ١٠.٠٠٠ دينار في نهاية العمر الانتاجي البالغ ٥ سنوات.
المطلوب: ١- تسجيل قيد شراء الاثاث
٢- احتساب قسط الاندثار للسنتين ٢٠١٥ و ٢٠١٦ بموجب طرق الاندثار التالية:
أ- القسط الثابت ب- مجموع سنوات العمر الانتاجي
٣- تسجيل قيد اندثار الاثاث للسنتين ٢٠١٥ و ٢٠١٦ اذا علمت ان الشركة تتبع الطريقة غير المباشرة في التسجيل.

مع تمنياتي لكم بالنجاح


العميد
أ.د. عبدالحسين توفيق شبلي


رئيس القسم
أ.ب. هادي عبد الوهاب


مدرس المادة
م.د. علي ماجد



Note: Answer Four out of Five questions. (12.5 M for each question)

Q1: Answer the following questions:

1. Which sentence is in the present simple tense?

- A) She is reading a book right now. B) He reads books every evening.
C) They have been swimming all afternoon. D) I will finish my homework later.

2. Which sentence is correct in the present simple tense?

- A) They will go to the movies tomorrow. B) She was cooking dinner when I called.
C) He plays football every Saturday. D) I have been studying English for three years.

3. Which sentence uses the present simple tense?

- A) He is going to the store now. B) She has written many novels.
C) They play tennis every Sunday. D) We were watching a movie last night.

4. Which sentence is not in the present simple tense?

- A) I work in a bank. B) He is playing the piano.
C) They have finished their homework. D) She goes to school by bus.

5. Which sentence correctly uses the present simple tense?

- A) She will visit her grandmother next week. B) They have been living here since 2010.
C) He always arrives early for meetings. D) We were singing in the choir yesterday.

6. Which sentence is in the present simple tense?

- A) We were walking in the park this morning. B) She cooks dinner every evening.
C) They had already left when we arrived. D) He will call you later today.

7. Which sentence does not use the present simple tense?

- A) They go swimming every Sunday. B) She is driving to work right now.
C) We have been playing chess for hours. D) He reads the newspaper every morning.

8. Which sentence is in the present simple tense?

- A) I have been working here for five years. B) She will be arriving at the airport at 3 PM.
C) He always drinks coffee in the morning. D) They were painting the house last weekend.

9. Which sentence correctly uses the present simple tense?

- A) They have traveled to many countries last year. B) He writes poems in his free time.
C) She was finishing her homework when the phone rang. D) We will go to the beach tomorrow.

10. Which sentence is in the present simple tense?

- A) They are playing football now. B) She has been dancing for two hours.
C) He usually reads books before bed. D) We went to the concert last night.

----- (12.5 M)

Q2: Answer the following questions in past continuous tense:

1. What was happening when it started raining?

- A) She writes stories every weekend. B) They were playing soccer.
C) He has finished his homework. D) I will visit my grandparents tomorrow.

2. When did they watch a movie?

A) She reads books every night. B) At 8 PM, they were watching a movie.

C) He has already left for work. D) We will go swimming this weekend.

3. What were they doing yesterday evening?

A) I was cooking dinner when he called. B) They are going to the beach next week.

C) She was studying all afternoon. D) We were playing cards.

4. What was he not doing last night?

A) He was working late. B) They have been waiting for hours.

C) We were walking in the park when it started raining. D) She will visit her aunt tomorrow.

5. What happened when the power went out?

A) She sings in the choir every Sunday. B) They were reading books.

C) He has already finished his lunch. D) We will go skiing next winter.

6. What was she doing when the phone rang?

A) They have been traveling around Europe. B) She was cooking dinner.

C) He reads a book every evening. D) I will meet them at the restaurant later.

7. What happened when she was driving to work?

A) We go to the gym every morning. B) She was driving when the accident happened.

C) He has already completed his assignment. D) They will visit their grandparents next weekend.

8. What was he doing when he twisted his ankle?

A) They have been studying for the exam. B) He was playing football.

C) She reads a book every night. D) We will watch a movie this evening.

9. What was he doing when you called?

A) They have visited many countries last summer. B) He was sleeping.

C) She writes stories in her free time. D) We will go to the concert next week.

10. When were they playing tennis?

A) She is reading a book right now. B) They were playing tennis yesterday afternoon.

C) He usually goes jogging in the morning. D) We will visit our friends next month.

------(12.5 M)

Q3: Answer with True or False in present continuous tense for the following questions:

1. They are playing soccer right now.

2. She is writing a letter at this moment.

3. He is reading a book every evening.

4. We are having dinner at 7 PM tonight.

5. They are traveling to Paris next week.

6. She is studying for her exam tomorrow.

7. They are watching a movie tonight.

8. He is working on a project right now.

9. We are going to the beach next weekend.

10. They are cooking dinner every Sunday.

------(12.5 M)

Q4: Write the following verbs in Third person singular:

1. start 2. write 3. stand 4. sleep 5. sell 6. put 7. meet 8. run 9. sing 10. Fall

------(12.5 M)

-----> Write the right word in simple future tense.


Q5: Fill in the blank with the right word in future continuous tense:

1. What time you(arrive) tomorrow?
2. they (sleep) when we arrive?
3. How long you (study) when I call you?
4. By this time next year, where you (live)?
5. What she (do) when you see her?
6. he(work) all day?
7. How we (celebrate) the party tomorrow evening?
8. By the time we get there, how long they (wait)?
9. you(ready) when I come over?
10. What they(do) at this time next week?

Good Luck



Ass. Prof. Dr. Ammar Y. Dhicher
Lecturer



Prof. Dr. Hadi. Al Abrrow
Head of the Dept.

المادة: رأس المال الفكري
المرحلة: الثانية
الوقت: ساعتين
التاريخ: ١٣ / ٧ / ٢٠٢٤
النموذج: جميع النماذج



أسئلة الامتحان
النهائي
الدور - الثاني
الكورس الثاني
للعام الدراسي
٢٠٢٣ / ٢٠٢٤



جامعة البصرة
كلية الإدارة والاقتصاد
قسم إدارة الاعمال
الدراسات الصباحية
والمسائية

ملاحظة: الإجابة عن أربعة أسئلة فقط

- س ١: ما هي أشكال التنوع كخصيصة أساسية في بناء رأس المال الفكري؟.
- س ٢: وضح بإيجاز ما هي مؤشرات التحكيم التي يستلزم اعتمادها في المحفظة البشرية؟.
- س ٣: ما هو مفهوم القيادة الذكية، وما هي أبرز ممارساتها؟
- س ٤: وضح بإيجاز ما أهمية قياس رأس المال الفكري وضروريته؟
- س ٥: وضح بإيجاز ما هي آليات بناء رأس المال الفكري ومتطلبات تطويره؟

مع تمنياتي لكم بالنجاح

العميد

أ.د. عبدالحسين توفيق شبلبي

رئيس القسم

أ.د. هادي عبد الوهاب

مدرس المادة

أ.د. رشا مهدي صالح



❖ ملاحظة الإجابة عن خمسة أسئلة فقط

س1: اجب عما يأتي: (10 درجات)

- أ- اذكر فوائد التجارة الالكترونية التي شجعت على تبنيها واستخدامها في الأسواق التجارية.
ب- اعرض الطرق المستخدمة للإجابة على استفسارات العملاء في مراكز الاتصال في التجارة الالكترونية.

س2: اختر الإجابة الاقوى مما يأتي: (10 درجات)

1. من تقنيات التسويق عبر الانترنت الاتي:
أ) استخدام النوافذ المنبثقة. ب) النشر بعرفة أهمية التجارة. ج) ضمان للتجارة الدولية.
2. تستخدم الكثير من الشركات الرقمية طرق كثيرة لجمع المعلومات عن الزوار منها الاتي عدا واحدة:
أ) الدردشة. ب) القسم المالي. ج) البريد الالكتروني.
3. من بين الاتي ثلاث مراحل أساسية للعلاقات مع الزبائن:
أ) التقديم والنمو والنضوج. ب) التواصل مع الزبائن وحل مشاكلهم وارشادهم. ج) اكتساب الزبائن والحفاظ على الزبائن وزيادة الزبائن.

4. تتم عملية الترويج بعدة طرق مختلفة من ضمنها:
أ) تواجد المشتري والبائع بنفس المكان. ب) إعطاء عينات مجانية. ج) مبادرة البائع للمشتري بالسؤال.
5. من خصائص الشركات الرقمية:

أ) اقل هرمية ب) رأس المال اكبر ج) عدد عاملين اكبر
س3: عرف خمسة مما يأتي: (10 درجات)

- أ) B2C ب) الاعمال الالكترونية ج) C2B
د) مكائن البحث ه) برامج التنصت و) النوافذ المنبثقة

س4: عرف البطاقة الذكية وحدد أنواعها وطريقة استخدامها وكيفية الاستفادة منها في الاعمال التجارية. (10 درجات)

س5: اجب عن الفرعين الآتيين: (10 درجات)

- أ) بين بشرح وإب العوامل التي تؤدي الى الانتشار الواسع لطريقة الدفع الالكتروني.


ب) وضح الطرق المبتكرة والفعالة والسريعة لجمع المعلومات عن الزبائن والتي بعضها يتم بدون علم الشخص.


س6: قارن بين حسنات التسويق عبر الانترنت وسلبياته بالنسبة للزبون مبيناً رأيك في ذلك.


(10 درجات)

(10 درجات)

مع تمنياتنا لكم بالنجاح


العميد
أ.د. عبدالحسين توفيق شبلي


رئيس القسم
أ.د. هادي عبد الوهاب عبد الامام


مدرس المادة
م.م محمد عبدالرضا فرج



جامعة البصرة
كلية الإدارة والاقتصاد
قسم إدارة الأعمال

اسئلة
المرحلة الثالثة
الدور الثاني
للكورسين الاول و الثاني
الدراسات الصباحية والمسائية
للعام الدراسي 2023-2024

المادة: الادارة المالية
المرحلة: الثالثة
الوقت: ساعتان
التاريخ: 2023 / 6 / 2



أسئلة الامتحان
النهائي
الدور - الرباعي
الكورس الأول
للعام الدراسي
2024/2023



جامعة البصرة
كلية الإدارة والاقتصاد
قسم إدارة الأعمال
الدراسات الصباحية
والمسائية

*ملاحظة / الاجابة عن اربعة اسئلة وتوزع الدرجات بالتساوي لكل سؤال (12.5 درجة)

س(1) من المعلومات الآتية التي تخص شركة الصناعات الغذائية المساهمة:-

- 1- مجموع الموجودات = 4000000
- 2- نسبة هامش صافي الدخل = 10%
- 3- صافي المبيعات = 10000000
- 4- رأس المال = 150000
- 5- القيمة الاسمية للسهم العادي = 1.5
- 6- نسبة توزيع الارباح = 50%

المطلوب:- احسب الآتي:

- 1- ربحية السهم الواحد.
- 2- معدل العائد على حق الملكية.
- 3- معدل العائد على مجموع الموجودات.

س(2) مشروع انتاجي بلغت كلفته 160000 دينار وعمره الانتاجي 5 سنوات وقدرت قيمة الانقاص 10000 دينار وان معدل الفائدة المتوقع الحصول عليه من استثمار وتدفقات الاندثار 10%.

المطلوب:

- 1- حساب قسط الاندثار السنوي بطريقتي الخط المستقيم وصف الرصيد المتناقض.
- 2- حساب الوفر الضريبي بالطريقتين اعلاه خلال السنوات الثلاث الاولى.

س(3) من المعلومات الآتية اكمل الميزانية التالية :-

- 1- حق الملكية = 200000.
- 2- نسبة المطلوبات المتداولة الى اجمالي الديون = 40%.
- 3- مجموع اجمالي الديون الى حق الملكية = 50%.
- 4- معدل دوران الموجودات = 2.
- 5- نسبة الموجودات الثابتة الى مجموع الموجودات = 50%.
- 6- دوران المخزون = 8.

الميزانية العمومية كما هي في 12/31

المطلوبات	الموجودات
المطلوبات المتداولة	النقد 75000
القروض	المخزون
اجمالي الديون	مجموع الموجودات المتداولة
حق الملكية	الموجودات الثابتة
مج المطلوبات	مجموع الموجودات

س(4) حققت شركة الجمال صافي دخل تشغيلي مقداره 400000 دينار لهذا العام وحققت دخل مكتسب من مقسوم الارباح 150000 للنفس العام وان دخل المقسوم تخضع لإعفاء ضريبي 80%.


المطلوب:-

- 1- حساب الضريبة على كل من الدخل التشغيلي والدخل المكتسب من الارباح.

- 2 - حساب مجموع الضريبة المستحقة على الشركة.
3 - حساب معدل نسبة الضريبة والضريبة الحدية للشركة.

س٥) وضح ما يأتي بدقة وتركيز:

- 1 - الهدف المعاصر للإدارة المالية والاكثر اهمية من الاهداف الاخرى.
2 - يعتبر مفهوم حاكمية الشركات في صدارة الموضوعات واضحى قضية رئيسية بالنسبة للأعمال في اي اقتصاد.


رئيس القسم


أ.د. هادي عبد الوهاب

مع تمنياتي لكم بالنجاح



مدرس المادة

أ.م.د. ندى عبد القادر


العميد
أ.د. عبدالحسين توفيق شبلي

المادة: ادارة المصارف

المرحلة: الثالثة

الوقت : ساعتان

التاريخ : الاثنين 24 /

2024 / 6



أسئلة الامتحان

النهائي - الدور

الثاني - الكورس

الاول (العام

الدراسي 2023-

2024)



جامعة البصرة

كلية الإدارة والاقتصاد

قسم ادارة الاعمال

الدراسيتين الصباحية

والمسائية

ملاحظة :- الإجابة عن أربعة أسئلة فقط وتوزع الدرجات بالتساوي. (لكل سؤال 12.5 درجة)

السؤال الأول:- كيف يعتمد البنك المركزي أسلوب الاحتياطي القانوني في مراقبة والتأثير على سيولة المصارف التجارية ؟ موضحاً ذلك من خلال :- 1- شرحه بالتفصيل مع الرسم 2- احتسابه بافتراض) نسبة الاحتياطي القانوني 20%، مجموع الودائع الجارية 90 مليون دينار) ، (نسبة الاحتياطي القانوني 60%، مجموع الودائع الجارية 90 مليون دينار) .

السؤال الثاني:- هنالك أنواع ومسميات عديدة لراسمال المصرف ولكل منها معناه ، وضع بالتعريف المفصل كل نوع مع قانون احتسابه أينما وجد .

السؤال الثالث:- :- وضع بالشكل فقط (بدون شرح) أ- تباين مصادر أموال المصارف التجارية . ب - تباين استخدامات أموال المصارف التجارية .

السؤال الرابع:- وضع مع الرسم اسلوب مجمع الاموال في تخصيص اموال المصرف وفقاً للسياسة المتحفظة معتمداً على البيانات التالية :- 1- (1500 مليون دينار من الودائع الجارية) 2- (900 مليون دينار من ودايع التوفير) 3- (700 مليون دينار من الودائع الثابتة) 4- (500 مليون دينار من القروض وحق الملكية) . مقترضا ان السياسة المتحفظة للمصرف تشير الى تقسيم امواله بواقع :- (40% احتياطات اولية) ، (15% احتياطات ثانوية) ، (40% القروض والسلف) ، (5% الاستثمارات الطويلة الاجل والموجودات الثابتة).

السؤال الخامس:- تكلم بشكل تفصيلي عن الاتي :-

1- مفهوم المخاطر المصرفية 2- أنواع المخاطر المصرفية مع شكل يوضح ذلك 3- ادارة

المخاطر المصرفية . 4 - انواع الادارات التي تتعامل مع الخطر المصرفي .

خالص امنياتي بالنجاح

أ. د. هادي عبد الوهاب عبد الامام الابرو

رئيس القسم

أ.د. عروبة رشيد علي البدران الموسوي

مدرس المادة

أ.د. عبدالحسين توفيق شبلي

العميد



University of Basrah
College of Administration and Economics
Department of Business Management
Final Exam ()
Semester 1
2024/2023



Subject: English Language Stage Three Date: Time: Two hours

Note: Answer Four questions only (12.5) for each question

Q1/ Read the following texts carefully and describe whether these statements are True (T) or False (F): (Answer 5 only)

Seumas McSporryan is a very busy man. He is 60 years old, and he has twelve jobs. He and his wife Margaret have a shop and a small hotel. Seumas lives and works on the island of Gigha in the west of Scotland. Only 120 people live in Gigha, but in summer, 150 tourists come by boat every day. Every weekday, Seumas gets up at 6.00 AM and makes breakfast for the hotel guests. At 8.00 AM, he drives the island's children to school. At 9:30 AM he collects the post from the boat and delivers it to all the houses on the island. He also works at the island's only petrol station. Then he helps Margaret in the shop. He says: "Margaret likes being busy, too. We never have holidays and we don't like watching television. In the evenings Margaret makes supper and I do the accounts. At 10:00 PM we have a mug of tea and then we go to bed. Perhaps our life isn't very exciting, but we like it."

1. Seumas and Margaret have a cup of tea after going to bed at 10:00 PM.
2. Margaret handles the financial accounts in the evenings.
3. Seumas McSporryan has more than ten jobs.
4. Seumas is responsible for driving tourists around the island.
5. Seumas and Margaret find their life exciting.
6. Seumas is sixty years old.

Q2/ Correct the sentences.

1. I work hard at the moment because I have exam next week.
2. It's really cold lately , so I've bought new winter coat.
3. Arsenal play really well at the moment. Their new player has real talent.
4. I've heard you'll get married; Congratulation.
5. I was doing my homework when my friend was calling.

Q3/ Rewrite the sentence using the passive and omitting the subject.

1. The shop has already delivered the Pizza .
2. Have the workmen repaired the light ?
3. The government has just passed some new anti-smoking laws.
4. The local council hasn't built any new homes for twenty years.
5. Nobody has watered the plants.

Q4/ / Q3/Choose the correct form of the verbs. (Answer five only)

1. What timethe event start tomorrow? (do / does/ will).
2. Nurse..... after people in hospital. (are looking/ look / looks)
3. you go to the supermarket every week? (Do / Does / Did)
4. She attended the conference,.....? (does she / didn't she/ doesn't she)
5. Wea picnic in the park last Sunday. (has / have/ had).
6. Ali and Mohammed basketball every weekend. (plays/play/played).

Q5 / Match a question in A with a short answer in B

A	B
They was wearing	with a partner.
He'd been talking	to do it.
A friend had dared him	the next night.
She was climbing	about doing it for ages.
They were rescued	ordinary clothes.

Good Luck




Mohammed. Mousa

Lecturer



Prof. Dr. Hadi AbdulWahab

Head of Department



Pr. Dr. Abdul-Hussein Tawfiq Shibli

The Dean

المادة : اقتصاديات الاعمال
المرحلة : الثالثة
الزمن : ساعتان
التاريخ : 2024 / 6 / 27



أسئلة الامتحان النهائي
الدور الثاني
العام الدراسي
2024-2023



جامعة البصرة
كلية الإدارة والاقتصاد
قسم إدارة الاعمال
الدراسات الصباحية والمسائية

ملاحظة : أجب عن خمسة أسئلة فقط وتوزع الدرجات بالتساوي لكل سؤال 10 درجات .

السؤال الأول : ما أهمية مرونة الطلب لكل من الحكومة والمنتج والمحتكر؟ وضح ذلك بالتفصيل

السؤال الثاني : من البيانات الآتية ارسم منحني الطلب ثم احسب درجة الميل ومعامل مرونة الطلب السعرية عند كل توليفة من توليفات السعر والكمية المطلوبة اذا علمت ان دالة الطلب هي : $Q = 60 - 2P$

P	30	25	20	15	10	5	0
Q	0	10	20	30	40	50	60

السؤال الثالث : أ - حدد اتجاه حركة المنتج وعرف معدل الاحلال الحدي واكتب قانون ايجاده اذا كانت صيغته

$$MRTS_{K/L}$$

ب - ما علاقة الاقتصاد الكلي باقتصاديات الاعمال ؟ وضح ذلك بالتفصيل .

السؤال الرابع : اكتب جدولاً يوضح العلاقة بين نوع المرونة ونوع السلعة من حيث القوة والاتجاه .

السؤال الخامس : اثبت العلاقة بين المعدل الحدي للاحلال الفني $MRTS_{L/K}$ والناتج الحدي للعمل MP_L والناتج الحدي لرأس المال MP_K

السؤال السادس : حدد نوع السلعتين والعلاقة بينهما ارسم منحني طلب السلعة الاصلية اذا علمت ان :

$$Q1X = 2 , Q2X = 3 , P1Y = 5 , P2Y = 10$$

عميد الكلية

أ.د. عبدالحسين توفيق شيطي

رئيس القسم

أ.د. هادي عبدالوهاب عبدالامام

مدرس المادة

د.محمود قاسم داود

المادة: إدارة الاستراتيجية
المرحلة: الثالثة
التاريخ: 6-2024
الوقت: ساعتين
النماذج: جميع النماذج



اسئلة الامتحان
الدور - الثاني
الكورس الاول
للعام الدراسي
2024/2023



جامعة البصرة
كلية الإدارة والاقتصاد
قسم ادارة الاعمال
الدراسات الصباحية
والمسائية

ملاحظة: الاجابة على خمسة اسئلة فقط (لكل سوال 10 درجات)

س1: عرف ما يأتي

3- وحدة الاعمال الاستراتيجية

2- الاختيار الاستراتيجي

1- القوة الدافعة

5- الادارة الاستراتيجية

4- رؤية المنظمة

س2: تختلف خصائص والسمات التي تتمثل بها الرسالة من منظمة إلى أخرى ، ولكن وبصفة عامة لابد من توفر خصائص اساسية لرسالة الناجحة ، عدد هذه الخصائص .

س3: اجب عن فرع واحد فقط

أ- ارسم جدول مقارنة بين نقاط الفرص ونقاط التهديدات.

ب- تكلم عن العوامل البيئية الاقتصادية التي هي احد مكونات البيئة الخارجية الكلية.

س4: يتضمن نموذج تحليل قوى التنافس في بيئة الصناعة لمايكل بورتر مجموعة من العوامل التي تمثل محددات

للتنافس، عدد هذه القوى مع شرح واحدة منها بالتفصيل؟

س5: إن مصفوفة (BCG) مقسمة إلى أربع مربعات (مواقع) تمثل انواع من وحدات الأعمال الاستراتيجية أو المنتجات،

اذكر اسماء هذه المربعات وشرح المربع الاول بالتفصيل .

س6: بين ما المقصود بالاهداف وماهي اهميتها للمنظمة.

مع تمنياتي لكم بالنجاح

عميد الكلية
د. عبدالحسين توفيق

رئيس القسم
د. هادي عبد الوهاب

مدرس المادة
د. عباس عبدالحميد

مدرس المادة
م.م محمد عبدالرضا

المادة: بحوث العمليات
المرحلة: الثالثة
الوقت: ساعتان
التاريخ: ٢٠٢٤/١٦/٥



أسئلة الامتحان
النهائي
الدور - الثاني
الكورس الاول
للعام الدراسي
٢٠٢٣/٢٤



جامعة البصرة
كلية الإدارة والاقتصاد
قسم ادارة الاعمال
الدراسات الصباحية
والمسائية

ملاحظة : الاجابة عن اربعة اسئلة فقط (توزع الدرجات بالتساوي)

س١/ أ- شركة تنتج منتجين ، يحتاج كل من المنتجين الى مواد اولية المتوفر اليومي منها هو (100) وحدة ، المنتج الاول يحتاج وحدتين من المواد الاولية و المنتج الثاني يحتاج الى ثلاث وحدات من المواد الاولية ، و يجب ان تكون مبيعات المنتج الاول لا تقل عن (0.6) من بيع المنتجين . ربح الوحدة الواحدة من المنتج الاول (20) دينار ، و ربح الوحدة الواحدة من المنتج الثاني (30) دينار. المطلوب : صياغة البرمجة الخطية التي تحقق اكبر ربح ممكن؟

ب- حول صيغة البرمجة الخطية التالية الى الصيغة القياسية؟

$$\text{Min } z = 5X_1 + 4X_2 + 3X_3$$

$$\text{S.T } X_1 + 3X_2 + 2X_3 \geq 10$$

$$4X_1 + 6X_2 + 2X_3 \geq 12$$

$$2X_1 + 2X_2 + 2X_3 \geq 15$$

$$X_1, X_2, X_3 \geq 0$$

س٢/ جد الحل الامثل لمشكلة البرمجة الخطية التالية باستخدام طريقة الرسم البياني؟

$$\text{Max } Z = 30X_1 + 40X_2$$

$$\text{S.to: } 10X_1 + 4X_2 \leq 120$$

$$3X_1 + 12X_2 \leq 108$$

$$X_1, X_2 \geq 0$$

س٣/ حول مشكلة البرمجة الخطية التالية الى المشكلة الثنائية (المقابلة)؟

$$\text{Min } Z = 8X_1 + 9X_2 + 10X_3$$

$$\text{S.T } 3X_1 + 5X_2 + 6X_3 = 55$$

$$4X_1 + 4X_2 + 3X_3 \leq 60$$

$$3X_1 + 5X_2 + 6X_3 \leq 70$$

$$4X_1 + 4X_2 + 3X_3 \geq 80$$

$$X_1, X_2, X_3 \geq 0$$

Q4/ Find the optimal solution to the following problem of linear programming

by using Simplex method:

$$\text{Max } Z = 8X_1 + 15X_2$$

$$\text{S.to: } 2X_1 + 3X_2 \leq 300$$

$$2X_1 + 2X_2 \leq 250$$

$$X_1, X_2 \geq 0$$

Q5/ Find the optimal solution to the transportation problem using the following methods :

1-Least cost method

المصانع	الاسواق			العرض
	A	B	C	
1	5	3	8	70
2	7	11	10	60
3	9	4	1	70
الطلب	50	60	90	200

مع تمنياتي لكم بالنجاح

رئيس القسم

أ.د. هادي عبدالوهاب عبدالامام

مدرس المادة

م.م. باسل جبار عجيل

العميد

أ.د. عبدالحسين توفيق شبلي

المادة: محاسبة تكاليف
المرحلة: الثالثة
الوقت: ساعتين
التاريخ: ١٠ / ٨ / ٢٠٢٤



أسئلة الامتحان
النهائي
الدور - ١
الكورس الاول
للعام الدراسي
٢٠٢٤/٢٠٢٣



جامعة البصرة
كلية الإدارة والاقتصاد
قسم ادارة الاعمال
الدراسات الصباحية
والمسائية

الاجابة عن اربعة اسئلة ولكل سؤال ١٢,٥ درجة

س١ : ما هي اوجه التشابه والاختلاف بين المحاسبة المالية ومحاسبة التكاليف؟

س٢: اثناء الجرد في ٣١/١٢/٢٠١٧ في احدى الشركات الصناعية تبين ما يلي:

١- رصيد المادة س في البطاقة المخزنية ٢٠٠ وحدة بكلفة ١٠ دينار للوحدة.

٢- ان الرصيد الفعلي عند الجرد لهذا الصنف ١٨٠ وحدة.

٣- ان العجز المسموح به ٣٠ % من الصنف المذكور.

المطلوب: معالجة العجز في المادة اعلاه بنوعية المسموح به وغير المسموح به اذا علمت ان اسباب العجز غير المسموح به هو امين المخزن.

س٣: أ. توفرت لديك البيانات الآتية من سجلات التكاليف احدى الشركات الصناعية والخاصة بعنصر تكلفة الصيانة:

تكلفة الصيانة:

ساعات تشغيل الآلات	تكلفة الصيانة
٢٠٨٠٠	١٢٠٠٠٠٠
٢٧٢٠٠	١٤٠٠٠٠٠
٣٣٦٠٠	١٦٠٠٠٠٠

المطلوب: ١- استخدام طريقة اعلى - ادنى مستوى النشاط لتقدير التكاليف الثابتة والتكاليف المتغيرة.

٢- تحديد تكلفة الصيانة المقدرة اذا كانت ساعات تشغيل الآلات ٣٢٠٠٠ ساعة؟

ب- البيانات الآتية متعلقة بإنتاج المنتج س:

١٠٠٠ مصاريف مباشرة، ١٢٠٠٠ اجور غير مباشرة، ٥٠٠٠ اجور مباشرة، ١٥٠٠٠ مصاريف صناعية غير مباشرة،

١٠٠٠٠ مواد مباشرة، ٨٠٠٠ مواد غير مباشرة.

المطلوب: احتساب تكلفة الانتاج الكلية وكلفة الوحدة الواحدة، اذا علمت ان عدد الوحدات المنتجة كانت ١٠٠ وحدة وذلك بالاعتماد على تصنيف الطبيعي للتكاليف.

س٤: ادناه تفاصيل حركة المادة (أ) التي تدخل في انتاج احدى منتجات شركة الانوار والخاصة بعام ٢٠١٨:

في ١/١ رصيد ٢٠٠٠ وحدة بسعر ١٠٠ دينار للوحدة.

في ٢/٢٨ تم صرف ١٠٠٠ وحدة.

في ٣/١٥ تم شراء ٤٠٠٠ وحدة بسعر ١٢٠ دينار للوحدة.

في ٨/١ تم صرف ٢٥٠٠ وحدة.

في ٩/٢٨ تم شراء ٢٥٠٠ وحدة بسعر ١٤٠ دينار للوحدة.

في ١٠/١٢ تم صرف ١٥٠٠ وحدة.

المطلوب: تصوير بطاقة الصنف للمادة (أ) بموجب طريقة الوارد اولا صادر اولا وتسجيل القيود اللازمة. يتبع.....


س ٥: يعمل العامل محمد ٨ ساعات في اليوم بواقع ٦ أيام في الاسبوع بمعدل اجر ٨ دينار في الساعة. وادناه بعض البيانات التي تم استخراجها من بطاقة الوقت والانتاج لهذا العامل:


- ١- ٢ ساعة يوميا تشمل دخول العمال بوابة المعمل والانصراف منها والاستراحة.
- ٢- ٣ ساعات خلال الاسبوع تمثل توقف المكين بسبب عدم توفر المواد الاولية.
- ٣- منح العامل يومين كإجازة مرضية.
- ٤- ٢٧ ساعة استغرقها العامل في اتمام العملية (أ) و ١٩ ساعة في اتمام العملية (ب).


اذا علمت ان معدل الاجر الاضافي هو ١٥٠ % من معدل الاجر الاعتيادي.

المطلوب: تحليل الوقت واحتساب الاجر وتحليل الاجر فقط.

مع تمنياتي لكم بالنجاح


العميد
أ.د. عبدالحسين توفيق شبلي


رئيس القسم
أ.م. هادي عبدالوهاب


مدرس المادة
م. علي ماجد

المادة: إدارة المشاريع
المرحلة: الثالثة
الوقت: ساعتان
التاريخ: ٢٠٢٤/١/١٧



أسئلة الامتحان
الدور -
الكورس الاول
للعام الدراسي
٢٠٢٤/٢٠٢٣



جامعة البصرة
كلية الإدارة والاقتصاد
قسم ادارة الاعمال
الدراسات الصباحية
والمسائية ..

ملاحظة : ١- الاجابة على ٥ اسئلة فقط ٢- الاسئلة تتكون من صفحتين ٣- توزع الدرجات بالتساوي

السؤال الاول / اختيار الاجابة الصحيحة ، ضع الاجابة في جدول من خلال كتابة رقم الفقرة وحرف الاجابة	
١	تساعد الجدولة في توفير خطوط اتصال اوضح واقصر بين الاقسام والوظائف و..... A- فرق العمل B- فرق الرقابة C- تشكيل الفرق D- فرق عمل رقابية E- غير ذلك
٢	من خطوات اختيار المشروع هو (تأسيس مجلس يتولى مهمة اختيار المشروع يتكون هذا المجلس من اشخاص يشغلون احد المواقع التالية): A - المدراء العاملين B- الادارة الوسطى C- الادارة التنفيذية D- الكل صح E- الكل خطأ
٣	احد النماذج النوعية يشير الى ان هناك مشاريع يعتبر تنفيذها ضرورة لضمان استمرار عمل وتشغيل المنشأة رغم كلفة هذه المشاريع ، هذا الكلام ينطبق تماما مع نموذج . A - الضرورة التنافسية B- غير الرقمية C - الحوسبة D - الواقعية E- الكل صح F- الكل خطأ
٤	فيما يلي واحدة من فوائد موازنة المشروع . A- اداة توازن B- اداة تنظيم C- اداة توجيه D- اداة تقييم E- الكل صح F- الكل خطأ
٥	تمر عملية جدولة المشروع في ثلاث مراحل اساسية وهي على التوالي : A- مرحلة التخطيط B- مرحلة جدولة الانشطة C- مرحلة الرقابة D- الكل صح E- الكل خطأ
٦	احد خطوات اختيار المشروع هو تصنيف المشاريع الذي يصنفها الى اربعة مستويات حسب التغير في العملية والمنتج، فيما يلي واحد ليس منها . A- مشاريع المشتقات B- مشاريع مشتركة C- مشاريع الاختراق D- مشاريع البحث والتطوير E- الكل صح F- الكل خطأ
٧	اهداف المشروع هي A- الوقت والجدولة والمواصفات B - المواصفات والوقت والكلفة C- الوقت والميزانية والجدولة D- الكل صح E - الكل خطأ
٨	يتم تجزئة الانشطة الى A- برامج B- مهمة C- حزم عمل D- مشاريع E- الكل صح F- الكل خطأ
٩	يقال ان مدير المشروع يخاطر بمستقبله في ادارة المشروع لان نجاح المشروع او فشله يعود على .. A- مدير المنظمة الام B- مدير المشروع C- فريق المشروع D- الزبون الخاص بالمشروع E- الكل صح F- الكل خطأ
١٠	ان ما يميز دورة حياة المشروع انها ذات طبيعة مؤقتة بحيث انها تبدأ وتنتهي في اوقات قد تطول وقد تقصر. A- محددة غير معلومة B- غير محددة لكنها معلومة C- محددة ومعلومة D- مؤقتة E- الكل صح F- الكل خطأ

السؤال الثاني / الفرع أ : - عدد مزايا تنظيم المصفوفة.

السؤال الثاني / الفرع ب :- عندما يقوم المعينون بالتخطيط في المشاريع بأعداد خطة المشروع فأته من المفيد الانتباه

الى عدة امور عددها.

٢- مشروع المصفوفة.

السؤال الثالث / ارسم فقط ١- أهداف المشروع.

السؤال الرابع / الفرع أ :- عدد و اشرح بدقة طرق اعداد الموازنة التقديرية .

السؤال الرابع / الفرع ب :- اشرح دورة حياة المشروع .

السؤال الخامس / اكمل الفراغات التالية، ضع الاجابة في جدول من خلال كتابة رقم الفقرة والكلمات المناسبة.

١	تساعد الجدولة في تحديد الانشطة..... والتي اذا تأخرت لوقت معلوم فأنها لن تؤثر..... على وقت انتهاء المشروع.
٢	من سلبيات احتضان المشروع في الاقسام الوظيفية هو..... لمتطلبات المشروع وحاجات العميل بسبب وجود..... متعددة في الاقسام الوظيفية تؤدي الى تأخير القرارات ويط الاجراءات.
٣	يقصد بنموذج الضرورة التنافسية هو ان يتم تنفيذ مشروع ما بغرض رفع..... التنافسية للشركة.
٤	من ايجابيات المشروع ان يكون جزء من التنظيم الوظيفي، جعل الاقسام الوظيفية قاعدة التطور، باعتبارها مصدر..... في الشركة.
٥	في تنظيم المشروع الصرف فان بعض المنظمات الام تساهم في الاشراف على الامور الادارية والمالية و..... على المشروع.
٦	المشروع مشكلة معروفة الحل يتم اكمالها بأستخدام أنشطة فريدة.....
٧	يقصد ب..... تحويل نماذج الاختيار من يدوية الى برمجيات.

السؤال السادس / صحح ما تحته خط ؟ ضع الاجابة في جدول من خلال كتابة رقم الفقرة ومقابلها الاجابة الصحيحة

١	المشروع : هونظمة مؤقتة لتنفيذ مجموعة من أنشطة المنظمة لانجاز المشروع ضمن (المواصفات الوقت والكلفة) المطلوبة.
٢	يقصد بالمرونة هو توفير اسس موجودة في الواقع يمكن ادراكها بسهولة تستخدم كأساس للمقارنة بين المشروعات
٣	احد سلبيات احتضان المشروع في الاقسام الوظيفية ازدواجية الوظائف .
٤	يتطلب من ادارة المشروع الاجابة على التساؤل التالي : ماهي الموارد اللازمة لذلك؟ والمقصود الى اي مدى ستكون هذه الموارد متاحة عندما نحتاج اليها.
٥	المخاطر من خصائص المشروع والذي يحدث بسبب التشارك بين جهات مختلفة في اداء أنشطة المشروع.

مع تمنياتي لكم بالنجاح

رئيس القسم
أ. د. هادي عبدالوهاب عبدالامام

مدرس المحاسبة
أ. م. زيد صادق ماجد

العميد
أ. د. عبدالحسين توفيق شبلبي



(10 درجات)

ملاحظة الإجابة عن خمسة أسئلة فقط

س1: اختر الإجابة الادرق لما يأتي:

من عناصر التفكير الاستراتيجي:

(أ) التفكير بمن حولنا والعالم (ب) التفكير المنظم (ج) التفكير الفوري (د) جميع ما ذكر

من سمات التفكير الاستراتيجي

(أ) الحاجة الى الابداع (ب) التوصل الى العميل (ج) برنامج التغيير (د) توزيع الموارد

يؤكد نمط التفكير التشخيصي على اجراء تحليل دقيق للموضوع المراد اتخاذ القرار بصدده ومن ثم

(أ) تشخيص اهم دواعي اتخاذ القرار (ب) اختيار البديل المناسب (ج) الوصول الى حلول حتمية (د) جميع ما ذكر

هناك مهارات عدة للتفكير الاستراتيجي تتعلق بنجاح القائد منها:

(أ) التفكير التخطيطي (ب) إعادة الصياغة للأفكار (ج) التفكير المسبق (د) الالتزام

المواقف الاستراتيجية الجيدة تمثل انعكاس

(أ) لتوفر الأموال (ب) لمحدودية المنافسة (ج) للسواق الخارجية (د) لقدرات التفكير الاستراتيجي

(10 درجات)

س2: اذكر المعوقات التنظيمية والبيئية التي تواجه التفكير الاستراتيجي.

س3: قدم ورقة فيها وصفاً للتفكير الاستراتيجي من خمس زوايا مختلفة معززاً اجابتك بالشكل التوضيحي. (10 درجات)

س4: بصفتك أحد المختصين بدراسة التفكير الاستراتيجي بين نموذج Bonn معززاً اجابتك بالشكل التوضيحي. (10 درجات)

س5: قارن بين التفكير الاستراتيجي والتفكير التشغيلي. (10 درجات)

س6: قدم شرحاً مفصلاً لعناصر التفكير الاستراتيجي معززاً اجابتك بالشكل التوضيحي. (10 درجات)

مع تمنياتنا لكم بالنجاح

العميد
أ.د. عبدالحسين توفيق شطي

رئيس القسم
أ.د. هادي عبدالوهاب


مدرس المادة
م.م. رنا عبدالله

مدرس المادة
م.م. محمد عبدالرضا

المادة: الإدارة المالية 2
المرحلة: الثالثة
الوقت : ساعتين
التاريخ: 4 / 7 / 2024



أسئلة الامتحان
النهائي
الدور الثاني
الكورس الثاني
للعام الدراسي
2024/2023



جامعة البصرة
كلية الإدارة والاقتصاد
قسم إدارة الاعمال
الدراستين الصباحية
والمسائية

ملاحظة :- الإجابة عن أربعة أسئلة فقط , لكل سؤال (12.5) درجة.

السؤال الأول :- تتمتع الأسهم الممتازة بالعديد من الخصائص الإضافية والتي تحدد في شهادة السهم الممتاز، ماهي هذه الخصائص؟ وضحها تفصيلاً.

السؤال الثاني:- أ- 1- عرف سوق النقد 2- ماهي اهم خصائص الأوراق المالية التي يتم متاجرتها فيه 3- ماهي اهم الاوراق المالية التي يتم تداولها فيه(عددها فقط بدون شرح) .
ب- ماالمقصود بحق الشفعة ؟ اشرح ذلك مع مثال مالي رقمي .

السؤال الثالث:- أ- أعطيت اليك المعلومات التالية عن ثلاثة إستثمارات تتوفر أمام إحدى الشركات، فما هو البديل الأفضل الذي يجب إختياره؟ ملاحظة هامة :- يجب كتابة المعادلات قبل البدء بالحل وتبرير إختيار البديل الأفضل .

الاستثمار ج	الاستثمار ب	الاستثمار أ	
12%	6%	15%	العائد المتوقع (الوسط الحسابي)
9%	5%	12%	المخاطرة (الانحراف المعياري)

ب- 1- عرف البنوك الاستثمارية 2- وضح الدور الذي تؤديه (بالشكل) 3- اشرح بالتفصيل اهم الخدمات المالية التي تقدمها للشركات المساهمة .

السؤال الرابع:- أ- وضعت مؤسسة التمويل الدولية IFC موجهات ومعايير وقواعد عامة أساسية لدعم الحوكمة في المؤسسات سواء مالية او غير مالية ماهي ؟ وضحها بالتفصيل .

ب- اذا علمت البيانات التالية عن الإستثمارات المتاحة أمام الشركة الصناعية، احسب المدى وبين أي المشروعين افضل. ملاحظة هامة :- يجب كتابة المعادلات قبل البدء بالحل وتبرير اختيار المشروع الأفضل.

المشروع B	المشروع A	الحالة المتوقعة
%6	%5	تفاضل
%3	%2	متوسط
%-3	%-5	تشاؤم

السؤال الخامس:- أ- وضح بالشكل مع الشرح التفصيلي قرارات الادارة المالية.
ب- إذا كانت إحصائية حدوث الخطر %5 وكان حجم الخسارة المتوقع للوحدة الواحدة \$ 270، ماهو حجم المخاطرة الكلية المتوقع أن تتعرض لها الشركة إذا كان عدد الوحدات المعرضة للخطر 3000 وحدة؟
ملاحظة هامة :- يجب كتابة المعادلات قبل البدء بالحل.

مع امنياتي بالنجاح

أ. د. هادي عبد الوهاب عبد الامام

رئيس القسم

أ. د. عروبة رشيد علي البدران الموسوي

مدرس المادة

أ. د. عبدالحسين توفيق شبلي
العميد



ملاحظة : 1- تتكون الاسئلة من صفحتين 2- الاجابة على 5 اسئلة 3- توزع الدرجات بالتساوي.

السؤال الاول : اختر الاجابة الصحيحة للفقرات التالية , (ضع الاجابة في جدول من خلال كتابة التسلسل و الحرف)

1	طريقة مختصرة : لاستخراج المسار الحرج في (الجانب اليسر) اضغط بزر الماوس الايمن فوق الجانب اليسر من الشاشة (فوق المخطط) سيظهر لك مربع حوار صغير اختار (اظهار / اخفاء انماط الاشرطة) ثم اختار منه (.....)	A- اخفاء / اظهار	B- اظهار المهام الهامة	C- المهام الهامة	D- المهام الحرجة	E- الكل صح	F- الكل خطأ
2	من الاسئلة التي يجب التفكير بها عند تعيين الموارد الى المهام ما هو المورد البديل في حالة عدم توفر المورد المعتمد سابقاً	A- المتوفر	B- المحدد	C- المطلوب	D- الممكن	E- الكل صح	F- الكل خطأ
3 : وتعني تغير النمط المرني للنص بالنسبة الى عنصر من نوع معين في طريقة	A- تخطيط	B- تنسيقات	C- انماط نص	D- خطوط ارشاد	E- الكل صح	F- الكل خطأ
4	اختصار الجدولة اليدوية هو :	A- Ctrl + Shift +F	B- Ctrl + Shift +M	C- Ctrl + Shift +N	D- Ctrl + P	E- الكل صح	F- الكل خطأ
5	اختصار تنشيط شريط الانقسام الذي يفصل بين الجزء الايمن واليسر للبرنامج هو :	A- Shift +F8	B- Shift +F4	C- Shift +F6	D- Shift +F7	E- الكل صح	F- الكل خطأ
6	اختصار عرض المهام الفرعية هو :	A- Alt+ Shift+(+,-)	B- Alt+ Shift+(-)	C- Alt+ Shift+(+)	D- Alt+ Shift+(=)	E- الكل صح	F- الكل خطأ
7	ان متابعة المهام من البداية الى النهاية وحسب التاريخ الماضي, هي عبارة عن عملية	A- تاريخ المهام	B- ربط المهام	C- تمرير المهام	D- تعقب المهام	E- الكل صح	F- الكل خطأ
8	لتمييز المسار الحرج باللون الاصفر اضغط على " تبويب عرض " ثم "مجموعة بيانات" ثم نختار " تمييز " التي يوجد امامها قائمة منسدلة اضغط عليها ستظهر لك خيارات اختار	A- اللون الاصفر	B- تمييز	C- هامة	D- مطلوبة	E- الكل صح	F- الكل خطأ
9	الايام التي تغير لونها هي ايام (.....) او ايام (.....) مثل الجمعة والسبت من كل اسبوع عطلة.	A- عطلة	B- استثنائية	C- استثنائية + عطلة	D- العمل +استثنائية	E- الكل صح	F- الكل خطأ
10	لتغير اوقات العمل اضغط بزر الماوس اليسر على "تبويب مشروع" ثم انتقل الى "مجموعة " واضغط على "تغيير وقت العمل.	A- جدول	B- ارتباطات	C- الحالة	D- مشروع	E- الكل صح	F- الكل خطأ

السؤال الثاني: الفرع أ / عدد فقط خيارات التقويم للمشروع:

السؤال الثاني الفرع ب/ عند استخدام برنامج (MS project) لتخطيط اي مشروع ، فإتنا يجب ان نجيب على مجموعة من الاسئلة عددها:

السؤال الثالث : اشرح بدقة وتركيز اطار خطة العمل (ورقة العمل) :

السؤال الرابع: صحح ما تحته خط (ضع الاجابة في جدول)

1	الشبكة : تستخدم في تخطيط ومراقبة ومراجعة المشروعات. وقد يطلق على الشبكات (الرسوم السهمية) بسبب الاسهم.
2	علاقة (انتهاء الى انتهاء) هذا النوع من العلاقات ستكون, بداية المهمة السابقة مرتبطة مع نهاية المهمة اللاحقة
3	عمل : يستخدم هذا النوع مع التكاليف مثل تكاليف سفر او ايجار او غيرها.
4	تكلفة : يستخدم هذا النوع مع الموارد القابلة للاستهلاك او النفاذ مثل مواد البناء.

السؤال الخامس: الفرع أ / اكمل الفراغات التالية .

1 : تشير الى مقدار المال.
2 : يستخدم لغرض حذف المورد الذي تم اختياره سابقاً, وذلك من خلال تحديد المورد المطلوب بالضغط عليه بزر الماوس الابرس ثم الضغط على ازالة.
3	للتراجع عن امر المهام الفرعية استخدام الامر (.....).
4	من القدرات التي يتمتع بها برنامج (MS project) هو استخدام أكثر من من حيث التكلفة .
5 : عند الضغط عليها ستقوم بتصغير اطار خطة العمل وسيغير شكلها الى مربع وبالضغط عليها مرة اخرى سيعود اطار خطة العمل الى حجمة السابق.

+++++

السؤال الخامس / الفرع ب : عند تنفيذ (الاختصارات) التالية على لوحة المفاتيح ما هو الاجراء او الامر الذي يتم تطبيقه (ضع الاجابة في جدول من خلال ذكر التسلسل والاجابة)

1	Alt+ Shift+ ←	2	ALT+F3	3	Alt+ Shift+(-)
4	Alt+ F10	5	Ctrl + F		

السؤال السادس/ ما هي المجموعة والامر المطلوب للقيام بما يلي : (ضع الاجابة في جدول)

ت	الاجراء المطلوب / او الحالة المطلوب معالجتها	التبويب	المجموعة	الامر
1	الامر تصغير مخطط الشبكة (لاحتواء العرض)	تنسيق		
2	عرض ورقة الموارد	عرض		
3	نقل المهام الى الامام لمدة اسبوع	مهمة		
4	فصل المسار الحرج عن الشبكة	عرض		
5	انشاء التقارير	مشروع		
6	إضافة عمود	تنسيق		
7	عكس عملية الغاء ربط المهام.	مهمة		
8	حدوث حالة طوارئ (أمطار غزيرة) وهي خارج السيطرة, والتي تحتم علينا ايقاف العمل بالمشروع.	مهمة		
9	ان شاء مهام فرعية	مهمة		
10	تحديث المهام	مهمة		

مع تميّنايكم بالانجاح

أ.د. عبدالحسين توفيق شبلي

أ.د. هادي عبد الوهاب

أ.م. زيد صادق ماجد



ملاحظة: اجب عن اربعة أسئلة فقط

السؤال الاول:- اختر الاجابة الصحيحة من خلال كتابة الابعاز الصحيح داخل الفراغ.....(12.5 درجة)

1- عند حل مسألة البرمجة الخطية يتم اختيار قائمة.....

Solve the problem- OTHER - Solve & Graphic- Solve & Display-

2- لأعداد التقرير عن الحل الأمثل لمسألة البرمجة الخطية نختار الامر Report من قائمة.....

Result & Resume- Solve & Report- OTHER - Solve & Result-

3- من قائمة HELP نفتح مشكلة جديد

صح - خطأ

4- يستخدم الامر Solve & Display لحفظ التغيرات على مسألة مخزونة مسبقا

صح - خطأ

5- قائمة المنفعة Utility MENU :- تستخدم اوامر هذه القائمة لحل واستعراض خطوات الحل للمشكلة قيد البحث

صح - خطأ

السؤال الثاني: حدد المسار الصحيح لادخال البيانات لكل مسألة في ادناه على ان تكون الاجابة من خلال كتابة الحرف المقابل لكل مسألة وكتابة الابعاز الصحيح أمام رقم الفراغ لكل مسألة في ادناه..... (12.5 درجة)

أ- نضغط على(1)..... وبعدها نضع مؤشر الماوس على(2)..... وعند ذلك نضع مؤشر الماوس على.....(3)..... عند ذلك سوف تفتح لنا قائمة جديدة نختار منها.....(4)..... سوف تظهر لنا واجهة البرنامج نضغط على(5)..... فتظهر لنا قائمة نختار منها(6)..... بالضغط عليها بواسطة مفتاح الماوس الايسر فتظهر لنا واجهة جديدة نختار منها اقصر الطرق Shortest path problem .

ب- نضغط على(1)..... وبعدها نضع مؤشر الماوس على(2)..... وعند ذلك نضع مؤشر الماوس على(3)..... عند ذلك سوف تفتح لنا قائمة جديدة نختار منها Network problem .

ج- اذا تغيرت قيم دالة الهدف في مسألة البرمجة الخطية نختار الامر.....(1)..... من قائمة.....(2)..... ثم نختار(3)..... من قائمة.....(4)..... ثم نضغط على ايقونة OK بعد ذلك تكتب القيم الجديدة.

د- اذا تغير الطرف الايمن من القيود في مسألة البرمجة الخطية فنختار الامر.....(1)..... من قائمة(2)..... ثم نختار.....(3)..... ثم نضغط على ايقونة ok .

هـ- نضغط على(1)..... التي تقع في اسفل الجهة اليسرى من شاشة الحاسبة ثم نضع مؤشر الماوس على(2)..... فتظهر البرامج الموجودة في الحاسبة ومنها win QSB

السؤال الثالث:- بالاعتماد على الایعازات المحددة داخل المستطیل اكمل حل مسألة البرمجة الخطية على ان تكون الاجابة بكتابة رقم الفراغ وامامه الایعاز الصحيح(12.5 درجة)

Graphic Method	Simplex Iteration	Solve	Solve & Display	Solve
Next Iteration	Report	Result	Next Iteration	Solve & Display

لحل مسألة البرمجة الخطية بيانياً نختار الامر.....(1).....من قائمة.....(2)..... اما لحل المسألة باستخدام طريقة السمبلكس نختار الامر.....(3)..... من قائمة.....(4)..... ثم نضغط على الامر.....(5)..... من قائمة.....(6)..... لمشاهدة المرحلة الثانية من جدول السمبلكس وهكذا نستمر بالضغط على الامر.....(7)..... من قائمة.....(8)..... حتى الوصول الى المرحلة الاخيرة في جدول السمبلكس. ولغرض اعداد التقرير عن الحل الامثل لمسألة البرمجة الخطية نختار الامر.....(9)..... من قائمة.....(10).....

السؤال الرابع:- اختر الاجابة الصحيحة من خلال كتابة الایعاز داخل الفراغ.....(12.5 درجة)

1- يستخدم الامر للتحكم في مواقع المدخلات في الصفوف والاعمدة

number- column width- alignment- row height-

2- يستخدم الامر لغرض عرض نبذة مختصرة عن التطبيق

Tile - number- About - Cascade-

3- Format menu هي قائمة

قائمة ادخال البيانات قائمة الحل والتحليل قائمة التنسيق قائمة اعداد التقارير

4- لغرض الدخول الى البرنامج نضغط على Start ثم نضع مؤشر الماوس على فتظهر البرامج الموجودة في الحاسبة ومنها QSBWin

Edit menu - Solve & Analyze menu - Linear programming- OTHER -

5- لغرض الوصول الى المرحلة النهائية (الجدول الاخير) في جدول السمبلكس نضغط على الامر next iteration من قائمة save problem

صح - خطأ

السؤال الخامس:- اجب عن الاسئلة الاتية بكتابة كلمة صح أو خطأ.....(12.5 درجة)

1- عند تغيير قيم دالة الهدف يتم اختيار الامر Parametric Analysis من قائمة Results

صح - خطأ

2- من قائمة Node Names يتم تغيير اسماء الاعمدة والصفوف في مسألة التخصيص

صح - خطأ

3- من قائمة NETWORK MODELING نختار برمجة الهدف الخطية

صح - خطأ

4- يجب تحديد نقطة البداية ونقطة النهاية في مسألة اقصر الطرق

صح - خطأ

5- اعداد التقرير عن الحل الامثل لمسألة البرمجة الخطية نختار الامر Solve the problem من قائمة Result

صح - خطأ



رئيس القسم

أ.د. هادي عبدالوهاب عبدالامام



مدرس المادة

م. ثائر خلف خشلن



د. شذى احمد علوان

المادة: ادارة التأمين
المرحلة: الثالثة
الوقت: ساعتين
التاريخ: 2024/7/9



اسئلة الامتحان
النهائي
الدور: الرباعي
الكورس- الثاني
2023 -2024



جامعة البصرة
كلية الإدارة والاقتصاد
قسم إدارة الاعمال

الدراسات الصباحية
والمسائية

(الاجابة عن خمسة اسئلة ، توزع الدرجات بالتساوي)

س1 / اختر الاجابة الصحيحة بوضع دائرة عليها	
1	يتم الاستفادة من مبدأ السبب المباشر : A- دفع قسط التأمين B- دفع التعويض C- دفع الضرر D - تحديد مبلغ التأمين
2	مبدأ الحلول يعني : A- ان تحل شركة التأمين محل المؤمن له في الرجوع الى الغير B- ان يحل المؤمن له محل شركة التأمين في الرجوع الى الغير C- ان تحل شركة التأمين محل المؤمن له في الرجوع الى المستفيد D- ان تحل شركة التأمين محل المؤمن له في الرجوع الى الغير
3	عقد التأمين عقد معاوضة وهذا يعني : A- عقد يمتد لفترة زمنية مبينة بالعقد B- عقد ملازم للجانبين C- ان كلا الطرفين يأخذ مقابل لما يعطي D - عقد التأمين شرطي
4	ان القاعدة النسبية في التأمين تطبق في حالة: A- التأمين الزائد والخسارة كلية B - التأمين الكامل والخسارة كلية C - التأمين الناقص والخسارة جزئية D - التأمين الناقص والخسارة كلية
5	العامل او المؤثر المادي يتعلق بـ A- محل التأمين B - شخصية وسلوك المؤمن له C - بسبب العقد D -التراضي

س2/ ماذا يقصد بالمصلحة التأمينية ، وماهي شروطها؟

س3/ عدد خصائص عقد التأمين ، واطرح واحدة منها؟

س4/ تكلم بشكل مفصل عن عناصر العملية التأمينية؟

س5/ ماذا يقصد بالحقائق الجوهرية في عقد التأمين ، ولماذا يقع التصريح بها على عاتق المؤمن له؟

س6/ امن احمد على مصنعه ضد خطر الحريق لدى شركة التأمين الوطنية بمبلغ تامين قيمته (600) مليون ،
وبعد فترة تحقق حادث نتجت عنه خسارة بقيمة (250) مليون دينار علما بان القيمة الحقيقية للمصنع وقت الحادث
(900) ، فما هو التعويض المدفوع من قبل شركة التأمين؟

مع تمنياتنا لكم بالنجاح

رئيس القسم
أ.د هادي عبدالوهاب

مدرس المادة
م.م ايمان هاتو

مدرس المادة
أ.م وفاء علي سلطان

المادة: محاسبة تكاليف ٢
المرحلة: الثالثة
الوقت: ساعتين
التاريخ: ٢٠٢٤ / ٧ / ٢٤



أسئلة الامتحان
النهائي
الدور - الثاني
الكورس الثاني
للعام الدراسي
٢٠٢٤/٢٠٢٣



جامعة البصرة
كلية الإدارة والاقتصاد
قسم ادارة الاعمال
الدراسات الصباحية
والمسائية

الإجابة عن أربعة أسئلة ولكل سؤال ١٢,٥ درجة

س ١: ما هي خصائص نظام تكاليف الأوامر الانتاجية؟ وضحاها مع الشرح

س ٢: شركة تصنع وتبيع منضدة حاسبات وفي العام 2018 انتجت الشركة 2750 منضدة و باعت 2500 منضدة، اذا علمت انه لا يوجد تغيير بين التكاليف المتغيرة للوحدة الواحدة والتكاليف الثابتة بين السنة الحالية والسنة السابقة، وقد توفرت البيانات الآتية عن الانتاج والتكاليف:

- ١- التكلفة المتغيرة للمنضدة الواحدة (1500 مواد مباشرة، 1000 أجور مباشرة، 1250 تكاليف صناعية غير مباشرة متغيرة، 250 تكاليف تسويقية متغيرة).
 - ٢- التكاليف الثابتة السنوية الاجمالية كانت (2200000 تكاليف صناعية غير مباشرة، 1375000 تكاليف تسويقية).
 - ٣- سعر بيع المنضدة الواحدة 6000 دينار.
 - ٤- بلغت عدد وحدات الانتاج التام اول المدة 50 وحدة وعدد وحدات الانتاج التام اخر المدة 300 وحدة.
 - ٥- لا يوجد انتاج تحت التشغيل اول وأخر المدة.
- المطلوب: اعداد قائمة التكاليف وقائمة الدخل بموجب طريقة التكلفة المخرجات.

س ٣: البيانات الآتية تخص الشركة الصناعية التي تستخدم نظام الاوامر الانتاجية لشهر كانون الثاني وكما يلي:

١- كانت المواد المصروفة خلال الشهر وساعات العمل المباشر كما يلي:

رقم الامر	كلفة المواد المباشرة		ساعات العمل المباشر		ساعات دور الآلات	
	القسم (1)	القسم (2)	القسم (1)	القسم (2)	القسم (1)	القسم (2)
(A)	300000	400000	100	150	60	140
(B)	500000	600000	120	180	150	100
(C)	200000	500000	200	50	130	120

وان معدل اجر الساعة في القسم (1) 900 دينار، وفي القسم (2) 1000 دينار.

٢- يبلغ معدل تحميل التكاليف الصناعية غير المباشرة في الشركة كما يلي:

- معدل تحميل القسم (1) 2500 دينار لكل ساعة عمل مباشر.

- معدل تحميل القسم (2) 1500 دينار لكل ساعة دوران آلة.

المطلوب: تسجيل القيود اليومية اللازمة

.....يتبع

س 4: يتم في الشركة الصناعية تصنيع منتج على مرحلتين: A و B وتضاف المواد الاولية في بداية المرحلة A وكذلك في نهاية المرحلة B. اما تكاليف التحويل فتضاف بانتظام خلال المرحلتين. وعند اتمام الانتاج في المرحلة A يحول الى المرحلة B. وعند اتمامه في المرحلة B يحول الى مخازن الانتاج التام. وقد توفرت المعلومات التالية عن الانتاج خلال شهر نيسان 2015:

1- الوحدات

المرحلة B نسبة الاتمام			المرحلة A نسبة الاتمام			البيان
تحويل	المواد	الوحدات	تحويل	المواد	الوحدات	
%40		12000	%60	%100	10000	انتاج تحت التشغيل اول المدة
		?			40000	وحدات جديدة
%100	%100	44000	%100	%100	48000	وحدات تامة
%50	?	16000	%50	?	2000	انتاج تحت التشغيل اخر المدة

2- التكاليف

المرحلة B				المرحلة A			البيان
مجموع	تحويل	مواد	تكاليف مستلمة	تحويل	المواد	المجموع	
40000	22000	0	18000	1500	6000	7500	انتاج تحت التشغيل اول المدة
176000	82000	22000	72000	23000	44000	67000	تكاليف فترة

المطلوب: اعداد تقرير تكاليف الانتاج لكل مرحلة باستخدام طريقة المتوسط المرجح.

س 5: البيانات الاتية مستخرجة من سجلات الشركة الصناعية لعام 2023:

التكاليف الصناعية المتغيرة للوحدة 10 دينار، التكاليف التسويقية المتغيرة للوحدة 2 دينار، التكاليف الصناعية الثابتة 125000 دينار، التكاليف التسويقية الثابتة 50000 دينار.

عدد الوحدات المنتجة 50000 وحدة

عدد وحدات انتاج تام اول المدة صفر.

عدد الوحدات المباعة 42500 وحدة بسعر 30 دينار للوحدة.

المطلوب: اعداد قائمة التكاليف بموجب طريقة التكلفة المتغيرة.

مع تمنياتي لكم بالنجاح

العميد
أ.د. عبدالحسين توفيق شبلبي

رئيس القسم
أ.د. هادي عبد الوهاب

مدرس المادة
م.د علي ماجد

المادة: ادارة الامداد
المرحلة: الثالثة
الوقت: ساعتين
التاريخ: ٢٠٢٤/ ٧/١٢



أسئلة الامتحان
النهائي
الدور - الثاني
الكورس الثاني
للعام الدراسي
٢٠٢٤/٢٠٢٣



جامعة البصرة
كلية الإدارة والاقتصاد
قسم ادارة الاعمال
الدراسات الصباحية
والمسائية

(لكل سؤال ١٢,٥)

ملاحظة / الاجابة عن أربعة أسئلة فقط وتوزع الدرجات بالتساوي

السؤال الاول / أختَر الاجابة الصحيحة بما يناسبها من الفقرات التالية

- ١- المستند الذي يمثل وصف كامل للمواد المشحونة وتستخدم كإيصال استلام وعلى أساسها يتم تقدير التعويضات في حالة حدوث خسائر أو تلفيات :
(أ- فاتورة الشحن ب- وصل الاستلام ج- بوليصة الشحن د- التأمين البحري هـ - سند الشحن)
- ٢- احدي انواع تكاليف وسائل النقل ادناه لا تتأثر مع زيادة او انقاص الخدمة المقدمة اي انها لا ترتبط بحجم الحركة او بكميات خدمة النقل تسمى بـ :
(أ- التكاليف الثابتة ب- التكاليف المباشرة ج- التكاليف المتغيرة د- التكاليف غير المباشرة هـ الخيارات (ا و د))
- ٣- ان السعر الذي لا يتغير مع طول او قصر مسافة النقل يسمى بـ :
(أ- السعر التناسبي ب- السعر المتناقص ج- السعر التناسبي المتناقص د- السعر الموحد هـ - سعر الغطاء)
- ٤- أن النشاط الذي يسعى لتحقيق التوازن والتكامل بين خطط التصنيع والتوزيع والنقل بحيث يتم تنفيذ اوامر العملاء في الوقت المناسب دون ان يترتب على ذلك أي زيادة في التكاليف يسمى بـ :
(أ-ادارة الطلب ب- معالجة الطلبيات ج- ادارة المرتجعات د- ادارة العلاقات مع العملاء هـ - ادارة المردودات)
- ٥- ان الحد من عدد المخازن غير الضرورية والتقليل من مستويات المخزون هي امثلة على عملية يطلق عليها بـ
(أ- التسبير ب- التركيز ج- الاقتصاد د - التنوع هـ - التبسيط)

السؤال الثاني / صحح ماتحته خط فقط

- ١- القيمة تعتبر من العوامل المؤثرة على تكلفة النقل والمرتبطة بالمنتج والتي تشير الى نسبة وزن المنتج الى حجمه.
- ٢- أن مدى انتظام الشحنات يعتبر من العوامل المتعلقة بوسيلة النقل
- ٣- ان امداد اونشاط خدمة ما بعد البيع يقترب من الامداد العكسي
- ٤- ان متابعة اوامر التوريد يعتبر من اهداف شبكة الامداد
- ٥- ان الاساس الفلسفي الذي تقوم عليه وظيفة التسويق هو نفسة الذي تقوم عليه وظيفة التوزيع

السؤال الثالث / هناك مجموعة من المهام الاستراتيجية لأنشطة الامداد ، وضحاها

السؤال الرابع / وضح مع الرسم اهم خطوات نموذج (SCOR)

السؤال الخامس / اجب عما يلي

الفرع الاول / عدد فقط الاعتبارات المرتبطة بظروف السوق

الفرع الثاني / عدد فقط معايير المفاضلة بين وسائل النقل في الامداد

العميد
أ.د. عبدالحسين توفيق شبلبي

مع تمنياتي لكم بالنجاح
رئيس القسم
أ.د. هادي عبدالوهاب

مدرس المادة
م.علي نصيف صير

مدرس المادة
م.ناجي صالح ضهد

المادة: دراسات جدوى
المرحلة: الثالثة
الوقت: ساعتين
التاريخ: ٢٠٢٤/٧/١٥



أسئلة الامتحان
النهائي
الدور - الثاني
للعام الدراسي
٢٠٢٤/٢٠٢٣



جامعة البصرة
كلية الإدارة والاقتصاد
قسم ادارة الاعمال
الدراسات والبحوث
والمسائية

ملاحظة : الاجابة عن اربعة اسئلة فقط (توزع الدرجات بالتساوي)

- س١/ اشرح بالتفصيل مراحل المشروع الاستثماري؟
س٢/ بين مفهوم الاستثمارات الثابتة و اشرح فقراتها بالتفصيل؟
س٣/ ظهرت البيانات التالية لاحد المشاريع الاستثمارية :
المبلغ المستثمر الاساسي ٤٠٠٠٠٠٠٠ دينار و التدفقات النقدية السنوية المتوقعة ١٠٠٠٠٠٠٠٠ بسعر خصم ١٠%
و ان عمر المشروع ٦ سنوات . احسب فترة استرداد المبلغ المستثمر ؟
س٤/البيانات التالية لاحد مشاريع شركة دجلة لإنتاج المياه المعدنية . احسب العائد على الاستثمار؟ المبالغ بالدينار العراقي
قيمة الاصول الثابتة ١٥٠٠٠٠٠٠ و قيمتها في نهاية المشروع ١٥٠٠٠٠٠ و الايرادات الاجمالية ١٠٠٠٠٠٠٠ و التكاليف
السنوية ٥٠٠٠٠٠٠ و العمر الانتاجي ٥ سنة و ان ضريبة الدخل ٣٠% .
س٥/ هناك جوانب اخرى للدراسة الاقتصادية التفصيلية اشرحها بالتفصيل؟

العميد

أ.د. عبدالحسين توفيق شبلي

مع تحياتي لكم بالنجاح

رئيس القسم
أ.د. هادي عبدالوهاب

مدرس المادة

م.م. باسل جبار عجيل



جامعة البحرين
كلية الإدارة والاقتصاد
قسم إدارة الأعمال

اسئلة
المرحلة الرابعة
الدور الثاني
للكورسين الاول و الثاني
الدراسات الصباحية والمسائية
للعام الدراسي 2023-2024



Note: - Answer only 4 questions

Q1/ Make a question by using question words (Wh Questions). (12.5 marks)

1. She's wearing jeans
2. You aren't working
3. You were born in Paris
4. I get up at five o'clock.
5. I can speak English well

Q2/ Complete the text with prepositions from the box. (12.5 marks)

of	about	for	with	from
----	-------	-----	------	------

1. We are talking ----- football.
2. Would you like a cup ----- coffee?
3. We went to dinner ----- our neighbors last night.
4. He moved ----- Canada.
5. I am so happy ----- you.

Q3/ Complete the sentences with negative auxiliaries in the box. (12.5 marks)

doesn't	won't	'm not	hasn't	hadn't
---------	-------	--------	--------	--------

1. The bedroom's been decorated but the bathroom -----.
2. Noor thought I'd forgotten our wedding anniversary, but I-----.
3. Mohmed likes Indian food, but Ali-----.
4. My husband's going to the wedding, but I-----.
5. I'll be moving to London, but my brother-----.


Q4/ Complete the sentences by using the question words (Wh Questions) in the box


Why	What	Which	Where	How
-----	------	-------	-------	-----

- 1.----- textbook did you use last summer? (12.5 marks)
- 2.-----often do you go to the gym?
- 3.-----do you want to eat?
- 4.-----have you been all the time?
- 5.----- aren't you working?

Q5/ choose the correct answer to fill in the blanks (12.5 marks)

1. Mark----- a picture of a lion now.
a) draws b) is drawing c) draw
2. The students ----- listening to the teacher now.
a) aren't b) wasn't c) isn't
3. She ----- a lot of weight since I last saw her
a)'s lost b)'s been losing c)'s losing
4. Poor Mehmood - how long ----- about the job cuts?
a) has he known b) has he been knowing c) been knowing
5. I to the city once a week.
a) go b) goes c) going


Prof. Dr. Wameedh A. Khdair
The lecturer


Prof. Dr. Hadi Abdul Wahab
Head of Department


Prof. Dr. Abdul Hussein Tawfiq
The Dean

المادة: تكنولوجيا
المعلومات الإدارية
المرحلة: الرابعة
الوقت: ساعتان
التاريخ: ٢٠٢٤ / ٦ / ٢٦



أسئلة الامتحان
الدور - الثاني
الكورس الأول -
للعام الدراسي
٢٠٢٤/٢٠٢٣



جامعة البصرة
كلية الإدارة والاقتصاد
قسم ادارة الاعمال
الدراسات الصباحية
والمسائية ..

ملاحظة : ١- الإجابة على ٥ اسئلة فقط ٢- الاسئلة تتكون من صفحتين ٣- توزع الدرجات بالتساوي

السؤال الأول / اختيار الاجابة الصحيحة ، ضع الاجابة في جدول من خلال كتابة رقم الفقرة وحرف الاجابة	
١	ان الاهداف و الاتصال و الشمول و التكيف و الاتساق و التميز و الارتباط هي عبارة عن خاص من يميز بها : A -النظام B- البيانات C- الاسترجاع D-المعلومات E- الكل صح F- الكل خطأ
٢ وتعني هذه العملية إيصال المعلومات والبيانات التي عولجت الى مستخدميهما بالوقت والشكل والمكان المناسب. A-الاسترجاع B-التخزين C-إعادة الانتاج D-التطبيق E- الكل صح F - الكل خطأ
٣ هي قدرة الحاسب على إعطاء اكثر من عملية او مهمة واحدة في الوقت نفسه من خلال اجهزة وبرامج خاصة A -المعالجة بالوقت الحقيقي B-المعالجة الموزعة C- المعالجة المتزامنة D-المعالجة الديناميكية E- الكل صح F- الكل خطأ
٤ تعد احد مكونات تكنولوجيا المعلومات. A -البيانات والمعلومات B- الإجراءات التنظيمية C- الاتصالات D- الموارد البشرية E- الكل صح F- الكل خطأ
٥	الوظيفة الرئيسة لنظام الاستفسار والاستجابة الفورية في المعالجة بالوقت الحقيقي هي : A -استرجاع المعلومات B-التجميع الفوري للبيانات C- معالجة المعلومات D-مراقبة وظائف معالجة المعلومات E- الكل صح F - الكل خطأ
٦	العلم الذي يهتم بالطرائق الحسابية والتشغيل والتخزين واستخدام ونشر المعلومات هو علم A - الإدارة B- الحاسوب C- بحوث العمليات D-الاقتصاد E- الكل صح F- الكل خطأ
٧	المرحلة الثالثة من مراحل تصميم النظام هي مرحلة التي تهدف الى تصنيف البيانات او اعادة ترتيبها وتنظيمها A - تطبيق المعلومات B- خزن المعلومات C- تصنيف البيانات D- معالجة البيانات E- الكل صح F- الكل خطأ
٨	ان نظام معلومات الموارد البشرية يتضمن في داخلة أنظمة فرعية اخرى مثل: A-استقطاب B-تدريب C- تعيين D-تحفيز E- الكل صح F- الكل خطأ
٩	ان دقة المعلومات وحدثة المعلومات ودلالة المعلومات وصلاحيه المعلومات هي عبارة عن: A - صفات المعلومات B- ابعاد المعلومات C- هرمية المعلومات D- تصنيف المعلومات E- الكل صح F- الكل خطأ
١٠	تتوقف طريقة اختيار معالجة البيانات على عدة عوامل، فيما يلي واحدة ليس منها. A حجم البيانات B- تعقيد البيانات C- العمليات الحسابية D- طبيعة الأنشطة E- الكل صح F- الكل خطأ

السؤال الثاني / الفرع أ : عدد خمس فقط من خصائص أنظمة المعلومات الإدارية.

السؤال الثاني/ الفرع ب: ضع علامة صح امام العبارة الصحيحة وخطأ امام العبارة الخاطئة من خلال كتابة الرقم والعلامة.

١	تشير الوقائع الميدانية الى ان تقنية المعلومات ساهمت في تحسين كل من الإنتاج وصناعة القرار وتعزيز علاقة الزبون وتطوير استعمال استراتيجية جديدة و تخفيض التكاليف .
٢	نظام تغذية البيانات الوظيفة الرئيسة لهذا العملية هي معالجة المعلومات وتسجيلها في أوساط التسجيل .
٣	التصنيف هي عملية التأكد من مطابقة البيانات التي جمعت مع المصادر التي استحصلت منها.
٤	الخبرة هي مجموعة معارف اختبرت وأثبتت وتخدم مواضيع كثيرة تم إثباتها وتجميعها وترقيتها.
٥	تتوقف طبيعة الاحتياج للأنظمة الحاسوبية على عدة عوامل رئيسة منها طريقة الاتصال بالذاكرة.

السؤال الثالث / عدد و اشرح بدقة و تركز الانظمة الفرعية الوظيفية لانظمة المعلومات الادارية.

السؤال الرابع / ارسم فقط ١- مستويات التراكم العلمي المبني على البيانات.

٢- الية عمل نظام تكنولوجيا المعلومات .

السؤال الخامس / الفرع أ : اطرح موضوع من الموضوعات التي درستها في مادة تكنولوجيا المعلومات الادارية والذي تجد نفسك متمكناً فيه ، وقدم شرحاً وافياً عنه مع ذكر الامثلة.

السؤال الخامس / الفرع ب : اكمل الفراغات التالية، ضع الاجابة في جدول من خلال كتابة رقم الفقرة والكلمات المناسبة.

١	خطوات الاختيار الجيد للعاملين في المنظمات تبدأ..... والتي في ضوئها توصف الوظائف بشكل تفصيلي.
٢	في بعض الأحيان يتطلب الامر معرفة تفصيلية بالجانب التنظيمي مع معرفة محددة بالجانب التقني وبذلك يكون من الأفضل سد الوظائف من الموارد البشرية من المصدر
٣	يتوقف اختيار نوع التدريب داخلياً او خارجياً على عوامل التكلفة المترتبة والوقت و.....
٤	التكنولوجيا تعني محاولة تطويع القوى لمصلحة
٥	كفاءة الحاسب لا تقاس بالسرعة، ولكن تقاس وهذا يساعد على تقليل وقت دورة الحاسب.

السؤال السادس / الفرع أ : - عدد فقط المتطلبات الادارية لتطبيق انظمة تكنولوجيا المعلومات .

السؤال السادس / الفرع ب : - صحح ما تحته خط ؟ ضع الاجابة في جدول من خلال كتابة رقم الفقرة ومقابلها الاجابة الصحيحة

١	النمو المتزايد في حجم المنظمات والصعوبات الكبيرة في مجال انشطتها والتعامل مع اطراف كثيرة تعد احد تحديات <u>تطبيق (ITS)</u> .
٢	التوقعات المبالغ فيها لقدرات تكنولوجيا المعلومات هي واحدة من متطلبات مراحل تصميم نظام تكنولوجيا المعلومات
٣	<u>نظام مراقبة العمليات</u> تقوم هذه العملية بوظيفة معالجة المعلومات، اذ بعد تجميع البيانات وتخزينها يتم معالجتها وتحويلها الى ملفات معدلة وبصورة فورية ومستمرة.
٤	تتمثل العلاقات والصلات بين الانظمة الفرعية المكونة للنظام بثلاثة طرق احدها (العلاقات على التوالي) التي تنص على <u>اذا كان لعنصرين او اكثر نفس المدخلات</u> .
٥	المدخل التكنولوجي الاجتماعي يركز على تحقيق الميزة من خلال تكنولوجيا المعلومات ، اذ تستخدم المنظمات موارد مفاهيمية فضلاً عن الموارد المادية الاخرى لتحقيق الاهداف.

مع تمنياتنا لكم بالنجاح

مدير القسم
أ.د. هادي/ عبد الوهاب عبد الامام

مدرس المادة
أ.م. زيد صابر/ ماجد

مدرس المادة
م.م. رنا عبدالله

العميد
أ.د. عبد الحسين توفيق شبلي



ملاحظة : الاجابة على خمسة اسئلة فقط و لكل سؤال (10 درجات) (يكون الجواب بالقلم الجاف حصراً)

س1 :- ضع علامة الدائرة على الخيار الصحيح(10 درجات)

• يجوز الجمع بين رئاسة وعضوية لجان فتح العطاءات ولجان تحليل وتقييم العطاءات

صح - خطأ

• لا تعفى الشركات العامة من تقديم التأمينات الاولية وخطاب ضمان حسن التنفيذ المنصوص عليها في هذه

التعليمات . صح - خطأ

• احدى شروط العقد (ليس من الضروري إن تكون صيغة العقد متماشية مع الانظمة والقوانين واللوائح)

صح - خطأ

• هي عبارة عن رسالة موجهة من صاحب العمل تصف العمل المراد انشاؤه بشكل مختصر تسمى هذه الوثيقة

-جدول وحدة الاسعار -الاتفاقية -خطاب الدعوة - جدول المواصفات - غير ذلك

• بموجب هذا النوع يتعهد المقاول بتحمل كافة أعباء تنفيذ المشروع بما في ذلك قيمة المواد واجور العمال وبقية

التكاليف المباشرة وغير المباشرة ، يسمى هذا النوع

-عقد التنافس -عقد تسليم المفتاح -عقد وحدة الاسعار - عقد المبلغ المقطوع - غير ذلك

س2 :- اجب عن فرعين فقط على إن يكون الفرع (أ) من ضمنها

أ-عدد النقاط التي على اساسها يتم استبعاد العطاءات من لجان التحليل(10 درجات)

ب-قارن بين شروط العقد الخاصة والعامة(5 درجات)

ج-اشرح اسلوب التعاقد العطاء الواحد (العرض الوحيد)(5 درجات)

س3:- اختر فرع واحد فقط

A-هناك نقاط تقارب ونقاط اختلاف بين ضوابط التوقف وضوابط التمديد ، وضح من خلال جدول مقارنه نقاط

الاختلاف .

B-ماهي النقاط التي يجب إن تتوفر عند تنظيم العقد من التشكيل الاداري للعقود من جهة التعاقد

س4:- يتم ذكر التأمينات والغرامات التأخيرية ومدة العقد والتمديد في بنود العقود، ماذا تعرف عن التأمينات ؟ تكلم

عنها على إن تكون الاجابة على شكل نقاط .

س5:- هل يجوز تقسيم نهاية العقد الاداري إلى نهاية اعتيادية ونهاية غير اعتيادية ؟ اجب عن فرع واحد فقط

A- اذا كان رأيك مخالف منطوق السؤال اكتب (كلا) مع التوضيح

B- اذا كان رأيك موافق منطوق السؤال اكتب (نعم) مع التوضيح

س6:- تختلف الاساليب عن انواع التعاقدات ، عدد الاساليب مع شرح ثلاث منهم بالتفصيل

تمنياً في لكم النجاح

رئيس القسم

أ.د. هادي عبد الوهاب عبد الامام

مدرس المادة

م. ثائر خلف خشان

العميد

أ.د. عبدالحسين توفيق شبلي



ملاحظة: الإجابة عن خمس اسئلة فقط

السؤال الاول: (10 درجة)

البيانات التالية تمثل مبيعات احدى الشركات موزعة حسب الفصول.

المطلوب // حساب التنبؤ بالكمية حسب الفصول إذا علمت ان الكمية المقدرة للسنة التالية 138 وحدة.

السنة	Q1	Q2	Q3	Q4
2019	10	12	22	19
2020	12	17	27	22
2021	14	15	40	27
2022	17	22	37	32

السؤال الثاني: (10 درجة)

الجدول التالي يقدم البيانات المستخلصة من سجلات شركة السدير للصناعات الكهربائية.

التفاصيل	2022	2023
كمية الإنتاج (وحدات)	200	500
أجور العمل المباشرة (دينار)	200	250
الطاقة المستهلكة كيلو واط	450	500
كلفة الطاقة (دينار)	250	300
كلفة المواد الأولية (دينار)	100	150

المطلوب //

- 1- حساب الإنتاجية الكلية لعام 2022 و 2023.
- 2- حساب الإنتاجية الجزئية (أجور العمل المباشر, الطاقة المستهلكة) لعامي 2022 و 2023.
- 3- حساب التغير في الإنتاجية لهذين العامين مع تفسير السبب.
- 4- حساب مؤشر الإنتاجية لعام 2023.

السؤال الثالث: (10 درجة) أجب عن كلا الفرعين الآتيين

الفرع الأول :-أجب بكلمة (صح) او(خطأ).

1. تغيير المدخلات من شكل الى اخر وجعلها ذات شكل اكثر منفعة تسمى منفعة حدية.
2. المخرجات عبارة عن الموارد التي تدخل في عملية التحويل للحصول على سلع وخدمات متعددة الاشكال او شكل واحد الكفاءة مقياس يوضح قدرة الشركة على تحقيق مجموعة من الاهداف.
3. الكفاءة مقياس يوضح قدرة الشركة على تحقيق مجموعة من الاهداف.
4. تحديد المرحلة التي وصل اليها المنتج في دورة حياته من شأنه ان يؤثر في اختيار الفترة التي سيغطيها التنبؤ قصير الامد او طويل الامد.
5. جمع البيانات اللازمة لأجراء التنبؤ تتم من مصدر موثوق تمهيدا " لإجراء التنبؤ ومصدر البيانات الوحيد هي سجلات مبيعات الشركات.

الفرع الثاني: املا الفراغات الاتية بما يناسبها.

1. هي مجموعة الاساليب العلمية التي تستخدم جميع الوسائل لغرض جمع وتحليل البيانات والتوصل الى نتائج تحدد مدى صلاحية المشروع.
2. هي جميع الانشطة المقترنة بعملية تحويل الموارد الى سلع وخدمات.
3. هو تقدير حجم المبيعات او الطلب خلال مدة زمنية محددة للمستقبل.
4. من العوامل التي يجب ان تؤخذ بنظر الاعتبار عند اختيار موقع المصنع هي 1.....2.....3.....
5. تمثل قدرة الشركة على تحقيق مجموعة من الاهداف.

السؤال الرابع: (10 درجة)

قامت وزارة الصناعة بتكليف ثلاث فرق للمختصين لدراسة امكانية انشاء معمل لصناعة اجهزة التبريد في ثلاث مناطق مختلفة ونتيجة الدراسة قدمت الفرق الثلاث المعلومات المتعلقة بتكاليف الانتاج وكما يأتي.

المطلوب// ما هو الموقع الامثل الذي يفترض ان تختاره وزارة الصناعة اذا كان حجم الانتاج المطلوب يساوي 4500 وحدة.

الموقع	التكاليف الثابتة (دولار)	التكاليف المتغيرة (دولار)/وحدة
المنطقة 1	130000	90
المنطقة 2	190000	70
المنطقة 3	400000	50

السؤال الخامس: (10 درجة)

ما المقصود بنظام الانتاج , وماهي العناصر التي يتكون منها هذا النظام. وضح ذلك معزراً اجابتك بالرسم ؟

السؤال السادس: (10 درجة)

يحاول مدير العمليات اعداد ترتيب ل احد خطوط التجميع المخصصة لإنتاج اجهزة (Video CD) بمعدل (500 وحدة) يومياً، والجدول التالي يبين النشاطات اللازمة لتجميع الجهاز الواحد وعلاقتها التتابعية والوقت القياسي لإنتاج كل نشاط علماً أن الخط الانتاجي يعمل بواقع (7 ساعات) عمل يومياً.

النشاط	النشاط السابق	الوقت القياسي (ثانية)
A	—	45
B	A	11
C	B	9
D	—	50
E	D	15
F	C	12
G	C	12
H	E	12
I	E	12
J	F,G,H,I	8
K	J	9

المطلوب// حساب ما يلي:

- 1- رسم مخطط الاسبقيات.
- 2- حساب الدورة الانتاجية.
- 3- حساب العدد النظري للمحطات.
- 4- حساب كفاءة خط الانتاج.
- 5- حساب نسبة الوقت الضائع ومقدار الوقت الضائع.
- 6- حساب الوقت الفائض.

مع تمنياتنا لكم بالنجاح

أ.د. عبد الحسين توفيق شبلي
العميد

أ.د. هادي عبد الوهاب
رئيس القسم

م.م. دعاء شهيد
مدرس المادة

أ.م.د. شذى احمد
مدرس المادة

المادة: ادارة المخاطر
المرحلة: الرابعة
الوقت: ساعتان
التاريخ: ١٧/ ١٢/ ٢٠٢٤



أسئلة الامتحان
النهائي
الدور - الثاني
الكورس الاول
للعام الدراسي
٢٠٢٤/٢٠٢٣



جامعة البصرة
كلية الإدارة والاقتصاد
قسم ادارة الاعمال
الدراسات الصباحية
والمسائية

ملاحظة الاجابة على اربعة اسئلة ، توزع الدرجات بالتساوي

من اختر الاجابة الصحيحة

١- ان الحق في استرداد القيمة للأوراق المالية حسب تاريخ الاستحقاق للاسهم الممتازة

أ- اجباري ب- غير ملزم ليس له تاريخ استحقاق ج- المتبقي غير ملزم ليس له تاريخ استحقاق د- ليس كل ما ذكر

٢- ان العلاقة بين البعد الزمني في الاوراق المالية والمخاطرة تكون علاقة

أ- عكسية ب- طردية ج- متناقصة د- لا توجد علاقة

٣- احدى هؤلاء ليست من خصائص السندات

أ- الخاصية القانونية ب- خاصية التداول ج- ليس لها تاريخ استحقاق د- الخاصية المالية

٤- تبني قرارات الاستثمار على

أ- مؤشر التداول ب- مؤشر العائد ج- مؤشر التداول والعائد د- ليس لها استراتيجية محددة

٥- ان استراتيجية ترك الموقف مفتوح تعني

أ- الاحتفاظ بمستوى الخطر كما هو عليه ب- تحديد مستويات الخطر التي يمكن تحملها ج- تدني الخطر الى الصفر د- كل ما سبق

س٢/ صحح ما تحته خط

١- مخاطر الأعمال هي المخاطر المرتبطة بالدخول في اتفاقيات تعاقدية مع اطراف اخرى مع عدم التأكد بالوفاء بالالتزامات تجاه هذه الاطراف.

٢- المستثمرين عديمي الخبرة هم الافراد الذين يقدمون الاستشارة والنصح للمستثمرين

٣- معيار التفاؤل هو معيار يعرّف فيه متخذ القرار عن الخطر ويفضل الامان

٤- حالة المخاطرة وهي حالة عدم توفر المعلومات عن الاحتمالات والبدائل ونتائجها وتوزيعاتها الاحتمالية

٥- تبني قرارات المضاربة على مؤشر العائد

س٣/ اكمل الفراغات التالية

١- مخاطر التنظية هي

٢- معيار الاسف هو

٣- من مخاطر السندات

٤- لمدى هو

٥- تقييم المخاطر هو

س٤/ قارن بين اثنين مما يلي:

١- السندات والاسهم العادية والاسهم الممتازة

٢- المخاطر المنتظمة والمخاطر غير المنتظمة

٣- المقاييس النوعية والمقاييس الرياضية (الكمية) في ادارة الخطر.

س٥/ تكلم بشكل مفصل عن طرق مواجهة الخطر

مع تمنياتي لكم بالنجاح

رئيس القسم

أ.د. هادي عبد الوهاب

مدرسة المادة

أ.م. وفاء علي سلطان

أ.د. زينب شلال عكار

العميد

أ.د. عبدالحسين توفيق شبلي



ملاحظة : - الإجابة عن أربعة أسئلة فقط ولكل سؤال (12.5 درجة)

س1 : أختَر الإجابة المناسبة لخمسة مما يأتي :

1. خيار مهم يتم اللجوء اليه لاستكشاف جوانب جديدة
أ. المعاشة الميدانية ب. الجولات الميدانية ج. اللقاءات مع مواطني الفروع د. جميع ما ذكر
2. هي عادات متعلقة بقضاء أوقات الفراغ
أ. نظم تربية ب. نظم دينية ج. نظم اخلاقية د. جميع ما ذكر
3. المديرون في الهند والمكسيك يعتمدون اسلوب : أ. اللامركزية في الادارة ب. المشاركة الجماعية في اتخاذ القرار
ج. الأسلوب الاوتوقراطي د. (أ+ب)
4. الخبرة التامة هي اهم متطلبات زيادة فاعلية أداء الشركات:
أ. المصدرة ب. الدولية ج. العالمية د. لا شيء مما ذكر
5. تمثل عوامل السوق المحلية، احدى العوامل: أ. المانعة للدخول في الإدارة الدولية ب. الدافعة للإدارة الدولية
ج. المحفزة للإدارة الدولية د. لا شيء مما ذكر
6. المؤشر الأكثر استخداماً في تحديد حجم الشركة :
أ. الحصة السوقية ب. مجموع الموجودات ج. عدد العاملين د. جميع ما ذكر

س2: اجب عن أحد الفرعين التاليين :

1. عدد أنواع الشركات؟ ذكراً أبرز خصائص كل منها بإيجاز؟ مدعماً اجابتك بالرسم ان تطلب ذلك؟
2. وضح بالتفصيل الدراسة التي قدمها Greet Hofstede مع التركيز على ابعادها الأساسية ؟

س3: صحح ما تحته خط :

1. الشركات المتعددة الجنسيات لا تواجه مشكلات تمويلية
2. المصنع الفعال يعني عمليات انتاج مرنة تسمح بإنتاج سلع وخدمات بناءً على رغبة وذوق المستهلك
3. اتساع انتشار التحالفات احدى مؤشرات عولمة الاستراتيجية
4. كان الامريكيون يرفضون شراء السلع الصينية لاعتقادهم انها سيئة الصنع وبسبب حريهم معهم .
5. إنبيعاث القوى الجديدة من مراحل تطور الإدارة الدولية والتي يبرز فيها دور المستهلك والمنافسين والظروف الاقتصادية

س4: وضح الاتفاقية العامة للتجارة والتعرفة (الجات GATT) ؟

س5: بين من خلال الشرح علاقة الثقافة بالنظم الاجتماعية مدعماً اجابتك بالرسم ان تطلب ذلك؟

العميد
أ.د. عبد الحسين توفيق شبلبي

رئيس القسم
أ.د. هادي عبد الوهاب عبد الامام

مدرس المادة
أ.م.د. محمد صالح هادي

المادة: منهج البحث
العلمي
المرحلة: الرابعة
الوقت: ساعتان
التاريخ: ٢٠٢٤/٨/١٨



أسئلة الامتحان
النهائي
الدور - الثاني
الكورس الاول
للعام الدراسي
٢٠٢٣/٢٤



جامعة البصرة
كلية الإدارة والاقتصاد
قسم ادارة الاعمال
الدراسات الصباحية
والمسائية

ملاحظة / الاجابة على خمسة اسئلة فقط . توزع الدرجات بالتساوي ولكل سوال ١٠ درجات .

س١/ اختر الاجابة الصحيحة من بين الاقواس لكل مما يأتي :

- ١- عملية تقديم واعية لموضوع البحث وابعاده واهميته . (المشكلة - الفرض - المقدمة - الملاحظة)
 - ٢- توافر الامكانيات المادية من ضمن (شروط اختيار مشكلة البحث - شروط عنوان البحث - نقاط مقدمة البحث - كل مما ذكر صحيح)
 - ٣- عملية التنبؤ الآتي تمر بمراحل عديدة تجري عليها عمليات مختلفة منها (الرسم البياني - التحليل والمقارنة - التنبؤ الكمي - كل مما ذكر خطأ).
 - ٤- صدق الملاحظة من ضمن (تخطيط الملاحظة - تدوين الملاحظة - مزايا الملاحظة - اجراءات الملاحظة) .
 - ٥- السجلات والوثائق من مصادر (المشكلة - المنهج التاريخي - مقدمة البحث - عنوان البحث).
- س٢/ املأ الفراغات الآتية بما يناسبها :

- ١- يتم تبويب البيانات في جداول على الاساس ----- او ----- او -----
- ٢- الاختبار بالاستقراء (التام او الناقص) من اساليب -----
- ٣- ----- تتضمن معارف علمية وغير علمية .
- ٤- من اساليب صياغة الموضوع ، بشكل تأثير يحتاج فيه الباحث الى -----
- ٥- ان تحديد ----- و----- تعد من اولويات الباحث ومن اكثر المصاعب التي تواجهه .

س٣/ ما هو الفرق بين : ١- الملاحظة بالمشاركة وبدون مشاركة ٢- الاتساق الداخلي والاتساق الخارجي

٣- اشكال المنهج الوصفي واشكال التصميم التجريبي

س٤/ عدد فقط لكل مما يأتي : ١- صفات التفكير العلمي ٢- انواع الجداول في اساليب تصنيف البيانات

٤- الاجراءات التي ينبغي ان يقوم بها الباحث لأجراء المقابلة

س٥/ ماهي انواع الاستبان ، عددها فقط ؟ وما مزاياه ؟

س٦/ اذكر الشروط التي ينبغي توافرها في عنوان البحث ؟ وما الفقرات التي يتضمنها الهدف من اختيار موضوع البحث (هدف البحث)؟

مع تمنياتي لكم بالنجاح

العميد

د . عبدالحسين توفيق شيلبي

رئيس القسم

أ.د. هادي عبد الوهاب

مدرس المادة P

محمد عبد الرضا

م.م ياسمين السعيد



ملاحظة : الإجابة على 5 اسئلة فقط

السؤال الأول/ ماهي الصور التي يأخذها التفاوض في المجال التجاري . وضحتها بالتفصيل.

(10 درجات)=====

السؤال الثاني

الخصم المتقلب هو أحد أنماط المفاوضين. فكيف يمكنك التصرف مع هذا النمط من المفاوضين

(10 درجات)=====

السؤال الثالث

السياسة التفاوضية تعد المفتاح الرئيس لمعرفة منهج الطرف الاخر الذي سيستخدمه في التفاوض. اشرح بالتفصيل سياسة التنازل المتدرج للقضية التفاوضية، مع ذكر وشرح السياسة المضادة والمناسبة للتعامل معها.

(10 درجات)=====

السؤال الرابع

هناك عدة أساليب لممارسة الضغط على الطرف الاخر في المفاوضات. ماهي؟ وضحتها بالتفصيل.

(10 درجات)=====

السؤال الخامس

لعملية التفاوض مجموعة من المبادئ التي تعد بمثابة القاعدة الأساسية التي يجب ان يتحلى بها كل مفاوض ناجح ويحرص ان تكون متوفرة لديه. ماهي هذه المبادئ عدد عشره منها فقط

(10 درجات)=====

السؤال السادس /


وضح بالتفصيل أنواع المعارف التي يجب توفرها في المفاوض الناجح

(10 درجات)=====

مع تمنياتي لكم بالنجاح


العبد

أ.د. عبدالحسين توفيق شبلبي


رئيس القسم

أ. د. هادي عبد الوهاب



مدرس المادة
م.م. رنا عبدالله

المادة: إدارة المعرفة
المرحلة: الرابعة
الوقت : ساعتان
التاريخ: 2024 / 7 / 13



أسئلة الامتحان
النهائي
الدور - الثاني
الكورس الثاني
للعام الدراسي
2024/2023



جامعة البصرة
كلية الإدارة والاقتصاد
قسم ادارة الاعمال
الدراسات الصباحية
والمسائية

ملاحظة : الإجابة عن أربعة أسئلة فقط لكل سؤال (12.5 درجة)

س1 : اختر الإجابة الصحيحة من خلال وضع دائرة حول الخيار الصحيح :
1. المنظمات التي تركز في نظرتها على المعرفة بأنها وسيلة للوصول الى الغاية أ . الصناعية ب. الخدمية ج. الخدمية و الاستشارية د. الانتاجية
2. ركزت نظرية على تفاعل المعرفة الجديدة مع المختزنة في الذاكرة لتشكيل صورة لحل المشاكل أ . الملكات ب. الترابطية ج. تعلم المعرفة د. توليد المعرفة
3. العلم الذي اهتم بالأنواع المختلفة للمعرفة وركز على كيف ولماذا يتعلم الافراد او ينسون او يتجاهلون او يقشرون في التعامل مع المعرفة هو أ . علم الاجتماع ب. الفلسفة ج. علم النفس د. (ب+ج)
4. التدريب من قبل زملاء الخبرة القدامى هو أسلوب من أساليب أ . توليد المعرفة ب. نقل وتوزيع المعرفة ج. تطبيق المعرفة د. تنظيم المعرفة
5. عند فإن دورة حياة إدارة المعرفة يعبر عنها بعمليات تبدأ ب(توليد المعرفة والتوزيع وتنميتها وفي المرحلة الأخيرة تطبيق المعرفة) أ . (McElroy ,2000) ب. (Rastogi ,2000) ج. (Heisig,2001) د. (Oxbrow & Abell,1998)
س2 : اجب عن احد الفرعين التاليين :
1. وضح وبشكل علمي العلاقة ما بين البيانات والمعلومات والمعرفة , مع استعراض وجهة نظر (Tuomi,1999)? مدمعاً اجابتك بالرسم ان تطلب ذلك؟
2. وضح خصائص المعرفة وعناصر تميزها ؟
س3: بين مصادر المعرفة واعطي مثلاً لكل مصدر؟
س4: وضح نماذج كلاً من (Wiig ,1998), (Vetshera & Roszegi,2000) بشكل علمي ومعرزاً اجابتك بالرسم؟
س5: اشرح مدارس إدارة المعرفة واهم الأمور التي ركزت عليها كل مدرسة ؟

مع تمنياتي لكم بالنجاح

العمية
أ.د. عبدالحسين توفيق شبلي

رئيس القسم
أ.د. هادي عبدالوهاب

مدرس المادة
أ.م.د. محمد صالح هادي

المادة: حوكمة الشركات
المرحلة: الرابعة
الوقت: ساعتين
التاريخ: 2024 / 7 / 4



أسئلة الامتحان
النهائي
الدور - الثاني
الكورس الثاني
للعام الدراسي
2024/2023



جامعة البصرة
كلية الإدارة والاقتصاد
قسم ادارة الاعمال
الدراسات الصباحية
والمسائية

ملاحظة/ الاجابة عن خمسة أسئلة فقط (توزع الدرجات بالتساوي)

السؤال الاول/

وضح اهم التحديات التي تواجه تطبيق حوكمة الشركات في اقتصاديات الدول النامية والصاعدة والانتقالية؟

السؤال الثاني/ اجب عن احد الفرعين:

الفرع الاول: وضح بمقارنة تفاصيل حاكمية المنظمة بين نظرية المساهمين ونظرية اصحاب المصالح ؟

الفرع الثاني: نصت اتفاقية بازل فيما يتعلق بأخلاقيات الاعمال ضمن النسختين المعدلتين سنتي 2005&2006 على مجموعته من الفقرات وضحها بالتفصيل؟

السؤال الثالث/ وضح ما لمتصود بالمفهوم العام للحوكمة، وكيف يمكن بلورة اهميتها في الشركات؟

السؤال الرابع/

تعد ظاهرة الفساد الاداري والمالي من المظاهر العالمية شديدة الانتشار وذات جذور عميقة، وتأخذ ابعاداً وانواعاً وواجهاً متعددة، وضح بالتفصيل ما هو انواع الفساد؟

السؤال الخامس/ اجب عن احد الفرعين:

الفرع الاول: يجب على مجلس الادارة القيام ببعض المهام الرئيسية، وضح هذه المهام بالتفصيل؟

الفرع الثاني: املئ الفراغات التالية:

- 1- ان الأطراف المشمولة بحوكمة الشركات والخاضعة للمسائلة المحاسبية هي بينما الأطراف المستفيدة من حوكمة الشركات هي
- 2- تحدث ادم سميث عن نظرية الوكالة عندما لاحظ عدم وجود قواعد واضحة بين و
- 3- تظهر مشكلة الاتجاه المعاكس عندما لا يتحقق
- 4- يعتبر صاحب المصلحة في الشركة هو.....
- 5- من الطبيعي ان يتم تشكيل لجان مجلس الادارة بموجب احتياجات و

السؤال السادس/ عدد فقط ما يلي:

- 1- قواعد(دعائم) حوكمة الشركات.
- 2- المؤسسات المفترض ان تطبق الحوكمة.
- 3- مبادئ حوكمة الشركات.

****مع خالص تميّنا لك بالبحاح والتوفيق****

م.م. هبة ياسين عبدالله

مدرس المادة

أ.د. مكي عبدالوهاب
رئيس القسم

م.م. د. هادي شهيد حبيب

مدرس المادة

المادة: ادارة المحفظة الاستثمارية
المرحلة: الرابعة
الوقت: ساعتان
التاريخ: ٢٠٢٤
١٧١٦



أسئلة الامتحان
النهائي
الدور - الأول
الكورس الثاني
للعام الدراسي
٢٠٢٤/٢٠٢٣



جامعة البصرة
كلية الإدارة والاقتصاد
قسم ادارة الاعمال
الدراسات الصباحية
والمسائية

ملاحظة :- الاجابة عن اربعة اسئلة - (توزع الدرجات بالتساوي)

س١// توفرت لديك البيانات التالية عن شركة الرواد وهي كالاتي :-

الاسهم	الاحتمالات	العوائد
١	20%	13
٢	20%	17
٣	20%	15
٤	20%	15
٥	20%	20

م// احتساب العائد المتوقع والمخاطرة للسهم ؟

س٢// تتألف المحفظة الاستثمارية من اسهم سوق امريكا واسهم سوق المانيا وكما في البيانات الاتية :-

الاوراان	الانحراف المعياري	العائد المتوقع
0.30	15%	14%
0.70	20%	18%

علما ان معامل الارتباط (0.50)

م// حساب العائد المتوقع للمحفظة وحساب المخاطرة المتوقعة للمحفظة

س٣// توفرت لديك البيانات التالية :-

المحافظ الاستثمارية	E(R)	الانحراف المتوقع	معامل بيتا
أ	6.2	2.5	1.2
ب	4.1	1.6	2.3
ج	6.9	0.8	0.8
د	7	2.2	2.2
هـ	10	0.75	0.75

م// حساب مؤشر ترينور علما ان العائد الخالي من المخاطرة (4%) ثم رتب المحافظ حسب الاداء

يتبع

س ٤ / اجب عن ما يأتي :-

- أ- وضح اشكال كفاءة السوق بالتفصيل ؟
ب- بين الاستراتيجيات الفعالة في تنويع المحفظة الاستثمارية ؟

س ٥ // قارن فيما يلي :-

- أ- وضح الفرق بين المحفظة الاستثمارية المحلية والمحفظة الدولية ؟ معززا الاجابة بالرسم
ب- وضح الفرق بين المخاطرة النظامية والمخاطرة اللانظامية

مع تمنياتي لكم بالنجاح

مدير القسم
أ.د. هادي عبد الوهاب

أ.م.د. ندى عبد القادر

مدرستا المادة

أ.د. زينب شلال

العميد
أ.د. عبد الحسين توفيق شبلبي



ملاحظة : الإجابة على خمس اسئلة فقط

السؤال الاول:-..... (10 درجة)

السؤال الثاني:- فرع B/ ترغب شركة الرواد لتصنيع قناني المشروبات الغازية بالسيطرة على قطر فوهة القنينة اذ يعد ذلك من الامور الحرجة للحفاظ على صلاحية المنتج المعبأ في القنينة. تم سحب خمس عينات من خط الانتاج وتولى ضبط الجودة قياس قطر فوهة القناني، وكانت نتائج القياس كما يلي:

قطر فوهة القنينة (مم)					العينة
18	15	17	16	14	1
17	15	14	16	16	2
15	14	18	13	17	3
15	18	16	16	16	4
16	12	15	17	14	5

- المطلوب: 1. حساب حدود لوحة الضبط الاحصائي للوحة المدى ولوحة الوسط الحسابي اذا علمت ان قيمة $D3 = 0$ وقيمة $D4 = 2.115$ وقيمة $A2 = 0.577$
- رسم لوحة المدى ولوحة الوسط الحسابي
- بيان ما اذا كانت العملية تحت الضبط الاحصائي ام لا؟

السؤال الثاني:- حدد الاجابة الصحيحة لكل مما يأتي:-..... (10 درجة)

- تشير الى القدرة على اداء الخدمة بطريقة ملائمة وبأسلوب يعتمد عليه
a. التعاطف b. الموثوقية c. المعاولية d. الملموسية e. غير ذلك
- الجودة هي ملائمة المنتج للاستخدام من وجهة نظر:-
a. كروسبي b. جوران c. ديمينغ d. ايشيكواوا e. غير ذلك
- من وجهة نظر Garvin ان صنع منتجات او تقديم خدمات خالية من العيوب من خلال مطابقتها لمواصفات التصميم هو
a. مدخل الزبون b. مدخل المستهلك c. مدخل التصنيع d. مدخل المنتج e. غير ذلك
- ان العملية التي يقاس من خلالها الاداء الفعلي ويتم مقارنته مع مواصفة ما وكذلك يتخذ الاجراء التصحيحي عند وجود اختلافات بينهما تسمى
a. ضبط التصميم b. ضبط الجودة c. ضبط الفحص d. ضبط العملية e. غير ذلك
- اول من نادى بفكرة حلقات حلقات الجودة هو
a. Crosby b. Feigenbaum c. Juran d. Ishikawa e. غير ذلك

السؤال الثالث:-..... (10 درجة)

استعانت شركة السدن للصناعات النسيجية بأحد المكاتب الاستشارية لحساب كلف الجودة لديها، وتم استحصال المعلومات الاتية:-

في عام 2023 قدرت مبيعات الشركة (500000) دينار وكلف الانتاج (200000) دينار ، كما بلغت ساعات العمل (200000) ساعة وكانت كمية الانتاج (50000) وحدة اما كلف الجودة لذلك العام فكانت وفق الجدول الاتي

انواع كلف الجودة	كلف الواقية	كلف التقييم	كلف الفشل الخارجي	كلف الفشل الداخلي
مقدار الكلفة (دينار)	300000	150000	200000	100000

المطلوب :- حساب مؤشرات قياس كلف الجودة الاربع (مؤشر العمل ، مؤشر الكلفة ، مؤشر المبيعات، مؤشر الوحدة المنتجة)

السؤال الرابع:- أملأ الفراغات الآتية :- (10 درجة)

- ١- يهدف مؤشر.....الى تحديد ما اذا كانت العملية لها القدرة على انتاج سلع اوخدمات قريبة من الحد الأدنى او الأعلى من خصائص العملية.
- 2-.....المقصود بها احتمالية اداء المنتج بكفاءة ومن دون توقف لمدة زمنية وتحت ظروف تشغيلية محددة سلفاً
- 3- تعرف مخططات او لوحات ضبط الجودة بأنها وسيلة رسم توضيحية تبني على نتائج.....وتستخدم للحصول على استنتاجات عن دور ضبط الجودة في العملية الانتاجية.
- 4- بعد.....يشير الى اظهار الاهتمام الشخصي والعناية من قبل العاملين في المنظمة بالزبائن .
- 5- طبقاً لمصفوفة العلاقة بين الجودة والكلفة، عندما تكون الكلفة عالية والجودة عالية فإن الحصة السوقية ستكون.....

السؤال الخامس:-.....(10 درجة)

الفرع (أ) وضح بالرسم فقط (5 درجة)

- 1- خطوات ضبط الجودة
- 2- اكلف الجودة المباشرة وغير المباشرة

الفرع(ب):- تتكون عملية ضبط الجودة من مجموعة وظائف، ماهي هذه الوظائف عددها بشكل واضح ودقيق؟ (5 درجة)

السؤال السادس:-.....(10 درجة)

تشكل السلع والخدمات التي تتميز بالجودة العالية اهمية استراتيجية كبيرة للمنظمة والبلد الذي تنتج فيه المطلوب:- وضح بالتفصيل اهمية الجودة.

التعميد
د. عبدالحسين توفيق

رئيس القسم
د. هادي عبد الوهاب

مدرس المادة
د. راضي عبدالله

مدرس المادة
د. عباس عبدالحميد